

▼ ()にあてはまることばを、右段を参考にして、書き入れよう。

1 アジア州

(1) 自然環境

- 地形…中央部にはチベット高原や(①)山脈。海岸部には黄河^{ホワンホー}、(②)、メコン川、ガンジス川、インダス川などの大河が流れ、流域に平野が広がり、中国の内陸部やアラビア半島には砂漠^{さばく}が広がる。
- 気候…北部に寒帯や(③)帯、内陸部や西アジアに乾燥^{かんそう}帯、東アジアに温帯、東南アジアから南アジアに熱帯。東部は季節風^{えいせきふう}[(④)]の影響。

(2) 人々の暮らし

- 中国では、人口増加をおさえるため、「(⑤)政策」をとっていた。
- 西アジアの文化はアラビア語と(⑥)教が中心となっている。
- 中国は、漢族^{かんぞく}のほか55の少数民族がくらす(⑦)国家。

(3) アジアの産業の変化

- 1970年代以降…アジアNIES[新興工業経済地域]が発展。その後、ASEAN[(⑧)]諸国で工業化が進展。
- 1990年代以降…中国・インドは急速な経済発展をとげてBRICS^{ブリックス}の一員となる。

2 ヨーロッパ州

(1) 自然環境

- 地形…高くけわしい(①)山脈。北部の沿岸部は氷河によりできた(②)。中央部の平野には、ライン川などの(③)河川。
- 気候…暖流の(④)海流と(⑤)風の影響で温暖。

(2) 多くの国々

- さまざまな国々…ほとんどの国が日本より面積が小さい。(⑥)系・ラテン系・スラブ系言語や民族。多くがキリスト教の信者。
- 歴史…15世紀以降、世界各地に進出し、(⑦)を形成。18世紀後半イギリスで(⑧)がおり、近代工業が発達。20世紀以降は地位が低下。

(3) 産業

- 農業…南部で地中海式農業、北西部・東部で(⑨)農業、北部で酪農^{らくのう}。
- ヨーロッパ連合[EU]…2020年にイギリスがEUを離脱し、20年現在、27の加盟国間で人やものの移動が自由。域内で共通通貨の(⑩)を使用。
- 工業…ミュンヘンなどでハイテク[先端技術^{せんたんぎじゆつ}]産業が成長。

(4) ロシア連邦^{れんぽう}

広大な国土。タイガ。豊富な木材資源・鉱産資源^{こうさん}。海外からの企業進出^{きぎょう}がさかん。

3 アフリカ州

(1) 自然環境

- 地形…大部分が高原や台地。北部に世界最大の(①)砂漠。北部に世界最長の(②)川が地中海にそそぐ。



Plus 1

▼これ何の略称？

▶ASEAN[東南アジア諸国連合]：アセアン域内の平和・安全・経済発展をめざす組織。加盟10か国。

▶NIES[新興工業経済地域]^{しんこう}

アジアNIES：韓国・台湾・ホンコン・シンガポール

▶APEC[アジア太平洋経済協力会議]：アジア太平洋地域の貿易自由化、地域協力の推進をめざす。

▶BRICS[ブリックス]：ブラジル、ロシア連邦、インド、中国、南アフリカ共和国の頭文字。経済発展の目覚ましい国々。

▼中国で最多の民族は？

▶漢族：中国人の9割。残りの1割を55ほどの少数民族で構成。

▼ヨーロッパの農業

▶地中海式農業：乾燥する夏はオリーブなどを、雨の降る冬は小麦^{さいばい}を栽培。

▶混合農業：穀物と飼料作物を栽培し、牧畜^{ぼくちく}も行う農業。

▶酪農：乳牛を飼育し、乳製品を生産する農業。

- 気候…赤道をはさんで南北に熱帯・乾燥帯・温帯が分布。

(2) 歴史と文化

- 歴史…20世紀前半にかけて、広い地域がヨーロッパ諸国の(③)となり、独立国家となった現在でも、民族間の対立などによる紛争が絶えない。
- 文化…各地で民族独自の言語や宗教。

(3) 産業

- 農業…ヨーロッパ人が始めた(④)農業や伝統的な焼畑農業。
- 鉱産資源…北アフリカなどで(⑤)。各地で希少金属[レアメタル]。

4 北アメリカ州

(1) 自然環境

- 地形…西部のけわしい(①)山脈と東部のなだらかなアパラチア山脈の間に中央平原が広がり、(②)川が流れる。
- 気候…北緯40度以北は冷帯と寒帯、東部と西部は温帯、西部には砂漠も。

(2) 民族と文化

- 多民族(多文化)社会…ヨーロッパからの移民が開拓。ヨーロッパ系・アフリカ系・スペイン語を話す(③)・アジア系など多様な人々。
- アメリカ文化…快適さ・便利さの追求。大量生産し大量消費する生活様式。

(3) 産業

- 農業…アメリカは「(④)」とよばれる農産物生産国。適地適作で、とうもろこし・小麦などを機械化による(⑤)な農業で生産、輸出。
- 鉱工業…アメリカは豊富な鉄鉱石・石炭・石油を利用して世界一の工業国に。五大湖沿岸・大西洋岸に工業地域。シリコンバレーや北緯37度以南の(⑥)にはハイテク[先端技術]産業が発達。
- 世界への影響力…多くの国がアメリカとの貿易に依存。多国籍企業の進出。

5 南アメリカ州

(1) 自然環境

- 地形…西側にけわしい(①)山脈。流域面積最大のアマゾン川。
- 気候…アマゾン川流域に熱帯雨林、ラプラタ川の中・下流域は温帯、南端に寒帯。

(2) 歴史と文化

- (①)山脈…15世紀にインカ帝国。16世紀にはスペイン人が侵入。
- 多民族…先住民の(②)、ヨーロッパ系の混血[メスチソ]、移民など。

(3) 産業

- 農業…コーヒーなどを生産する大農場[(③)]。セルバで焼畑農業。
- 鉱工業…ブラジルの(④)、チリの銅など鉱産資源が豊富。

6 オセアニア州

(1) 自然環境と社会

- オセアニアの国々…オーストラリア大陸[(①)大陸]と太平洋の島々。
- オーストラリアなどはイギリスの移民が開拓。先住民はアボリジニやマオリ。

(2) 産業

- (②)(国)…牧羊。豊富な鉱産資源。日本などアジアとの貿易拡大。

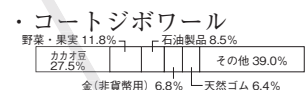
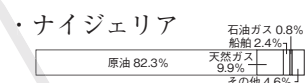
▼サヘルってどこ？

▶サヘル：サハラ砂漠南側に帯状に広がる地域。気候変動、過放牧、過耕作によって砂漠化が拡大している地域。

▶サハラ砂漠：アフリカ北部の世界最大の砂漠。

▼モノカルチャーとは？

種類の少ない商品作物や鉱産資源の生産・輸出で成り立つ経済のこと。



▲輸出品の特徴 (2018年) (2020/21年版「世界国勢図会」)

▼注意！ 南アフリカ共和国はBRICSの一員

レアメタルなどの豊かな鉱産資源を輸出。→工業化促進→経済成長

▼アメリカのハイテク産業地域をCheck!

▶サンベルト：北緯37度以南の地域。

▶シリコンバレー：サンフランシスコ郊外の地域。

▼先住民の名前に注意！

▶オーストラリア：アボリジニ

▶ニュージーランド：マオリ

練習問題

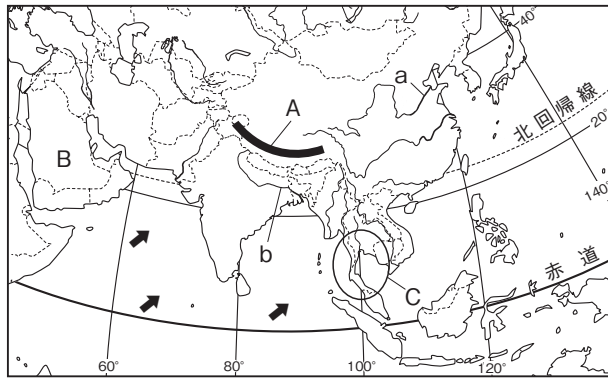
1 アジア州 右の地図を見て、次の問いに答えなさい。

□(1) アジアの気候に影響をあたえる➡の風を何というか。

□(2) Aの山脈名を答えよ。

□(3) a・bの河川名を、次のア～エから1つずつ選び、記号で答えよ。

- ア チンチアン長江 イ ガンジス川
- ウ ホリンホー黄河 エ メコン川



□(4) Bの半島の人々がおもに信仰している宗教は何か。

□(5) アジアには世界の人口の約何割が集まっているか。

□(6) Cの地域で生産がさかんな農作物を、次のア～エから1つ選び、記号で答えよ。

- ア 小麦 イ コーヒー
- ウ 綿花 エ 米

□(7) 中国・インドは近年、急速に工業化が進み経済発展をとげ、同じような他の国とともに()の一員となっている。()にあてはまる語句を、次のア～エから1つ選び、記号で答えよ。

- ア アセアン ASEAN イ イユー EU
- ウ ブリックス BRICS エ エイベック APEC

1

(1)	
(2)	
(3)	a
	b
(4)	
(5)	
(6)	
(7)	

2 ヨーロッパ州 右の地図を見て、次の問いに答えなさい。

□(1) Aの暖流名、Bの山脈名を答えよ。

□(2) a・bの河川名を、次のア～エから1つずつ選び、記号で答えよ。

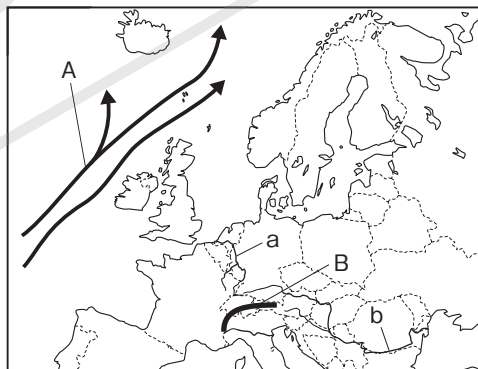
- ア ドナウ川 イ ナイル川
- ウ ローヌ川 エ ライン川

(3) ヨーロッパでさかんな次の①～③の農業を、それぞれ何というか。あとの〔 〕から1つずつ選んで語句を答えよ。

- ① 小麦などの栽培と家畜の飼育を組み合わせた農業
- ② 夏はオリーブ・ぶどう、冬は小麦を栽培する農業
- ③ 乳牛を飼育し、バター・チーズなどを生産する農業
〔 ちゅうかい地中海式農業 しょうねい焼畑農業 らくのう酪農 こんごう混合農業 〕

□(4) 1993年に成立したヨーロッパの国々による組織を何というか。また、加盟国内の共通通貨を何というか。それぞれ答えよ。

□(5) (4)の加盟国内で行われているような関税がないこと、行き来が自由であることなどを利用した、国境を越えた技術協力を何というか。

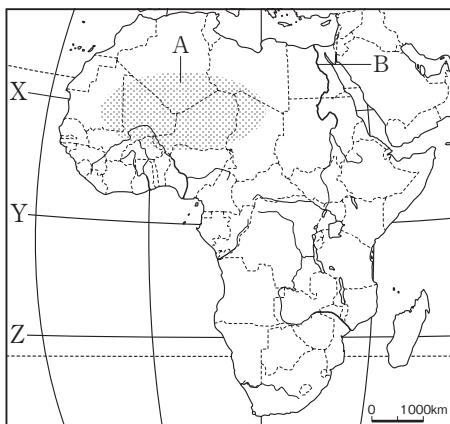


2

(1)	A
	B
(2)	a
	b
(3)	①
	②
	③
(4)	組織
	通貨
(5)	

3 アフリカ州 右の地図を見て、次の問いに答えなさい。

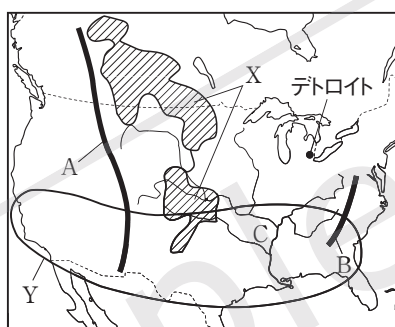
- (1) Aの砂漠と、Bの河川名を答えよ。
- (2) Aの南側の地域は砂漠化が急速に進んでいる。この地域(地帯)を何というか。
- (3) X～Zの緯線のうち、赤道にあたるものを1つ選び、記号で答えよ。
- (4) アフリカの全域は、一部をのぞいて1950年代以前はヨーロッパ諸国の何であったか。
- (5) 近年アフリカで生産が増加している、先端技術産業で必要な鉱産資源は何か。



	A
(1)	B
(2)	
(3)	
(4)	
(5)	

4 北アメリカ州 右の地図を見て、次の問いに答えなさい。

- (1) A・Bで示した山脈のうち、高くけわしいのはどちらか。記号と山脈名を答えよ。
- (2) Cの河川名を答えよ。
- (3) アメリカは、多様な人種・民族が暮らし、それぞれの出身国の文化を尊重する社会である。このような社会を何というか。
- (4) 次の文中の()にあてはまる語句を答えよ。



- アメリカの農業は、自然条件に適した農作物を栽培する(①)で、機械化の進んだ大規模な(②)的な農業経営が行われている。
- (5) Xの地域で生産がさかんな農作物を、次のア～エから1つ選び、記号で答えよ。
ア 綿花 イ 小麦 ウ とうもろこし エ 米
 - (6) Yの地域では、先端技術産業がとくにさかんである。この地域を何というか。
 - (7) 地図中のデトロイトでさかんな工業を、次のア～エから1つ選び、記号で答えよ。
ア 鉄鋼 イ 食品 ウ 自動車 エ 宇宙・航空機

(1)	
(2)	
(3)	
(4)	①
(5)	②
(6)	
(7)	

5 南アメリカ州 次の各問いに答えなさい。

- (1) 南アメリカ州の自然について、次の文中の()にあてはまる語句を答えよ。
大陸の西側には南北にけわしい(①)山脈が連なる。北部には流域面積が世界最大の(②)川が流れ、流域には(③)林が広がっている。
- (2) ブラジルについて、次の問いに答えよ。
 - ① コーヒーなどを栽培する大規模な農場を何というか。
 - ② 産出が多く、日本にも輸出されている鉱産資源を、次の〔 〕から1つ選べ。
〔 石油 石炭 銅 鉄鉱石 〕

	①
(1)	②
	③
(2)	①
	②

6 オセアニア州 次の各問いに答えなさい。

- (1) オーストラリア大陸の内陸部は、どのような気候帯に属するか。
- (2) オーストラリアの東部で産出の多い鉱産資源を、次の〔 〕から1つ選べ。
〔 石油 鉄鉱石 ポーキサイト 石炭 〕

(1)	
(2)	