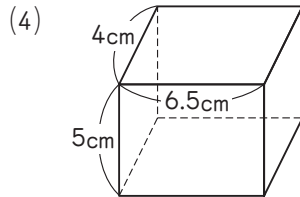
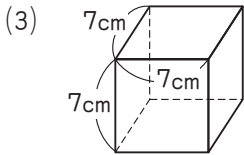
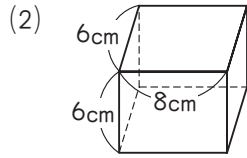
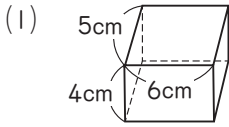


確認テスト

4 体積

学習日	月	日	得点
名前			/100点

1 次の直方体や立方体の体積は何 cm^3 ですか。



1 8点×4 /32点

(1)	<input type="text"/>	cm^3
(2)	<input type="text"/>	cm^3
(3)	<input type="text"/>	cm^3
(4)	<input type="text"/>	cm^3

2 次の にあてはまる数を書きなさい。

(1) $7\text{m}^3 = \text{ } \text{cm}^3$

(2) $6\text{L} = \text{ } \text{cm}^3$

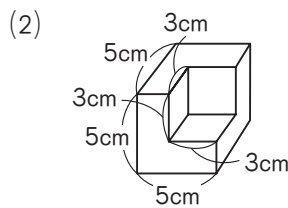
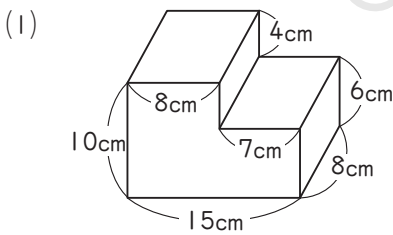
(3) $0.4\text{m}^3 = \text{ } \text{L}$

(4) $450\text{L} = \text{ } \text{m}^3$

2 8点×4 /32点

(1)	<input type="text"/>
(2)	<input type="text"/>
(3)	<input type="text"/>
(4)	<input type="text"/>

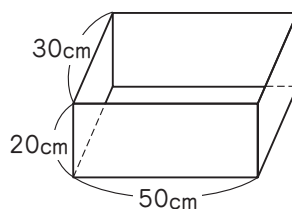
3 次の図は、直方体を組み合わせた形です。この形の体積は何 cm^3 ですか。



3 9点×2 /18点

(1)	<input type="text"/>	cm^3
(2)	<input type="text"/>	cm^3

4 右の図のような直方体の形をした水そうがあります。



(1) この水そうにいっぱいに入ると、何Lの水が入りますか。

4 9点×2 /18点

(1)	<input type="text"/>	L
(2)	<input type="text"/>	cm

(2) この水そうに12Lの水を入れると、水の深さは何cmですか。