

この本の特色

この本は、中学入試合格をめざす6年生のみなさんが、社会の総まとめを冬休みの集中学習を通して効果的にすすめることができるようにつくられたものです。

収録されている問題は、過去の中学入試問題を研究・分析したうえで、最近の出題傾向に合わせて編集しました。また、標準的なレベルの問題で知識の整理を行ったあとに、問題演習ができるように構成してあります。

この本の使い方

- **基本問題**……単元や分野の内容を、短い文にことばをあてはめながら確かめる問題です。基礎的な事からまとめていきましょう。
- **練習問題**……各テーマごとに重要な問題を取りあげています。「基本問題」で確かめた知識を引き出しながら解いてみましょう。「入試直前対策」では、いろいろな解答形式でまとめてありますので、集中的に解いて、力をつけていきましょう。
- **応用問題**……単元内容の総合問題で、「練習問題」よりも少しむずかしくなっています。応用力や発展的な実力を高めていきましょう。

も く じ

小6・社会

1 地理のまとめ	2
2 歴史のまとめ	18
3 公民のまとめ	34
4 入試直前対策	50
数字でまとめてみよう	66
略称をまとめてみよう	67
カタカナことばをまとめてみよう	68

1 地理のまとめ


基本問題

1 日本の農業 ()にあてはまることば・数字を答えなさい。

- (1) 「ひとめぼれ」や「あきたこまち」という米の品種は、新潟県などで生産がさかんな「()」という米の品種を改良してできました。
- (2) 近年、スーパーやコンビニなどでの売れ残りや、消費期限・賞味期限切れて廃棄される「()」が問題となっています。
- (3) 千葉県・茨城県・兵庫県などでは、大都市向けに野菜や草花を生産する()農業がさかんです。
- (4) 高知県・宮崎県・沖縄県などでは、暖かい気候をいかして、時期を早めて野菜を生産する、()栽培がさかんです。
- (5) 畜産物の飼料として用いられる穀物は()で、おもにアメリカ合衆国から輸入されています。
- (6) 浅い海や湖を干しあげて耕地にすることを()といい、有明海や児島湾・八郎瀧などでおこなわれました。
- (7) ほかの土地から土を持ってきて入れかえる耕地改良を()といい、石狩平野などでおこなわれました。
- (8) 日本の食料自給率はおよそ()%で、日本は農産物の多くをアメリカ合衆国や中国から輸入しています。(10の倍数で答えなさい。)
- (9) 農業や化学肥料を使わずに農産物を生産する農業を()農業といいます。
- (10) (9)の農業では、動物のふんなどからつくられた()という肥料が使われます。

2 日本の水産業 ()にあてはまることばを答えなさい。

- (1) 現在、世界一の漁獲高をあげているのは()で、日本もこの国から最も多くの魚介類を輸入しています。
- (2) 日本で多くとれる、いわし・さばなどの魚は、右の図のような()漁法でとります。
- (3) 江戸時代、いわしは「()」とよばれた肥料に利用されていました。
- (4) 大型の船で、数十日～数か月かけておこなわれる漁業を()漁業といい、焼津港や枕崎港がその基地となっています。
- (5) (4)の漁業は、1970年代に起こった()によって燃料の値段が上がると、その漁獲高を減らしました。
- (6) 現在、世界各国は沿岸から200海里までの()水域を設定しており、水産資源や地下資源の権利を主張するようになっています。



1 地理のまとめ

□(7) 卵をふ化させた後に、稚魚を放流し、成長した後にとる漁業を、()
漁業といい、「持続可能な漁業」として注目されています。

漁業

□(8) 日本は世界有数の水産物輸入国であり、特に()・ます、えび、まぐろの輸入額が多くなっています。

3 日本の資源・林業 ()にあてはまることばを答えなさい。

□(1) 日本が石炭を最も多く輸入している国は()で、日本はこの国から鉄鉱石・天然ガスも多く輸入しています。

□(2) 日本は、原油を()やアラブ首長国連邦・クウェート・カタールなどの国から輸入しています。

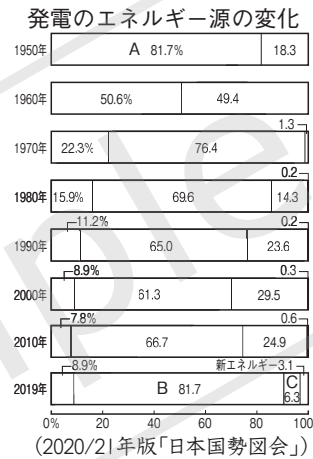
□(3) (2)で答えた国やアラブ首長国連邦・クウェート・カタールなどは、「()地域」とよばれています。

地域

□(4) 日本は天然ガスを、LNGとよばれる「()天然ガス」の形で輸入しています。

天然ガス

□(5) 右のグラフで、Aは()発電の割合を表しています。



発電

□(6) 右のグラフで、Bは()発電の割合を表しています。

発電

□(7) 右のグラフで、Cは()発電の割合を表しています。

発電

□(8) 2011年、()県にあるCの発電所で大事故が起こり、Cの発電全体の割合が低下しました。

県

□(9) 近年、林業では働く人々の()化が進んでおり、若いあつぎ不足になやんでいます。

化

□(10) 林業の作業のうち、森林内の日当たりをよくし、健康な樹木を育てるために、間引きをする作業を()といいます。

4 日本の工業・貿易 ()にあてはまることばを答えなさい。

□(1) 日本の工業地帯・地域の多くは、()とよばれる、太平洋側の臨海部に集中しています。

□(2) 近年、()の工業の発展は目ざましく、「世界の工場」とよばれています。この国は、日本の最大の貿易相手国です。

□(3) 自動車工業では、使う部品を必要な分だけ、すぐに関連工場から運ぶ()方式を採用し、生産の合理化をはかっています。

方式

□(4) 近年、ガソリンエンジンと電気モーターを組み合わせて動力とする()などのエコカーが注目されています。

□(5) 日本で最も工業出荷額が多いのは中京工業地帯で、その中心となる()県は、鉄鋼・自動車などの出荷額が日本一となっています。

県

□(6) 近年、世界では「BRICS」「VISTA」などの新しい工業国が台頭しています。「BRICS」とは、()・ロシア・インド・中国・南アフリカ共和国です。

※「VISTA」……ベトナム・インドネシア・南アフリカ共和国・トルコ・アルゼンチンです。

5 北海道・東北・関東地方 ()にあてはまることばを答えなさい。

- (1) 北海道の東部にある()は、世界自然遺産に登録されており、冬になると流氷がおしよせます。
- (2) 札幌や苫小牧など、北海道の地名は先住民族である()のことばが語源となっているものが多くあります。
- (3) 青森県・秋田県にまたがる()山地は、世界自然遺産に登録されており、世界でもめずらしいブナの原生林が見られます。
- (4) 宮城県には、()という名所があり、日本三景のひとつに数えられています。
- (5) 青森のねぶた・秋田の()・仙台の七夕・山形の花笠を、「東北四大祭り」といいます。
- (6) 山形県には、富士川・球磨川とならんで日本三大急流に数えられる、()川が流れています。
- (7) リアス(式)海岸で知られる三陸海岸は、海底地震が発生した際に起こる()の害を受けやすいことで知られています。
- (8) 福島県の中央部には、日本第4位の面積をほこる()湖があります。
- (9) 茨城県水戸市には、()という名所があり、日本三名園のひとつに数えられています。
- (10) 群馬県は古くからかいこのまゆを原料とする()の生産がさかんで、その中心は1872年に創業を開始した富岡製糸場でした。
- (11) 東京都と埼玉県にまたがる「トトロの森」では、住民が資金を出し合って土地を買い取る、()運動がおこなわれました。
- (12) 関東地方を流れる()川は、筑後川・吉野川とともに、「日本三大暴れ川」として知られています。

6 中部・近畿地方 ()にあてはまることば・数字を答えなさい。

- (1) 岐阜県の白川郷や富山県の五箇山には、()の集落が見られ、世界文化遺産に登録されています。
- (2) 石川県金沢市には、()という庭園があり、日本三名園のひとつに数えられています。
- (3) 山梨県の甲府盆地は、()とよばれる地形が見られ、ももやぶどうなどの果樹栽培がさかんにおこなわれています。
- (4) 富山県を流れる()川の流域では、かつて上流の鉱山から流されたカドミウムによって、イタイイタイ病が発生しました。
- (5) 木曾川・長良川・揖斐川が集まる濃尾平野には、高い堤防で囲まれた()という集落が見られます。
- (6) ()祭・時代祭・葵祭を、「京都三大祭り」といいます。中でも()祭の山鉾巡行は、無形文化遺産に登録されています。
- (7) 京都府には、()という名所があり、日本三景のひとつに数えられています。

- (8) 三重県の()半島は、出入りのはげしいリアス(式)海岸で知られており、真珠の養殖がさかんです。
- (9) 滋賀県の琵琶湖は、北海道の釧路湿原などととも、水鳥の住む湿地を保護する()条約に登録されています。
- (10) 大阪府の泉佐野市の沖合をうめ立ててつくられた()空港は、日本で初めて24時間離着陸ができる空港として開港しました。
- (11) 兵庫県明石市を通る、東経()度の経線は、「日本標準時子午線」となっています。

半島	
条約	
空港	
東経	度

7 中国・四国・九州地方 ()にあてはまることばを答えなさい。

- (1) 島根県にある()遺跡は、世界文化遺産に登録されており、かつては世界的に知られた鉱山でした。
- (2) 島根県に属する()島は、大韓民国との間で領土問題となっている島です。
- (3) 岡山県岡山市には、()という庭園があり、日本三名園のひとつに数えられています。
- (4) 岡山県の()市は、古くからせんい工業が発達し、現在は臨海部に製鉄所や石油化学工場などが建設されています。
- (5) 広島県には、()という名所があり、日本三景のひとつに数えられています。
- (6) 広島県を流れる太田川は、長い年月をかけて、河口付近に()という地形を形成しました。広島市はこの上に発達した都市です。
- (7) 山口県の秋吉台では、()地形とよばれる、石灰岩でできた地形が見られます。
- (8) 「うどん」で知られる香川県()平野には、古くから干害を防ぐために多くのため池がつくられてきました。
- (9) 熊本県の()市では、かつて化学工場から出されたメチル水銀が原因となって、()病が発生しました。
- (10) 熊本県には、()山という二重式の火山があり、世界最大級のカルデラがあることで知られています。
- (11) 鹿児島県の()島は、世界自然遺産に登録されており、樹齢1000年をこえるすぎの木が自生しています。
- (12) ()県は、0～14歳までの年少人口の割合や、合計特殊出生率が最も高い県として知られています。
- (13) 沖縄県には、()条約に基づいて日本国内に置かれた、アメリカ軍基地の多くが集中しています。
- (14) 九州地方は古くから()の生産がさかんで、長崎県の端島炭坑(軍艦島)などが「明治日本の産業革命遺産」として、世界文化遺産に登録されています。

遺跡
島
市
地形
平野
山
島
県
条約

練習問題

1 日本の農業 右の表は、日本のおもな食料品の自給率の移り変わりをまとめたものです。これを見て、次の問いに答えなさい。

□(1) (1)・(2)にあてはまる農作物を答えなさい。

1 2

□(2) A～Fの農水産物のおもな輸入先の組み合わせ(2020年、ウは輸入量順、ほかは金額順)を、次のア～カから1つずつ選びなさい。

- ア 中国・チリ・アメリカ イ アメリカ・フィリピン・中国
 ウ アメリカ・タイ・中国
 エ アメリカ・カナダ・オーストラリア
 オ 中国・アメリカ・韓国 カ アメリカ・カナダ・ブラジル

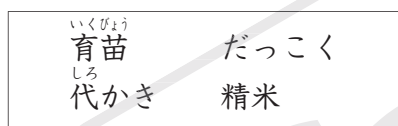
	2000	2010	2019
総合	40	39	38
A 米	95	97	97
B (1)	11	9	16
いも類	83	76	73
C (2)	5	6	6
D 野菜	81	81	79
E 果実	44	38	38
肉類	52	56	52
鶏卵	95	96	96
牛乳・乳製品	68	67	59
F 魚介類	53	55	52

(単位%) (2021年版「日本のすがた」など)

A B C D E F

(3) A「米」について、次の問いに答えなさい。

□① 右の図は、1年間の米づくりの作業の流れをまとめたものです。(1)・(2)にあてはまる作業を、次の4つから1つずつ選びなさい。



1

2

3月	種もみ選び／ ^{なえ} 苗づくり
4月	田起こし
5月	(1)／田植え
6月	↑ ^{なかほ} 中干し
7月	↓ 肥料をまく
8月	↓ 草とりをする
9月	稲かり／(2)
10月	出荷／たい肥づくり
11月	土づくり

□② 図中の「稲かり／(2)」に使われる農業機械の名前を答えなさい。

□③ 近年、消費者の「米ばなれ」が進んでいるといわれています。その対策として、農家ではどのような取り組みがおこなわれていますか。1つ挙げなさい。

□④ 米をつくる以外の「水田」のおもなはたらきを、1つ挙げなさい。

(4) 表のように、日本は多くの食料品を外国からの輸入にたよっています。外国からの輸入食品は、その安全性を問題視する声も多く、国民の「食の安全」に対する関心が高まっています。

□① 近年、消費者に食料品の生産や流通に関する情報を公開するためのしくみが広まっています。このしくみを何といいますか。次のア～エから1つ選びなさい。

- ア フェアトレード イ コールドチェーン
 ウ トレーサビリティ エ ミニマムアクセス

□② 近年、食の安全や環境といった観点から、「地産地消」という考え方が注目されています。これはどのような考え方ですか。簡単に説明しなさい。

2 日本の水産業 次の表は、日本のおもな漁港の水あげ高と、水あげ高の多い魚介類をまとめたものです。これを見て、あとの問いに答えなさい。

(2020年<C・Dは2019年>, 単位: t)

A		B		C		D		E	
さば	19957	③かつお	89157	いわし	129235	まいわし	170106	まいわし	40742
①いわし	19505	④まぐろ類	53494	すけとうだら	30987	さば	92213	あじ	12515
いか	14007	かじき類	929	まだら	6024	ぶり類	5210	ぶり類	11653
②すけとうだら	1848	—	—	⑤さんま	1279	あじ類	1857	さば	9975
たら	1487	—	—	かいらい類	591	びんなが※	1252	べにずわいがに	4731
総水あげ高	61170	総水あげ高	144403	総水あげ高	172268	総水あげ高	280365	総水あげ高	98289

※まぐろの一種

(各市, 漁業協同組合ホームページの統計などより作成)

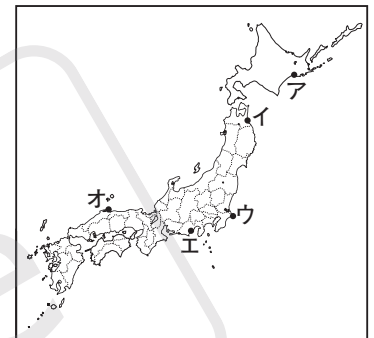
□(1) A~Eの漁港がある都市の名前を、次の5つから1つずつ選びなさい。

やいづ 焼津 さかいるなど 境港 くしろ 釧路 ちようし 銚子 はちのへ 八戸

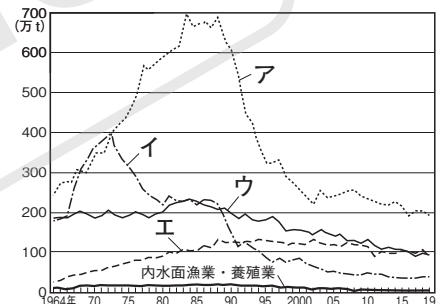
A B C D E

□(2) A~Eの漁港の位置を、右の地図中ア~オから1つずつ選びなさい。

A B C D E



□(3) 表中の①「いわし」は、おもに10t以上の船で、沿岸から40kmくらいまでの水域で漁をします。このような漁業の水あげ高を示したものを、右のグラフ中のア~エから1つ選びなさい。



(2021年版「日本のすがた」)

□(4) 表中の②「すけとうだら」について、この魚を原料としてつくられる水産加工品を1つ答えなさい。

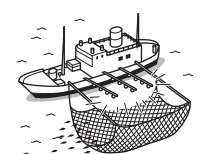
□(5) 表中の③「かつお」からつくられるかつおぶしの生産で知られている、鹿児島県の都市を、次の4つから1つ選びなさい。

むろと 室戸 いのまき 石巻 みやこ 宮古 まくらざき 枕崎

□(6) 表中の④「まぐろ類」やさけ・ますと共に輸入の多い「えび」の輸入先上位の国としてまちがっているものを、次のア~エから1つ選びなさい。

ア インド イ ベトナム ウ インドネシア エ 中国

□(7) 表中の⑤「さんま」について、右の図は、さんま漁をおこなう船のようすを示したものです。さんまは集魚灯を利用して漁をしますが、近年この集魚灯を「発光ダイオード」を使ったものに変え、電力を節約する船も出てきました。この「発光ダイオード」を、アルファベット3字で答えなさい。



□(8) 近年、「とる漁業」の不振によって漁獲高がのびなやむ中、栽培漁業などの「育てる漁業」が注目されています。この「栽培漁業」とはどのような漁業ですか。簡単に説明しなさい。

③ 工業の種類 次の表は、日本の工業を種類別に分類したものです。これを見て、あとの問いに答えなさい。

重化学工業	金属工業… ^あ 鉄鋼業・アルミニウム工業 化学工業… ^お 石油化学工業	機械工業… ^い 自動車工業・ ^う 精密機械工業・ ^え 電子工業
軽工業	食料品工業… ^か 醸造業・ ^け 乳製品 ^こ 製紙・パルプ工業	せんい工業…綿織物・ ^き 絹織物・毛織物・化学せんい

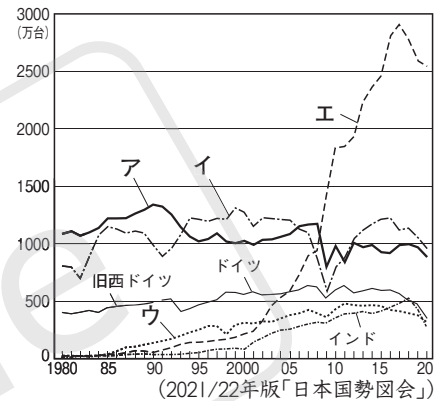
□(1) 下線部^あ「鉄鋼業」について、大きぼな製鉄所がある都市としてまちがっているものを、次の5つから1つ選びなさい。

- むろらん 室蘭 きみつ 君津 かしま 鹿嶋 よっかいち 四日市 くらしき 倉敷

(2) 下線部^い「自動車工業」について、次の問いに答えなさい。

□① 次のア～エは、自動車工場でおこなわれる作業です。作業が実際におこなわれる順に、並べかえなさい。

- ア 溶接 イ 組み立て ⇒ ⇒ ⇒
ウ プレス エ 塗装



□② 右のグラフは、世界の国々の自動車生産台数をまとめたものです。日本を示しているものを、グラフ中のア～エから1つ選びなさい。

□(3) 下線部^う「精密機械工業」がさかんな、諏訪市のある都道府県を、次の4つから1つ選びなさい。

- 長野県 大阪府 愛知県 東京都

□(4) 下線部^え「電子工業」とは、半導体や集積回路をつくる工業です。これらの製品の輸出入額が多い、日本最大の貿易額をほこる港の名前を答えなさい。

(5) 下線部^お「石油化学工業」の工場は、タンカーの入れる大きな港を中心に、製油所・火力発電所などと共に建設されています。

□① このような場所を何といいますか。

□② ①がある都市としてまちがっているものを、次の5つから1つ選びなさい。

- 鹿嶋 しゅうなん 周南 どうかい 東海 倉敷 おおいた 大分

□(6) 下線部^か「乳製品」について、飲料牛乳の生産量が最も多いのは酪農のさかんな北海道ですが、2位以下は神奈川県・愛知県など、酪農がさかんとはいえない都道府県が上位になっています。これはなぜですか。簡単に説明しなさい。

□(7) 下線部^き「絹織物」について、絹織物を生産するために必要な、生糸の原料は何ですか。

□(8) 下線部^こ「製紙・パルプ工業」がさかんな都市を、次の4つから1つ選びなさい。

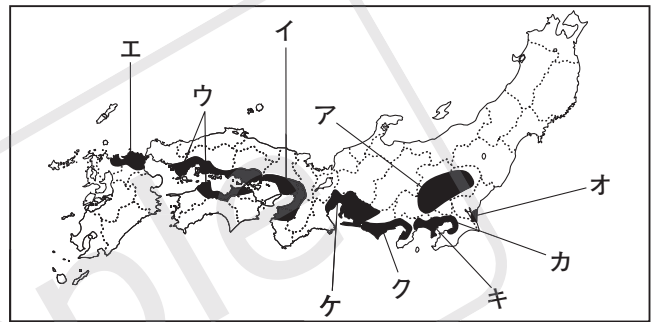
- おびひろ 帯広 富士 せと 瀬戸 おおた 太田

4 工業地帯・地域 次のA～Iの文は、日本の工業地帯・地域について説明したものです。これを読んで、あとの問いに答えなさい。

- A 日本の政治・経済・文化の中心地であるため、印刷業の出荷額が多い。
 B 日本で最も工業製品出荷額が多く、中心となる県は、① さまざまな工業の出荷額が日本一である。
 C 1901年に操業を開始した② 八幡製鉄所を中心に発展した。
 D 「天下の台所」とよばれた都市を中心に発展した。③ 中小工場の割合が高い。
 E かつては養蚕がさかんであり、製糸工業が中心であった。現在は④ 機械工業の割合が高い。
 F Y字型のほりこみ港を中心に、石油化学工場や製鉄所が集まっている。
 G 塩田や軍用地のあと地に工場が建設され、発展した。
 H 大きな工業地帯となりあう形で発展した。おもな工業都市として、市原市や君津市がある。
 I 大きな工業地帯にはさまれる形で発展した。おもな工業都市として、富士市や(⑤)市がある。

□(1) A～Iの位置を、右の地図中のア～ケから1つずつ選びなさい。

A B
 C D
 E F
 G H
 I



□(2) 下線部①について、この工業地帯・地域の中心となる県が出荷額日本一となっている工業としてまちがっているものを、次のア～エから1つ選びなさい。

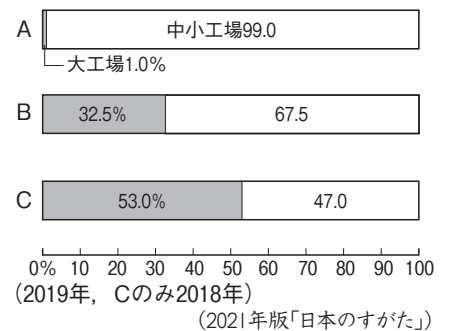
- ア 輸送用機械工業 イ よう業 ウ 化学工業 エ 鉄鋼業

□(3) 下線部②「八幡製鉄所」は、ある戦争の賠償金の一部を使って建設されました。この戦争とは何ですか。

 戦争

□(4) 下線部③について、右のグラフは、日本の大工場と中小工場の割合を示したものです。A～Cのグラフは、それぞれ何を示していますか。次のア～エから1つずつ選びなさい。

- ア 労働者の数 イ 工業製品出荷額
 ウ 労働者の賃金 エ 工場の数

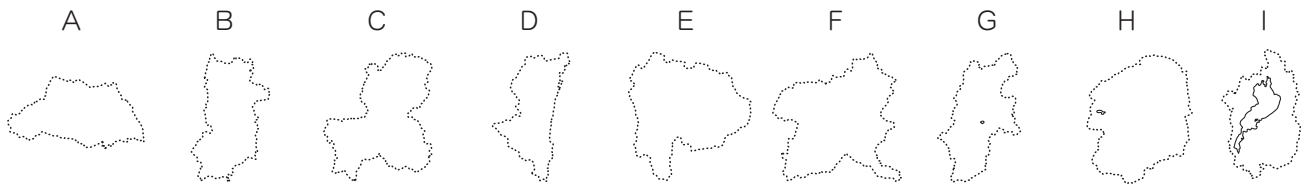


A B C

□(5) 下線部④について、この工業地帯・地域の機械工業の工場では、南米から来日した多くの外国人労働者が働いており、町中にポルトガル語の表示がある都市もあります。これらの労働者はどこの国から来日したのですか。国名を答えなさい。

□(6) (⑤)には、大手の楽器メーカーの本社がある都市の名前が入ります。(⑤)にあてはまる都市の名前を答えなさい。

5 都道府県 次のA～Iの県について、あとの問いに答えなさい。ただし、それぞれの地図の縮尺しゆくしゆくは一定ではありません。



□(1) A～Iの県の特徴を説明した文を、次のア～ケから1つずつ選びなさい。

- ア 「かかあ天下とからっ風」で知られている。こんにゃくいもが特産品である。
- イ 県庁所在地は「餃子の町」として知られている。いちごの生産量が日本一である。
- ウ 市の数が最も多い。ひな人形やこいのぼりの生産で知られている都市がある。
- エ 県庁所在地は善光寺の門前町として発展した。レタスの生産量が日本一である。
- オ 県庁所在地は水晶細工の生産で知られている。「富士五湖」などの名所がある。
- カ 県内を流れる長良川は「鵜飼い」で知られている。かつて、関ヶ原の戦いがおこなわれた。
- キ かつて織田信長が安土城をつくった。たぬきの置物で知られる信楽焼を生産している。
- ク きんぎょの養殖で知られる都市がある。人口は北部にある盆地に集中している。
- ケ 「太陽のタマゴ」とよばれるマンゴーで知られている。ピーマンの促成栽培がさかんである。

A B C D E F G H I

- (2) A～Iの県は、1つの県を除いて、すべて内陸県(海に面していない県)です。A～Iのうち、内陸県ではない県(海に面している県)を1つ選びなさい。
- (3) A～Iの県の中には、日本で最もとなり合う都府県が多いものがあります。その県が県境を接している都府県の数を算用数字で答えなさい。
- (4) A～Iの県のうち、県の人口が最も多いものを1つ選びなさい。
- (5) A～Iの県のうち、面積が最も大きいものを1つ選びなさい。
- (6) AやBの県で、夜の人口に比べて昼間の人口が少なくなっている理由を、簡単に説明しなさい。
- (7) Eの県には、「南アルプス市」があります。この「南アルプス」とは何山脈のことですか。

(8) F・H・Iの県には、「ラムサール条約」の登録地があります。

□① 「ラムサール条約」とはどのような場所を保護する条約ですか。簡単に説明しなさい。

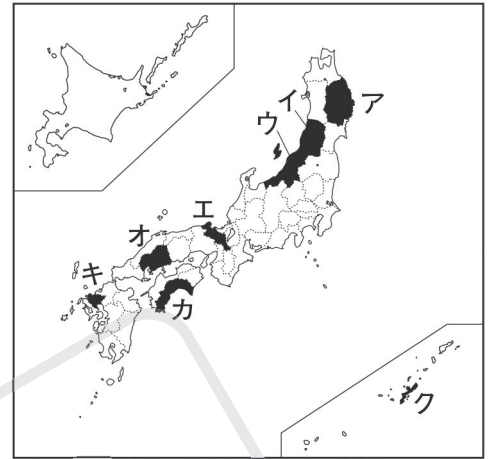
□② 日本の「ラムサール条約」の登録地ではないものを、次の4つから1つ選びなさい。

⑤ 伝統的工芸品 次のA～Hは、日本を代表する伝統的工芸品です。これを見て、あとの問いに答えなさい。

A <small>おぢやちみ</small> 小千谷縮	B <small>なんぶてつき</small> 南部鉄器	C <small>りゅうきゅう</small> 琉球びんがた	D <small>にしじんおり</small> 西陣織
E <small>いまり ありた</small> 伊万里・有田焼	F <small>とさわし</small> 土佐和紙	G <small>くまのふで</small> 熊野筆	H <small>てんどうしょうぎこま</small> 天童将棋駒

□(1) A～Hの伝統的工芸品を生産している府県を、右の地図中のア～クから1つずつ選びなさい。

A <input type="text"/>	B <input type="text"/>	C <input type="text"/>
D <input type="text"/>	E <input type="text"/>	F <input type="text"/>
G <input type="text"/>	H <input type="text"/>	



□(2) A～Hの伝統的工芸品を生産している府県の特徴を説明した文を、次のア～クから1つずつ選びなさい。

- ア エイサーという踊りや、三線という楽器など、独特の文化を持っている。
- イ 古くから染料に使われる紅花を栽培している。庄内平野は稲作で知られている。
- ウ 丹後半島では、古くから縮緬が生産されている。宇治の茶が特産品である。
- エ 西部の山沿いでは、地熱発電がさかんである。やませの影響で冷害になりやすい。
- オ 県庁所在地は、世界で初めて核兵器が使用された都市である。かきの養殖がさかんである。
- カ 小麦・大豆・たまねぎの生産量が全国有数である。大隈重信の出身県である。
- キ 「日本最後の清流」とよばれる河川が流れる。坂本龍馬・板垣退助の出身県である。
- ク 阿賀野川の流域で、第二水俣病が発生した。チューリップの生産で全国的に知られている。

A <input type="text"/>	B <input type="text"/>	C <input type="text"/>	D <input type="text"/>
E <input type="text"/>	F <input type="text"/>	G <input type="text"/>	H <input type="text"/>

□(3) A～Hの伝統的工芸品は、いずれも右のような「伝統証紙」の使用を許可されています。「伝統証紙」にかかわる国の役所を、次のア～エから1つ選びなさい。

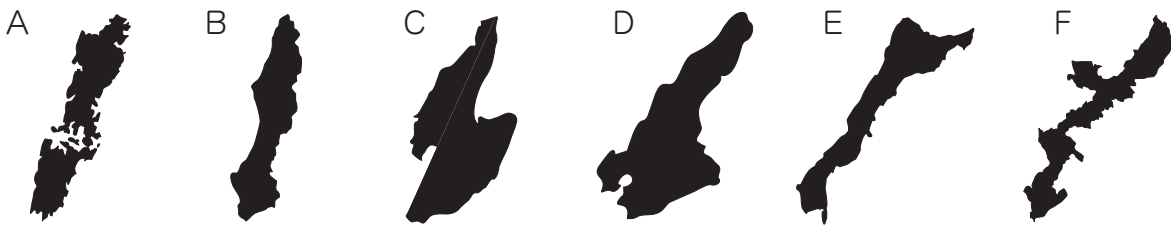
- ア 財務省 イ 経済産業省 ウ 内閣府 エ 総務省

著作権者への配慮から、掲載を差し控えております。実際の教材には掲載されておりますのでご安心ください。

□(4) A～Hの伝統的工芸品を生産している府県の中には、国の指定を受けている伝統的工芸品の種類が東京都に次いで2番目に多い府県があります。この府県で生産されている伝統的工芸品を、A～Hから1つ選びなさい。

□(5) 伝統的工芸品の生産をしている人々は、現在さまざまななやみをかかえています。どのようななやみがあると考えられますか。1つ挙げて説明しなさい。

7 日本各地の島 次のA～Fは、日本のおもな島の形です。これを見て、あとの問いに答えなさい。
ただし、それぞれの地図の縮尺は一定ではありません。



□(1) A～Fの島の名前を、次の6つから1つずつ選びなさい。

あわじ 淡路島	たねが 種子島	くなしり 国後島	つしま 対馬	沖縄島	さど 佐渡島
------------	------------	-------------	-----------	-----	-----------

A	<input type="text"/>	B	<input type="text"/>	C	<input type="text"/>
D	<input type="text"/>	E	<input type="text"/>	F	<input type="text"/>

□(2) Aの島が属する都道府県の説明としてまちがっているものを、次のア～エから1つ選びなさい。

ア 原子爆弾ばくだんが投下された都市がある。 イ びわの生産量が日本一である。
ウ 海岸線の総延長えんちようが日本の平均よりも短い。 エ 造船業がさかんな都市がある。

□(3) Aの島を江戸時代に支配していた藩は、鎖国中でありながら、ある国との貿易がゆるされていました。その国とはどこですか。次のア～エから1つ選びなさい。

ア オランダ イ 清 ウ 朝鮮 エ 琉球

□(4) Bの島が属する都道府県の生産量や飼育頭数が、日本第1～3位に入っているものとして、まちがっているものを、次のア～オから1つ選びなさい。

ア 焼酎しょうちゆう イ 乳用牛 ウ じゃがいも エ 茶 オ ぶた

□(5) Cの島では、「特別()」に指定されている、トキの繁殖の努力がおこなわれています。()にあてはまることばを答えなさい。

□(6) Dの島は、ある農産物の生産がさかんで、Dの島が属する都道府県は、この農産物の生産量が北海道・佐賀県さがに次いで日本第3位となっています。この農産物とは何ですか。

□(7) Dの島が属する都道府県には、東経135度の経線と北緯35度の緯線が交わる地点があります。日本には、東経140度の経線と北緯40度の緯線が交わる地点もありますが、それはどの都道府県にありますか。

□(8) Eの島とほぼ同じ緯度にある国としてまちがっているものを、次のア～エから1つ選びなさい。

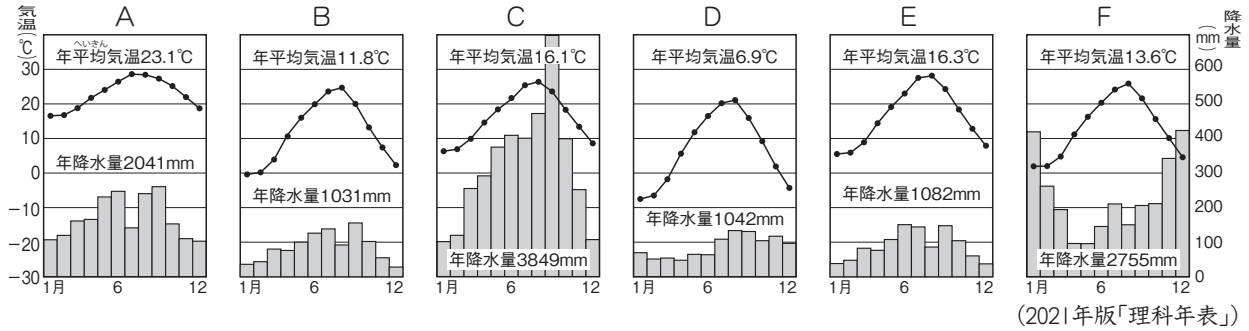
ア イギリス イ アメリカ合衆国がっしゆうこく
ウ 中華人民共和国ちゆうか エ フランス

□(9) Fの島が属する都道府県の説明としてまちがっているものを、次のア～エから1つ選びなさい。

ア 米の生産量が非常に少ない。 イ さとうきびの生産がさかんである。
ウ 多くのアメリカ軍基地をかかえる。 エ 日本の最南端なんたんの島がある。

□(10) A～Fの島のうち、最も面積が大きいものを1つ選びなさい。

③ 日本の気候 次のA～Fの気候グラフを見て、あとの問いに答えなさい。



(2021年版「理科年表」)

(1) 次の①～⑥で説明した都市の気候グラフを、上のA～Fから1つずつ選びなさい。

- ① 三重県の南部にある都市で、黒潮の流れる熊野灘に面している。
- ② 上川盆地の中心地にある都市で、市内には全国的に知られる旭山動物園がある。
- ③ 市内には世界文化遺産に登録されている首里城跡がある。
- ④ 讃岐平野の中心都市で、市内には高等裁判所が置かれている。
- ⑤ 飛騨山脈と筑摩山地にはさまれた盆地の中心地にある都市で、城下町として発達した。
- ⑥ 上杉謙信の居城、春日山城があった都市で、城下町として発達した。

① ② ③ ④ ⑤ ⑥

(2) (1)①の都市について、この都市がある三重県は、県庁所在地である都市が、県最大の都市(人口が最も多い都市)ではありません。このような県として、まがっているものを、次のア～エから1つ選びなさい。

ア 山口県 イ 福島県 ウ 静岡県 エ 山形県

(3) (1)②の都市について、この都市にある旭山動物園は、行動展示(動物の自然な生態を見せる)を実施していることで知られています。特に、ホッキョクグマの行動展示は、自然のホッキョクグマの生息が危ぶまれていることから、貴重であるといわれています。なぜ、ホッキョクグマの生息が危ぶまれているのですか。環境問題と関連づけて、簡単に説明しなさい。

(4) (1)③の都市について、首里城跡には、右の写真のような像が多く置かれています。これは、この地方の守り神である伝説上の獣をかたどったものです。これを何といいますか。



(5) (1)④の都市について、この都市のある都道府県の「小豆島」では、おもに油をとるための農作物の生産がさかんです。この農作物とは何ですか。

(6) (1)⑤の都市について、この都市には「上高地」という名所があります。この「上高地」に通じる道路は、自家用車(マイカー)の乗り入れが禁止されています。これはなぜですか。

(7) (1)⑥の都市について、この都市のある都道府県には、日本最長の河川が流れています。この河川の流量(水の量)が最も多くなる月を、次のア～エから1つ選びなさい。

ア 1月～2月 イ 4月～5月 ウ 7月～8月 エ 10月～11月

応 用 問 題

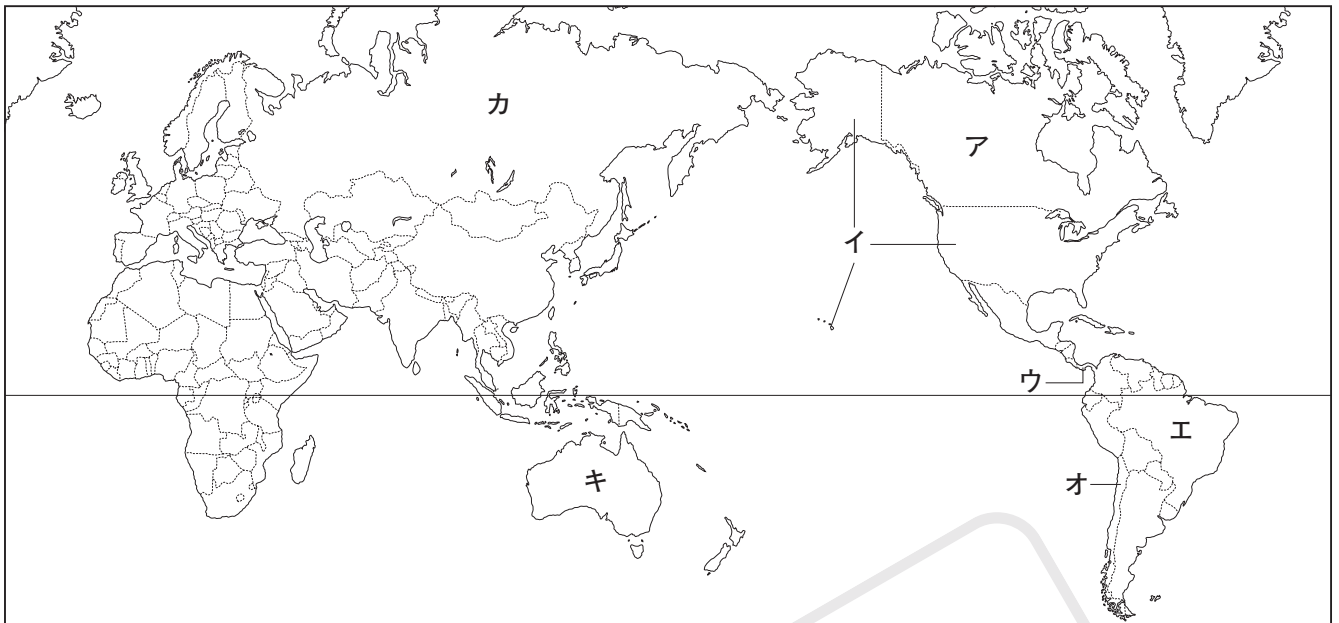
1 世界の国々 日本は、世界中のさまざまな国々と交流を持っています。次のA～Pは、日本と関係の深い国々について説明したものです。これを読んで、あとの問いに答えなさい。

- A この国には、明治時代ごろに①日本からわたった人々の子孫が多く住んでいます。日本には鉄鉱石・大豆・肉類などを多く輸出しています。
- B この国と日本との間には領土問題があり、第二次世界大戦後の平和条約が結ばれていません。日本には石炭や原油を多く輸出しています。
- C この国は、世界第3位の人口をほこっています。日本との貿易額が高く、航空機や、小麦・大豆・とうもろこしなどの農作物を多く輸出しています。
- D この国は、国土の多くが森林におおわれており、日本には木材を多く輸出しています。また、小麦・大豆も日本へ輸出しています。
- E この国は、国土の多くが砂漠におおわれています。国内にはアボリジニーという先住民が住んでいます。日本には石炭・鉄鉱石・天然ガスを多く輸出しています。
- F この国は、スペイン語が公用語となっています。「モアイ像」で知られるイースター島は、この国にあります。日本には銅鉱を多く輸出しています。
-
- G この国は、ユダヤ人が建国した国家です。この国と周辺の数々の国々との間で起こった第四次(②)戦争は、1970年代にオイルショックを引き起こし、日本にも影響をあたえました。
- H この国は、13000を超える島々からなる国で、多くのイスラム教徒が住んでいます。日本にはえびや石炭を多く輸出しています。
- I この国は、多くの仏教徒が住んでいます。世界有数の米輸出国で、日本もこの国から多くの米を輸入しています。
- J この国は、③米・小麦などの生産量が世界一となっています。近年、工業化が進んでおり、「世界の工場」とよばれるまでに成長しています。
- K この国は、日本にパイナップルやバナナを多く輸出しており、日本の果実輸入先の上位となっています。また、日本との間に④経済連携協定を結んでいます。
- L この国には、イスラム教の聖地メッカがあります。世界有数の産油国で、日本もこの国から多くの原油を輸入しています。
- M この国は、1910年から35年間、日本の支配下にありました。日本との貿易額も多く、J国・C国に次いで3番目となっています。
-
- N この国は、戦後から1990年まで、東西に分裂した国家でした。日本には自動車や医薬品などを多く輸出しています。
- O この国は、第二次世界大戦中に、Nの国や日本と同盟を結んでいました。世界的に知られたファッションブランドが多く、日本にはバッグ類や衣類を多く輸出しています。
- P この国は、EU〔ヨーロッパ連合〕最大の農業国となっています。そのため、⑤フード・マイレージは日本よりもだいぶ低くなっています。日本にはワインなどを多く輸出しています。

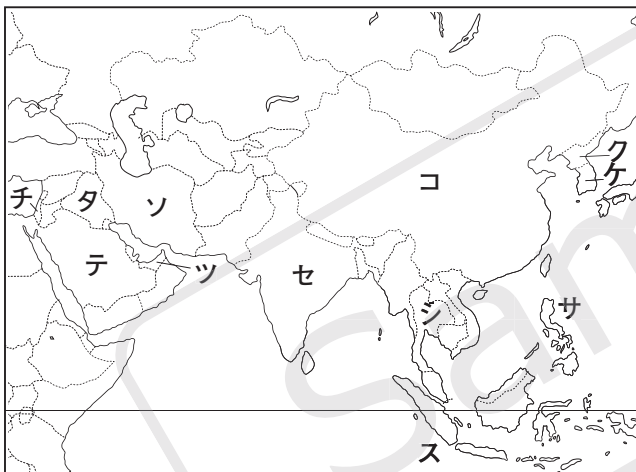
□(1) A～Pの国の位置を、右ページの地図中のア～ヒから1つずつ選びなさい。ただし、A～Fは【世界全図】、G～Mは【アジアの地図】、N～Pは【ヨーロッパの地図】からそれぞれ選びなさい。

A	B	C	D	E	F	G	H
I	J	K	L	M	N	O	P

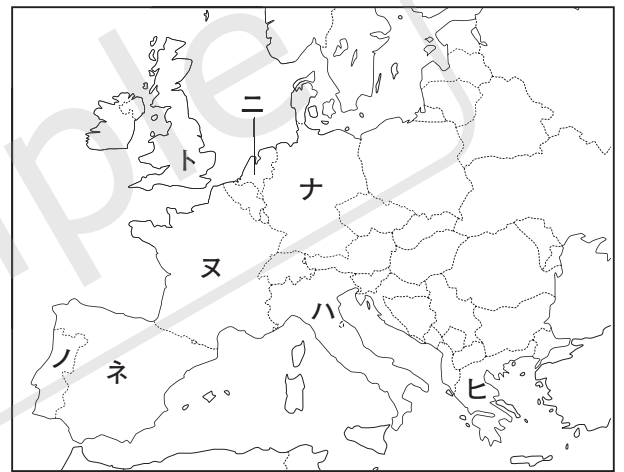
【世界全図】




【アジアの地図】



【ヨーロッパの地図】



□(2) 下線部①について、これらの日本人は、A国の特産品である、右の写真の農作物をつくる農園などで働き、生活してきました。この農作物とは何ですか。



□(3) (②)にあてはまることばを答えなさい。

第四次 戦争

□(4) 下線部③について、この国は米・小麦の生産量は世界一であるのに、輸出量はそれほど多くありません。これはなぜですか。簡単に説明しなさい。

□(5) 下線部④「経済連携協定」の略称を、次のア～エから1つ選びなさい。

ア FTA イ EPA ウ APEC エ OPEC

□(6) 下線部⑤について、この数値は、「農産物の重さ×運んだ距離」で算出されます。日本はこの数値が非常に高いのですが、それはなぜですか。理由を1つ挙げなさい。

2 日本の都道府県 次の表は、日本で政令指定都市となっている都市がある道府県の、面積や人口などの統計をまとめたものです。これを見て、あとの問いに答えなさい。

道府県	面積(km ²) ^{※1}	人口(万人) ^{※2}	政令指定都市の数 ^{※3}	おもな都市
A	83424	525	1	はこだて 函館市 むろらん 室蘭市 苦小牧市 夕張市
B	12584	222	1	ながおか 長岡市 さんじょう 三条市 小千谷市 燕市
C	8480	280	1	ふくやま 福山市 おのみち 尾道市 せひつ 廿日市市 呉市
D	8401	547	1	ひめじ 姫路市 かしわ 明石市 かがわ 加古川市 淡路市
E	7777	364	2	やいづ 焼津市 富士市 富士宮市 下田市
F	7409	175	1	やつしろ 八代市 ひとよし 人吉市 みなまた 水俣市 あそ 阿蘇市
G	7282	231	1	いしのみき 石巻市 おおさき 大崎市 けせんぬま 気仙沼市 東松島市
H	7114	189	1	くらしき 倉敷市 つやま 津山市 せとうち 瀬戸内市 びぜん 備前市
I	5173	755	1	とよた 豊田市 東海市 瀬戸市 となめ 常滑市
J	5158	626	1	ふねはし 船橋市 松戸市 ならしの 習志野市 うらやす 浦安市
K	4987	510	2	くるめ 久留米市 おおむた 大牟田市 だざいふ 太宰府市
L	4612	258	1	うぢ 宇治市 まいづる 舞鶴市 長岡京市 みやづ 宮津市
M	3798	735	1	かわごえ 川口市 かわごえ 川越市 かつかべ 春日部市 くまがや 熊谷市
N	2416	920	3	ふじさわ 藤沢市 ひらつか 平塚市 よすか 横須賀市 かまくら 鎌倉市
O	1905	881	2	たかつき 高槻市 かどま 門真市 泉佐野市 すいた 吹田市

(※1は2020年10月現在, ※2は2019年10月現在, ※3は2021年6月現在)

(2021/22年版「日本国勢国会」など)

(1) Aの道府県について、次の問いに答えなさい。

□① この道府県で生産量が全国上位となっている農産物として、ま・ち・が・っ・て・い・る・も・の・を、次のア～オから1つ選びなさい。

ア もも イ メロン ウ だいこん エ てんさい オ たまねぎ

□② この道府県にある「夕張市」は、かつてはある鉱物資源の採掘で知られ、栄えていましたが、鉱山が閉山した後の市の財政が苦しくなり、現在は財政再生団体に指定されています。この都市で採掘されていた資源とは何ですか。

□(2) Bの道府県について、この道府県では小千谷市の「縮」に代表されるように、伝統的工芸品の生産がさかんです。その理由を、この道府県の気候と関連づけて説明しなさい。

(3) Cの道府県について、次の問いに答えなさい。

□① この道府県では、「かき」の養殖がさかんにおこなわれています。これらの養殖にたずさわる人々は、かきの漁獲量を上げるため、付近の山々で植林をおこなっています。植林とかきの漁獲量にはどのような関係があるのですか。簡単に説明しなさい。

□② この道府県にある「呉市」でさかんな工業を、次のア～エから1つ選びなさい。

ア 造船業 イ 石油化学工業 ウ 印刷業 エ せんい工業

□(4) Dの道府県について、この道府県は、日本海と瀬戸内海に面しています。この2つの海の両方

1 地理のまとめ

に面している道府県は、日本の国内にもう1つあります。その道府県の名前を答えなさい。

□(5) Eの道府県について、この道府県にある2つの政令指定都市のうち、人口が多い方の都市の名前を答えなさい。

 市

□(6) Fの道府県について、この道府県にある政令指定都市の名前を答えなさい。

 市

□(7) Gの道府県について、この道府県のマーク(県章)を、次のア～エから1つ選びなさい。

ア



イ



ウ



エ



□(8) Hの道府県にある「倉敷市」で出荷額が多い工業製品としてま^ちが^らっ^てい^るもの^を、次のア～エから1つ選びなさい。

ア セメント イ 化学製品 ウ 鉄鋼^{てつこう} エ ジーンズ

□(9) Iの道府県にある「豊田市」は、ある自動車工業の会社を中心に発達している都市です。このような都市を何といいますか。

□(10) Jの道府県の「おもな都市」に挙げた4つの都市(船橋市・松戸市・習志野市・浦安市)のうち、日本で最も入場者数の多いテーマパークがある都市の名前を答えなさい。

 市

□(11) Kの道府県にある2つの政令指定都市のうち、道府県庁所在地とな^らな^い方^の都市の名前を答えなさい。

 市

□(12) Lの道府県にある「舞鶴市」の海岸線は、入り組んだリアス(式)海岸となっています。このような海岸は、どのようにしてできた海岸ですか。簡単に説明しなさい。

□(13) Mの道府県にある都市は、東京の()タウンとして発達した都市が多くなっています。()にあてはまることばを答えなさい。

 タウン

□(14) Nの道府県にある3つの政令指定都市のうち、最も人口が少ない都市の名前を答えなさい。

 市

□(15) Oの道府県は、もともと日本で最も面積の小さい都道府県でしたが、現在は香川県に次いで2番目に小さい都道府県となっています。このような逆転が起こった理由を答えなさい。

(16) 表にある道府県に「東京都」はふくまれていません。東京23区は、政令指定都市ではなく、「特別区」のあつかいとなっています。「東京都」に関する次の問いに答えなさい。

□① 東京都の中心部では、近年夏の気温が特に上昇する()現象が問題となっています。()にあてはまることばを答えなさい。

 現象

□② ①のような問題を解決するため、東京都ではどのような対策がおこなわれていますか。1つ例を挙げなさい。