

## 本書の特色

この本は、中1～中3の内容で構成されたテキストです。標準的な問題を中心に編集しましたので、今までに学習したことがらの基本を身につけるのにぴったりです。

各課の基本構成は最初の1ページで重要なポイントをおさえ、2ページ目の確認問題で知識を、3～4ページ目の演習問題で実力を定着させる…という流れになっています。また、1課に1枚の別冊確認テストがついています。各課の理解度チェックに役立ててください。

講習準備テストと総合確認テストは、苦手分野の把握や最後の効果測定に利用することができます。

## 本書の使い方

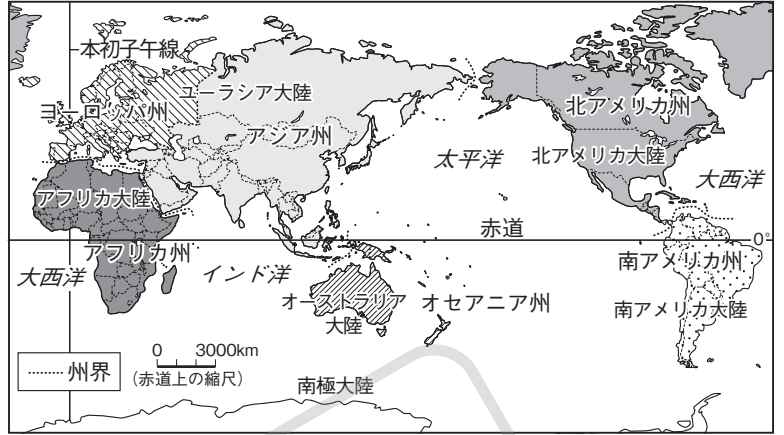
- **要点整理**…その課でしっかりと身につけたいことがらをまとめてあります。
- **確認問題**…要点整理で学習した内容を確認するための問題です。
- **演習問題**…要点整理、確認問題で学習した内容をもう一度確認し、応用力をつけるための問題です。ここで完全に自分のものにしてください。
- **入試対策コーナー**…入試によく出る問題を、テーマ別・出題形式別にまとめてあります。ここで学習した内容を完全なものにしてください。
- **入試直前テスト**…100点満点のテスト形式です。全部正解できるようにがんばりましょう。

1 世界地理	2
2 日本地理	6
3 政治史	10
4 外交史・文化史	14
5 経済史	18
6 政治のしくみ	22
7 経済のしくみ	26
8 国際社会	30
入試対策コーナー	34
入試直前テスト	46

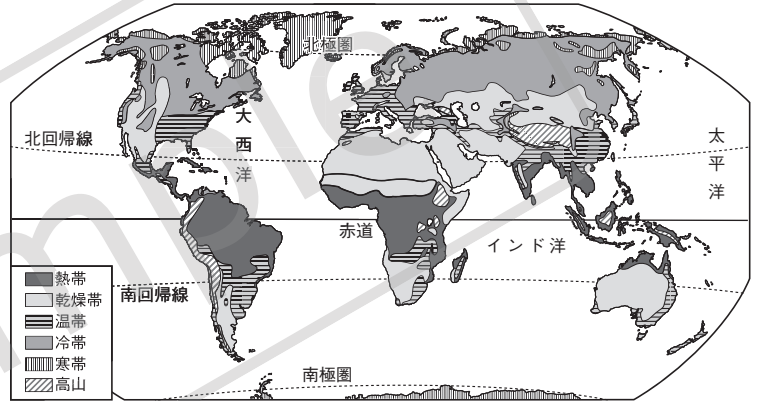
## 1 地球と世界の姿

- (1) 大陸と海洋…六大陸，三大洋に6つの州。
- (2) 地球上の位置…緯度と経度で示す。0度の緯線は赤道，0度の経線は本初子午線。
- (3) 国境…自然地形を利用した国境と緯線・経線を利用した直線の国境。
- (4) いろいろな国…面積最大=ロシア連邦。面積最小=バチカン市国。人口最大=中国(第2位はインド)。島国[海洋国]，内陸国。
- (5) 気候…熱帯・乾燥帯・温帯・冷帯(亜寒帯)・寒帯。温帯には偏西風や季節風(モンスーン)が影響，温帯(温暖)湿潤気候・西岸海洋性気候・地中海性気候がある。標高の高い地域は高山気候。
- (6) 三大宗教…仏教・キリスト教・イスラム教。

▼六大陸と三大洋・世界の地域区分



▼世界の気候

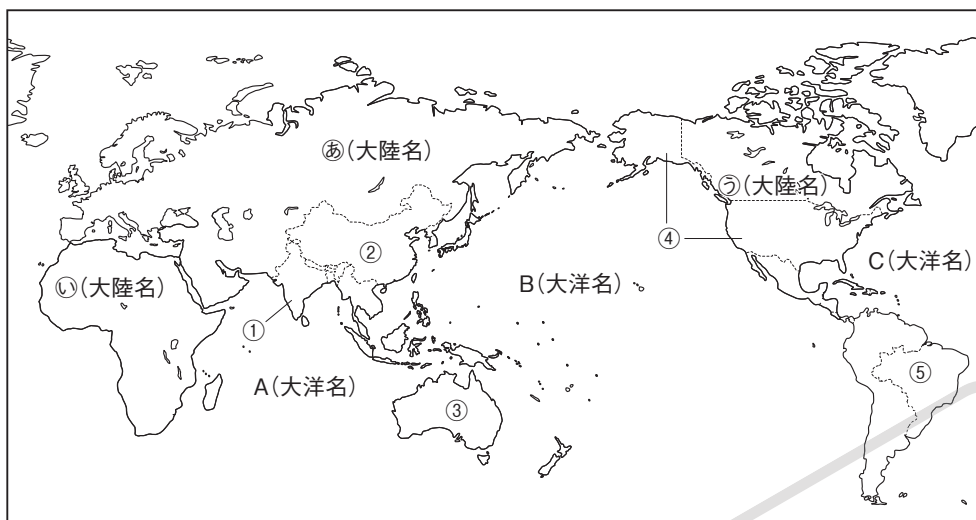


## 2 世界の諸地域

- (1) アジア州…世界の人口の約6割が集中。
  - ① 中国[中華人民共和国]…人口の9割以上は漢族。一人っ子政策がとられていた。東北・華北は畑作，華中・華南は稲作がさかん。経済特区をつくって工業化→「世界の工場」。
  - ② アジアニES[新興工業経済地域]…韓国・台湾・ホンコン・シンガポール。
  - ③ 東南アジア…大河の流域で稲作がさかんで二期作もやっている。プランテーションで天然ゴム・あぶらやしなどを栽培。多民族国家。ASEAN[東南アジア諸国連合]諸国で工業化が進む。
  - ④ 西アジア…ペルシャ湾岸で石油を多く産出。日本もサウジアラビア・アラブ首長国連邦などから多く輸入。
- (2) ヨーロッパ州…ヨーロッパ連合[EU]に27か国が加盟(2021年5月)。EUの多くの国で共通通貨ユーロを導入。
  - ① 農業…混合農業・酪農・地中海式農業。フランスはEU最大の農業国で小麦の産地。
  - ② 工業…ドイツはEU最大の工業国で，ライン川流域にルール工業地帯が発達。
- (3) アフリカ州…モノカルチャー経済の国が多い。
  - ① 農業…プランテーションで，カカオ・コーヒー・綿花などを栽培。乾燥帯では遊牧。
  - ② 鉱工業…南アフリカ共和国など，金・レアメタル・ダイヤモンドなどの鉱産資源に恵まれた国も多い。
- (4) 北アメリカ州…アメリカ合衆国は多様な民族がくらす。近年，ヒスパニックの割合が増加。
  - ① 農業…アメリカ合衆国は適地適作の企業的な農業で「世界の食料庫」とよばれる。
  - ② 鉱工業…サンベルトではシリコンバレーをはじめハイテク[先端技術]産業が発達。
- (5) 南アメリカ州…日系人が多いブラジル，アンデス山脈中のペルーやボリビア。パンパが広がるアルゼンチン。
  - ① 農業…コーヒーや綿花・小麦・だいずなどの輸出用作物を栽培。
  - ② 鉱工業…ブラジルの鉄鉱石やチリの銅など，鉱産資源が豊富。ブラジルは工業化が進み，BRICSの一国。
- (6) オセアニア州…大陸全体が1つの国のオーストラリア。島国ニュージーランド。先住民アボリジニ，マオリ。
  - ① 農業…牧羊や牧牛がさかん。東部や南西部の沿岸では小麦栽培。
  - ② 鉱工業…オーストラリアは石炭・鉄鉱石・ボーキサイトの産出が多く，日本も多く輸入している。

# 確認問題

1 次の地図の㉔～㉙の大陸名、A～Cの大洋名、①～⑤の国名を答え、下の各問いにも答えなさい。



- (1) 緯度0度の緯線のことを何というか。
- (2) 経度0度の経線のことを何というか。
- (3) 世界を6つの州に分けたときに、ニュージーランドや南太平洋の島々は何州にふくまれるか。
- (4) 面積が世界最大の国はどこか。
- (5) 日本のようにまわりを海に囲まれた国を何というか。
- (6) 世界の気候区分のうち、西アジアや中央アジアの遊牧が行われている砂漠や草原の地域の気候帯を何というか。
- (7) 大陸の西岸で強く吹西寄りの風を何というか。
- (8) 季節によって吹く向きが変わる風を何というか。

2 次の( )にあてはまる語句を答えなさい。

- (1) 世界一の人口の中国では、人口の増加をおさえるために、一組の夫婦には子どもを一人とする( )政策がとられていた。
- (2) 韓国・台湾・ホンコン・シンガポールは、1970年代以降、急速に工業化が進んで成長し、アジア( )〔新興工業経済地域〕とよばれている。
- (3) 東南アジアの10か国は( )という政治・経済の協力組織を結成している。
- (4) ヨーロッパの国々は( )という地域統合の組織を結成している。
- (5) (4)の多くの国では( )という共通の通貨を導入している。
- (6) アフリカには、特定の商品作物や鉱産資源の輸出に頼る( )の国が多い。
- (7) 近年、アメリカ合衆国では( )とよばれるスペイン語を話す移民の人口が増えている。
- (8) アメリカ合衆国南部の( )とよばれる地域では、ハイテク〔先端技術〕産業が発達している。
- (9) オーストラリア大陸の先住民を( )とよぶ。

1

㉔ \_\_\_\_\_

㉕ \_\_\_\_\_

㉖ \_\_\_\_\_

A \_\_\_\_\_

B \_\_\_\_\_

C \_\_\_\_\_

① \_\_\_\_\_

② \_\_\_\_\_

③ \_\_\_\_\_

④ \_\_\_\_\_

⑤ \_\_\_\_\_

(1) \_\_\_\_\_

(2) \_\_\_\_\_

(3) \_\_\_\_\_

(4) \_\_\_\_\_

(5) \_\_\_\_\_

(6) \_\_\_\_\_

(7) \_\_\_\_\_

(8) \_\_\_\_\_

2

(1) \_\_\_\_\_

(2) \_\_\_\_\_

(3) \_\_\_\_\_

(4) \_\_\_\_\_

(5) \_\_\_\_\_

(6) \_\_\_\_\_

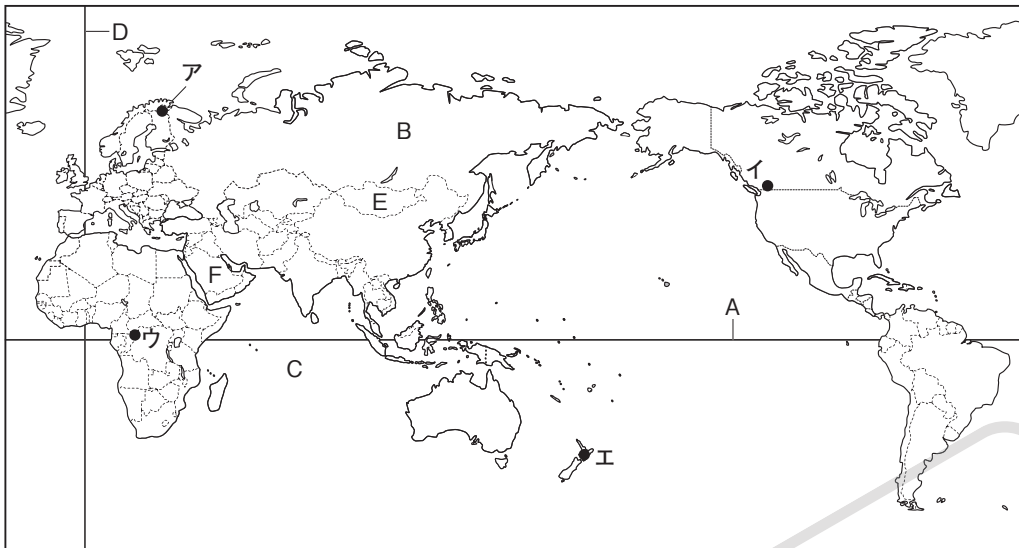
(7) \_\_\_\_\_

(8) \_\_\_\_\_

(9) \_\_\_\_\_

# 演習問題 A

1 地球と世界の姿 次の地図を見て、あとの問いに答えなさい。

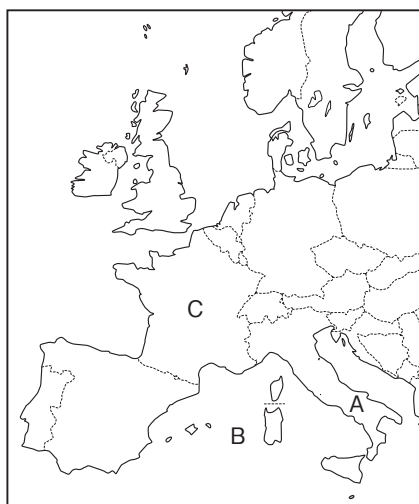


1	(1)
	(2)
	(3)
	(4)
	(5)
	(6)
	(7)

- (1) Aの緯度0度の緯線を何というか。
- (2) Bの世界最大の大陸を何というか。
- (3) Cの大洋を何というか。
- (4) Dの経線は、イギリスのロンドンを通る本初子午線とよばれる経線である。この経線の経度を答えよ。
- (5) Eのように、海に面していない国を何というか。
- (6) 三大宗教のひとつで、Fの国に最大の聖地があり、西アジアから北アフリカにかけての地域に信者が多い宗教を何というか。
- (7) 夏に一日中太陽が沈まない白夜とよばれる現象が見られる地域を、地図中のア～エから1つ選び、記号で答えよ。

2 世界の諸地域 右の地図を見て、次の問いに答えなさい。

- (1) 地図中の国々は、世界を州別に分けたとき、何州にふくまれるか。
- (2) A国の首都にある、面積が世界最小の国を何というか。
- (3) Bの海の沿岸地域に見られる、夏に乾燥し、冬に降水量が多くなる気候を何というか。
- (4) EU最大の農業国であるC国について、次の問いに答えよ。
  - ① この国の国名を答えよ。
  - ② この国では、穀物の栽培と家畜の飼育を組み合わせた農業がさかんである。このような農業を何というか。



2	(1)
	(2)
	(3)
	①
	②
	(5)
	(6)

- (5) 地図中の国の多くが加盟しているEUの多くの国では、共通通貨が導入されている。この共通通貨の単位を何というか。
- (6) 三大宗教のうち、地図中の地域に信者が多い宗教を何というか。



# 演習問題 B

1 右の地図を見て、次の問いに答えなさい。

⇒ 1

□(1) 地図中の大陸のうち、三大洋すべてに面している大陸名を答えよ。

[ ]

□(2) 地球上でAのほぼ正反対にあたる地点を、地図中のア～エから1つ選び、記号で答えよ。

[ ]

□(3) Bの湾岸は、世界最大の石油の産出地である。この湾を何というか。

[ ]

□(4) **記述** 西岸海洋性気候に

位置し、緯度が高いわりに冬でもあたたかい国を地図中のa～dから一つ選び記号で答えよ。また、その理由を簡単に説明せよ。

国[ ]

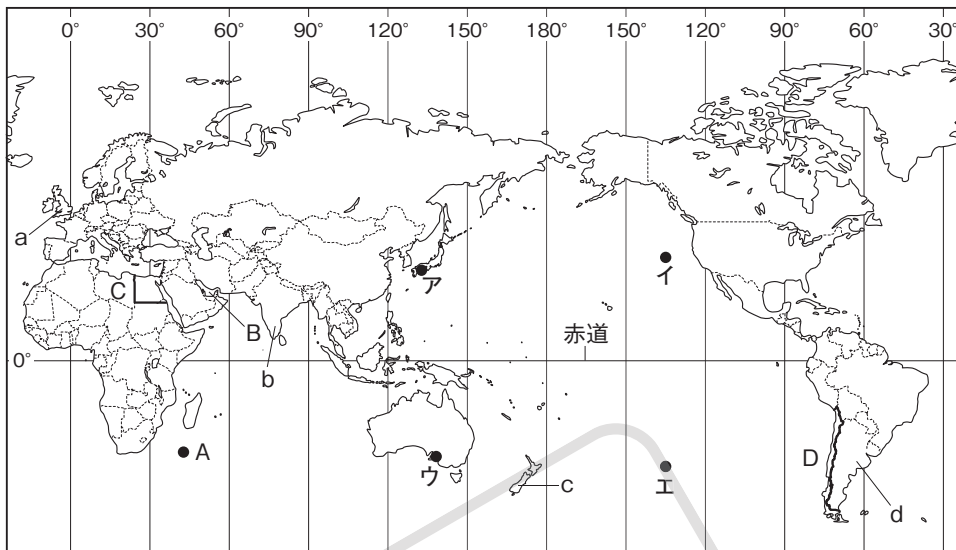
理由[ ]

□(5) 次の文の①～③にあてはまる語句の組み合わせとして正しいものを、下のア～エから1つ選び、記号で答えよ。

国境線には□①を利用したCのような国境線や、Dのように□②を利用した国境線などがある。このうち、□③は、この地域が植民地として支配されたときの境界線のなごりである。

[ ]

- ア ① 自然地形      ② 緯線や経線      ③ C      イ ① 自然地形      ② 緯線や経線      ③ D
- ウ ① 緯線や経線      ② 自然地形      ③ C      エ ① 緯線や経線      ② 自然地形      ③ D



2 右の地図を見て、次の問いに答えなさい。

⇒ 2 地図 I

□(1) 地図 I・地図 IIの斜線で示した地域で共通して栽培のさかんな農作物を、次のア～エから1つ選び、記号で答えよ。[ ]  
ア とうもろこし    イ 茶    ウ 小麦    エ 米(稲)

□(2) 地図 I の緯線 X と地図 II の緯線 Y は同じ緯度である。この緯線の緯度として正しいものを、次のア～エから1つ選び、記号で答えよ。

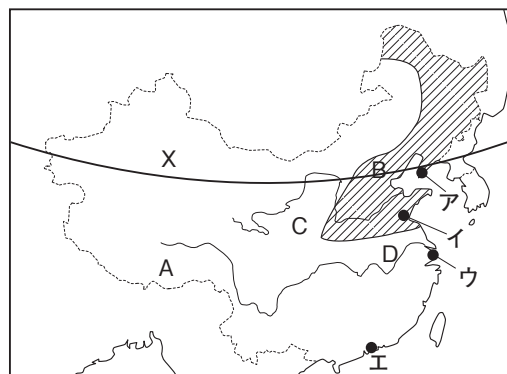
- ア 北緯20度    イ 北緯30度    [ ]
- ウ 北緯40度    エ 北緯50度

□(3) 経済特区として発展している中国のシェンチェンを、地図 I 中のア～エから1つ選び、記号で答えよ。[ ]

□(4) 中国は多くの民族がくらしているが、少数民族が多くくらす地域を地図 I の A～D から1つ選び、記号で答えよ。[ ]

□(5) 地図 II で示した a～d の州のうち、ヒスパニックの人々の人口が他の州よりも多い州とヒスパニックの人々の説明の組み合わせとして正しいものを次のア～エから1つ選び、記号で答えよ。[ ]

- ア a - 中南米からの移民      イ b - 中南米からの移民
- ウ c - 先住民との混血の人々    エ d - 先住民との混血の人々



地図 II

