

この本の特徴

この本は、6年の冬休み前までの内容を中心に、重要な内容を厳選して取り扱ったテキストです。各課とも、最初の1ページで重要なポイントをおさえ、残りの3ページの確認問題と練習問題で知識を定着させるという流れになっています。

1課に1枚の別冊確認テストと、この本全体の総合確認テストがついています。各課の理解度チェックはもちろん、総復習や家庭学習にも役立ちます。

この本の使い方

- ポイント整理……その課でしっかりと覚えておかななくてはならないことがらをまとめてあります。
- 確認問題……「ポイント整理」で学習した内容を確認するための問題です。
- 練習問題……「ポイント整理」「確認問題」で学んだ内容をもう一度確認するための問題です。ここで完全に自分のものにしてください。
- 総合問題……本書の総まとめの問題です。本書で学んだ内容を完成させましょう。
- 社会を楽しもう……これまでに学んだ内容について、写真や資料、図でまとめてあります。知識を整理したり、簡単な文にまとめたりする問題にトライしてみましょう。

もくじ

小6社会

1 武士の世の中	2
2 江戸時代の世の中	6
3 明治時代の国づくり	10
4 明治・大正時代の日本のあゆみ	14
総合問題①	18
総合問題②	20
社会を楽しもう	22
重要語句のまとめ	24

写真：ユニフォトプレス／神奈川県立歴史博物館／共同通信社／高台寺／国立国会図書館ウェブサイト／国立歴史民俗博物館／長興寺／©徳川美術館イメージアーカイブ・DNPpartcom／豊田市郷土資料館／内藤昌 復元©／日本製鉄株式会社 九州製鉄所／明治神宮聖徳記念絵画館／本居宣長記念館／六波羅蜜寺・アサヌマ写真スタジオ(敬称略)

4 明治・大正時代の日本のあゆみ

見方・考え方

明治・大正時代の戦争との関わりを振り返る

日本と諸外国との関係の変化がもたらしたえいきょうを理解しよう！

1 日清戦争と日露戦争

- (1) 日清戦争…1894年に朝鮮で内乱が起こると、日本と中国(清)がそれぞれ軍隊を朝鮮に送り、戦争が始まった。日本が勝ち、講和条約を結んで、賠償金や台湾などの領土を得た。しかし、ロシアがドイツ・フランスとともにリャオトン半島を清に返すように要求したので、日本はこの要求を受け入れた。
- (2) 日英同盟…ロシアが満州(中国東北部)に軍隊を送ると、1902年、日本はイギリスと同盟を結んでロシアに対抗した。
- (3) 日露戦争…1904年に始まり、日本海海戦で東郷平八郎の艦隊がロシア艦隊を破った。アメリカの仲立ちで講和条約が結ばれ、日本は樺太(サハリン)の南半分と満州の鉄道の権利などを得たが、賠償金が得られなかったので日比谷(東京都)で暴動が起こった。
- (4) 韓国併合…1910年、日本は朝鮮(韓国)を植民地にした。

2 条約改正と産業・科学の発達

- (1) 不平等条約…日米修好通商条約で、領事裁判権[治外法権]を認め、関税自主権がなかったことは、日本の発展をさまたげた。
- (2) 条約改正の努力…ノルマントン号事件をきっかけに、条約改正を求める国民の声が高まった。1894年、外務大臣陸奥宗光がイギリスと交渉して領事裁判権を廃止し、1911年、外務大臣小村寿太郎がアメリカと交渉して関税自主権を回復した。
- (3) 産業の発達…日清戦争の賠償金の一部で福岡県に八幡製鉄所がつけられ、1901年に操業を始めた。足尾銅山の鉱毒で被害者が出た栃木県では、衆議院議員の田中正造が救済をうったえた。
- (4) 医学の発達…破傷風の治療法を発見した北里柴三郎、赤痢菌を発見した志賀潔、伝染病の病原体を研究した野口英世が現れた。

3 第一次世界大戦と日本

- (1) 第一次世界大戦…1914年、ヨーロッパをおもな戦場にして始まり、日本も日英同盟を理由にして参戦し、1918年に終わった。大戦中は輸出が増えて好景気になったが、米の値段が急に上がったので、米の安売りを求める米騒動が富山県から全国に広がった。
- (2) 普通選挙制…民主主義の実現のため、普通選挙を求める運動が起こり、1925年、25才以上のすべての男子が衆議院議員の選挙権を持った。同じ年に治安維持法が定められて、政治運動や社会運動の取りしまりが進んだ。
- (3) 関東大震災…1923年、多くの被害者が出て、社会が混乱した。

▼日清戦争のころの東アジア



▼「君死にたまふことなかれ」

あゝをとうとよ、
君を泣く、
君死にたまふことなかれ、
末に生れし君なれば
親のなさはまさりしも、
親は刃をにぎらせて
人を殺せとをしへしや、
人を殺して死ぬよとて
二十四までをそだてしや。
※与謝野晶子はこの詩で、日露戦争に反対する気持ちを表しました。

▼ノルマントン号事件



※この事件では、領事裁判権の存在が大きな問題になりました。

▼大正時代の社会運動

- ・全国水平社
差別を受けてきた人々が、差別をなくす運動を進めるためにつくった。
- ・平塚らいてう
市川房枝らとともに、女性の権利と地位向上をめざす運動を進めた。

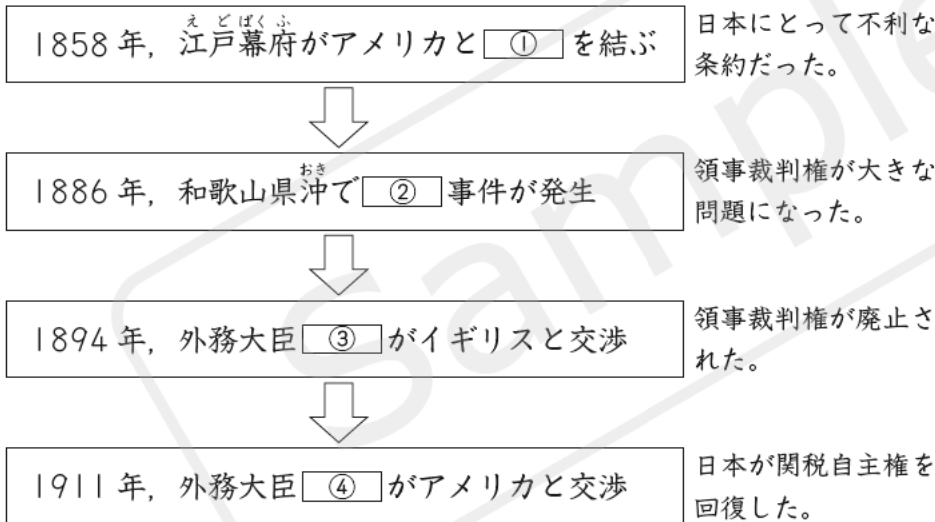
確認問題

□1 明治時代の日本について、次の年表の□にあてはまることばを書きなさい。 →1

年代	おもなできごと
1894	朝鮮の内乱をきっかけにして□①が始まる
1895	①が終わって講和条約が結ばれる ロシアなどの要求で、日本が□②を清に返す
1902	日本とイギリスがロシアに対抗するために□③を結ぶ
1904	日本とロシアの間で□④が始まる
1905	④が終わって講和条約が結ばれ、日本は新しい領土としてロシアから□⑤の南半分を得る
1910	日本が□⑥を行って朝鮮半島を植民地にする

- 1
- ① _____
- ② _____
- ③ _____
- ④ _____
- ⑤ _____
- ⑥ _____

□2 条約改正問題の展開について、次の表の□にあてはまることばや人名を書きなさい。 →2



- 2
- ① _____
- ② _____
- ③ _____
- ④ _____

□3 次のA～Cは大正時代の社会運動に関する標語です。それぞれの説明文の□にあてはまることばや人名を書きなさい。 →3

- A 「もともと女性は太陽だったが、今は月である。」
これは□①が書いた文章の一部です。太陽としてのがやきを取りもどすため、彼女は市川房枝らとともに女性の権利の拡大や地位の向上をめざす運動を進めました。
- B 「光りかがやく新しい世の中にしよう。」
これは□②の大会で行われた演説の一部です。この団体は、全国規模で差別をなくす運動を進めるためにつくられました。
- C 「民主主義を実現して、国民のための政治を行おう。」
この運動は大きく広がり、具体的な手だてとして政府に□③を要求しました。その結果、1925年に□③制が成立しました。


- 3
- ① _____
- ② _____
- ③ _____

練習問題

1 ^{にっしん} ^{にあろ} **日清・日露戦争** 右の資料を見て、次の問いに答えなさい。

□(1) 資料1は、日清戦争の資料1

ころの国々の関係を、皮肉をこめてえがいたふうし画です。資料1について述べた、次の文章中の(㉠)～(㉤)にあてはまる国名を、あとのア～カから1つずつ選び、記号で答えなさい。



「日本と(㉠)の2人の人物がつろうとしている魚は、1894年に内乱ないらんが起こった(㉡)です。橋の上でようすを見ている人物は(㉢)を表し、日清戦争で日本が(㉣)から得た領土の一部を返させました。」

ア アメリカ イ 中国 ウ ドイツ エ 朝鮮
オ ロシア カ フランス

□(2) 日露戦争が始まる2年前に、ロシアの勢力拡大かくたいをおさえるという共通の目的から、日本と同盟を結んだ国はどこですか。



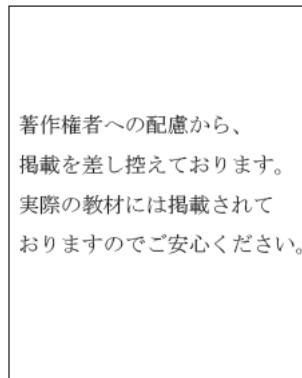
□(3) 日露戦争によって日本が新しく得た領土を、右の地図中のア～エから1つ選び、記号で答えなさい。

□(4) 日露戦争が行われているとき、資料2の詩を発表して、戦争に反対する気持ちを表明した人物の名前を書きなさい。

資料2
あゝをとうとよ、
君を泣く、
君死にたまふことなけれ、

□(5) 資料3は、1901年に操業そうぎょうを始めた官営の製鉄所の写真です。この製鉄所の名前を書きなさい。

資料3



著作権者への配慮から、掲載を差し控えております。実際の教材には掲載されておりますのでご安心ください。

□(6) 日本の産業の発達について、次の各文の____線部が正しければ○、まちがっていれば正しいことばを書きなさい。

- ① 資料3の製鉄所は、日露戦争の賠償金ばいしょうきんの一部を使ってつくられた。
- ② 資料3の製鉄所は、群馬ぐんま県にあった。
- ③ 資料3の製鉄所によって重工業が発展する一方、栃木とちぎ県では足尾銅山あしおの鉱毒問題が起こった。

1	㉠	
	(1) ㉡	
	㉢	
(2)		
(3)		
(4)		
(5)		
(6)	①	
	②	
	③	

② 条約改正・第一次世界大戦 次の年表を見て、あとの問いに答えなさい。

年代	おもなできごと
1858	① 日米修好通商条約が結ばれる
1886	② ノルマントン号事件が起こる
③ 1894	④ 陸奥宗光外務大臣が条約の一部改正に成功する
⑤	⑥ 小村寿太郎外務大臣が条約の改正を達成する
1914	⑦ 第一次世界大戦が始まる
1925	⑧ 普通選挙制が実現し、(⑨)が制定される

(1)	①	
	②	
(2)		
(3)	①	
	②	
(4)		
(5)	①	
	②	
(6)	オ以上	
(7)		

(1) 次の①・②は、___線部④が不平等条約とされている内容です。それぞれの権利の名前を書きなさい。

- ① 日本で罪をおかした外国人が、日本の法律で処罰されない権利。
- ② 日本が持っていなかった、輸入品に自由に税をかける権利。

(2) ___線部②の事件が問題になって国民がおこり、___線部⑥によって廃止されたのは、(1)の①・②のどちらの権利ですか。①か②で答えなさい。

(3) ___線部⑤の2年前、東京に伝染病研究所という施設がつけられました。このことについて、次の問いに答えなさい。

- ① 破傷風という病気を治療する方法を発見して世界に認められ、この研究所の設立者になった医学者はだれですか。
- ② この研究所に所属したことがあり、アメリカやアフリカで伝染病の病原体を研究した右の写真の人物はだれですか。



(4) ⑤にあてはまる年代を、次のア～エから1つ選び、記号で答えなさい。

ア 1901 イ 1904 ウ 1910 エ 1911

(5) ___線部⑦の第一次世界大戦について、次の問いに答えなさい。

① この世界大戦でおもな戦場になった地域を、次のア～エから1つ選び、記号で答えなさい。

ア アジア イ アフリカ
ウ 北アメリカ エ ヨーロッパ

② この世界大戦が日本にあたえたえいきょうについて述べた、次のア～エの文のうち、内容がまちがっているものを1つ選び、記号で答えなさい。

ア 輸出が増えた。 イ 景気がよくなった。
ウ 物価が急に下がった。 エ 米騒動が起こった。

(6) ___線部⑧の普通選挙制の実現によって、何オ以上のすべての男子に選挙権があたえられましたか。数字で書きなさい。

(7) 政治運動などを取りしめる(⑨)の法律を何といいますか。