

本書の特色

この本は、中学2年冬休み前までの復習で構成されたテキストです。基本問題を中心に編集しましたので、基礎力の充実に効果的です。

各課とも最初の2ページで確認ドリルを解きながら重要なポイントをおさえ、3～6ページの基本問題・演習問題で知識を定着させる…という流れになっています。

本書の使い方

• 要点整理／確認ドリル

その課でしっかり身につけたいことがらをまとめてあります。要点をしっかりとおさえ、問題で確認してください。

• 基本問題…要点整理／確認ドリルの内容を確実に身につけるための問題です。

• 演習問題…その課で学習した内容をもう一度確認するための問題です。ここで、弱点を補強し、知識を定着させてください。

• 総合問題…本書で学習した内容が身についたかどうかを確かめる問題です。

も く じ

〈中2社会〉

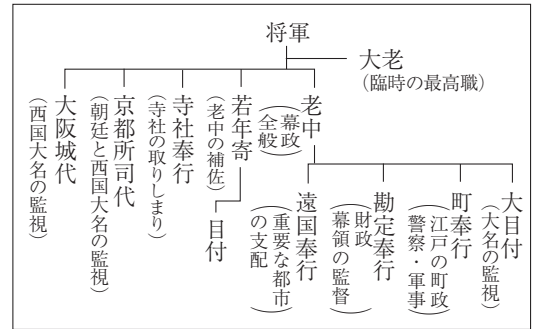
1 身近な地域・日本の地域的特色	2
2 日本の諸地域	8
3 ヨーロッパとの出会いと天下統一	14
4 江戸時代	20
資料を使った問題	26
総合問題	28
重要語句のチェック	31

4 江戸時代

1 江戸幕府の成立と幕政改革

- (1) 江戸幕府の成立…1600年、徳川家康が関ヶ原の戦いで勝利。
- 幕藩体制…全国に大名を配置(親藩・譜代・外様)。
 - 大名統制…武家諸法度の制定→徳川家光が参勤交代の制度化。
 - 対外関係…朱印船貿易→東南アジアに日本町。キリスト教禁教→スペイン船来航禁止→島原・天草一揆(1637年)→ポルトガル船来航禁止→オランダ商館を長崎の出島に移転、鎖国の完成(1641年)。中国・オランダと長崎で貿易。朝鮮通信使。琉球王国が薩摩藩に服属、松前藩が蝦夷地でアイヌと交易。

江戸幕府のしくみ



- (2) 江戸時代の社会…武士, 百姓(本百姓と水呑百姓)→五人組, 町人など。農具(備中ぐわ・千歯こき)の発達。新田開発, 商品作物。商人が株仲間(同業者組織)を結成。大阪に蔵屋敷(「天下の台所」)。工場制手工業。
- (3) 幕政の改革
- 徳川綱吉…儒学(朱子学)を重視。生類憐みの令。綱吉の死後は新井白石の政治。
 - 徳川吉宗…享保の改革(1716~45年)。公事方御定書の制定, 目安箱の設置。
 - 田沼意次…株仲間を奨励し, 税を納めさせる。長崎貿易の活発化。
 - 松平定信…寛政の改革(1787~93年)。朱子学以外の儒学を禁止, 旗本・御家人の借金を帳消し。
 - 水野忠邦…天保の改革(1841~43年)。株仲間を解散。江戸・大阪周辺を幕領にしようとして失敗。
- (4) 幕府の動揺…百姓一揆や打ちこわし。大阪で大塩平八郎の乱。外国船の接近→異国船打払令。

元禄文化…上方(京都・大阪)中心

- 文学…俳諧(松尾芭蕉)
浮世草子(井原西鶴)
人形浄瑠璃(近松門左衛門)
- 美術…浮世絵(菱川師宣)

化政文化…江戸中心

- 文学…小説(曲亭(滝沢)馬琴, 十返舎一九)
俳諧(与謝蕪村, 小林一茶)
狂歌, 川柳
- 美術…浮世絵(歌川広重, 葛飾北斎)

学問

- 国学…古事記伝(本居宣長)
- 蘭学…解体新書(杉田玄白)
- 地図…伊能忠敬
- 教育機関…寺子屋

確認ドリル 1

- 江戸時代の初期に, おもに東南アジアで行われていた貿易を何というか。
- 諸藩が年貢米などを保管, 販売するために大阪に置いた倉庫を何というか。
- 公事方御定書を制定するなど, 徳川吉宗が行った政治改革を何というか。
- 田沼意次が税をとるために結成を奨励した, 商人の同業者組織を何というか。
- 大阪で貧しい人々のために挙兵した, 幕府の元役人はだれか。
- 江戸時代の後半, 江戸を中心に栄えた文化を何というか。

①	
②	
③	
④	
⑤	
⑥	

2 ヨーロッパの近代化と日本の開国

- (1) **市民革命**…啓蒙思想の広まり。ロックが社会契約説と抵抗権，モンテスキューが三権分立，ルソーが人民主権を主張。
 - ① **イギリス**…ピューリタン革命→共和政。**名誉革命**で**権利(の)章典**→立憲君主制。
 - ② **アメリカ**…ワシントンを総司令官として**独立戦争**→アメリカ合衆国。**南北戦争**でリンカンが**奴隷解放**を宣言。
 - ③ **フランス**…絶対王政→**フランス革命**で**人権宣言**→ナポレオンの支配。
- (2) **産業革命**…18世紀後半のイギリスで蒸気機関の利用→大量生産・交通網の発達→社会や経済のしくみの大きな変化。労働者を雇い利益を求める**資本主義**の成立→格差や貧困→マルクスらが**社会主義**を主張。
- (3) **イギリスのアジア侵略**…清・インドと三角貿易→1840年，**アヘン戦争**に勝利→**南京条約**。**太平天国の乱**。**インド大反乱**。

(4) 日本の開国

- ① **開国**…1853年，ペリーが浦賀に来航。
- ② **日米和親条約**…1854年，下田と函館を開港。
- ③ **日米修好通商条約**…1858年，神奈川(横浜)，函館，長崎，新潟，兵庫(神戸)，長崎を開港。関税自主権がない，領事裁判権を認める(治外法権)など日本に不平等な内容→貿易の開始→生糸や茶の輸出で物価上昇。

(5) 江戸幕府の滅亡

- ① **攘夷から倒幕**…尊王攘夷運動→井伊直弼による安政の大獄・桜田門外の変。薩摩藩・長州藩が攘夷に失敗→坂本龍馬の仲立ちで**薩長同盟**→倒幕運動。
- ② **幕府の滅亡**…各地で「世直し」を求める一揆，「ええじゃないか」と踊りまわるさわぎ。1867年，**徳川慶喜**が**政権**を朝廷に返す(**大政奉還**)→王政復古の大号令→新政府軍と旧幕府軍による**戊辰戦争**→新政府が日本を統一。

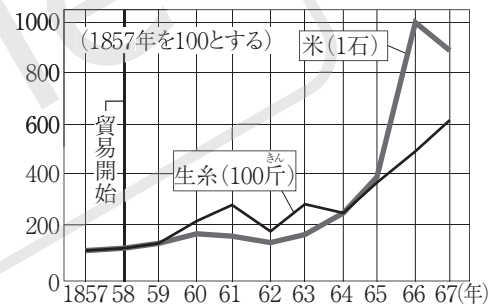
① フランス人権宣言

第一条 人は生まれながらに、自由で平等な権利を持つ。
 第三条 主権の源は、もともと国民の中にある。(一部要約)

① アメリカ独立宣言

我々は以下のことを自明の真理であると信じる。人間はみな平等につくられ、ゆずりわたすことのできない権利を神からあたえられている。その中には、生命、自由、幸福追求の権利がある。(一部要約)

① 開国後の物価の変化



確認ドリル 2

- ① フランス革命で議会が発表した，自由や平等などを唱えた宣言を何というか。
- ② 18世紀後半に産業革命が始まり，19世紀に「世界の工場」とよばれた国はどこか。
- ③ イギリスと清との間でおこったアヘン戦争の講和条約を何というか。
- ④ 1854年にアメリカとの間で結ばれた日米和親条約で開かれた港は函館とどこか。
- ⑤ 1858年に大老の井伊直弼が朝廷の許可を得ずに結んだ条約を何というか。
- ⑥ 15代将軍の徳川慶喜が政権を朝廷に返したできごとを何というか。

①	
②	
③	
④	
⑤	
⑥	

基本問題 A

1 江戸幕府の成立と幕政改革 次の年表の①～⑦に当てはまることばを答えなさい。また、(1)～(4)の問いに答えなさい。

時代	江戸時代								
年	1600	1637	1641	1680	1742	1772	1787	1837	1841
できごと	① が関ヶ原の戦いに勝利する	九州で ② 一揆がおこる	オランダ商館を ③ に移す	徳川綱吉が将軍となる	徳川吉宗が ④ を制定する	田沼意次が老中となる	⑤ が寛政の改革を始める	大阪で ⑥ が挙兵する	水野忠邦が ⑦ の改革を始める

- ① _____
- ② _____
- ③ _____
- ④ _____
- ⑤ _____
- ⑥ _____
- ⑦ _____
- (1) _____
- (2) _____
- (3) _____
- (4) _____

- (1) オランダ商館が③に移ることで完成した、幕府が貿易を統制し、外交を独占する政策はのちに何とよばれたか。
- (2) 徳川綱吉のころに上方を中心に栄えた文化を何というか。
- (3) 徳川吉宗が行った政治改革を何というか。
- (4) 水野忠邦が解散させた、商人の同業者組織を何というか。

2 ヨーロッパの近代化と日本の開国 次の年表の①～⑥に当てはまることばを答えなさい。なお、①には同じことばが当てはまります。また、(1)～(3)の問いに答えなさい。

時代	江戸時代									
年	1640 (1642)	1688	1775	1789	1840	1853	1854	1858	1866	1867
できごと	① でピューリタン革命がおこる	① で名誉革命がおこる	アメリカで独立戦争	② 革命がおこる↓人権宣言	③ 戦争がおこる↓南京条約	ペリーが ④ に來航する	⑤ 条約が結ばれる	日米修好通商条約が結ばれる	薩長同盟が結ばれる	⑥ が政権を朝廷に返す

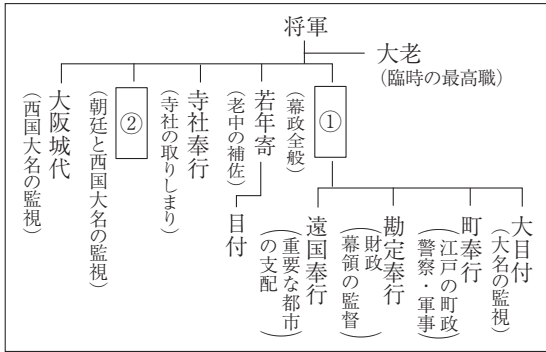
- ① _____
- ② _____
- ③ _____
- ④ _____
- ⑤ _____
- ⑥ _____
- (1) _____
- (2) _____
- (3) _____

- (1) 18世紀にイギリスで始まった、蒸気機関を動力として使うことで工業が発展したことによる社会や経済の大きな変革を何というか。
- (2) 市民革命に影響をあたえた思想家のうち、三権分立を唱えたのはだれか。
- (3) 旧幕府軍と新政府軍による内戦を何というか。

基本問題 B

1 江戸幕府の成立と幕政改革 次の問いに答えなさい。

図



資料

一、文武弓馬にはげむこと。
 一、城を修理するときは、必ず届け出よ。
 一、大名は、勝手に婚姻を結んではならない。

1	①
(1)	②
(2)	
(3)	
(4)	
(5)	

- (1) 図の ①, ② に当てはまる役職を, ア~エからそれぞれ選べ。
 ア 老中 イ 管領 ウ 六波羅探題 エ 京都所司代
- (2) 資料は, 江戸幕府が大名を統制するために制定した法令を示している。この法令を何というか。
- (3) 3代将軍徳川家光によって(2)に加えられた, 大名が1年おきに江戸と領地を行き来する制度を何というか。
- (4) 元禄文化が発達したころの人形浄瑠璃の作者を, ア~エから選べ。
 ア 本居宣長 イ 近松門左衛門 ウ 伊能忠敬 エ 歌川広重
- (5) 庶民の子どもに「読み・書き・そろばん」を教えた教育施設を何というか。

2 ヨーロッパの近代化と日本の開国 次の問いに答えなさい。

資料Ⅰ (一部要約)

第一条 人は生まれながらに, 自由で平等な権利を持つ。社会的な区別は, ただ公共の権利に関係のある場合にしか, 設けてはならない。
 第三条 主権の源は, もともと国民の中にある。

資料Ⅱ (一部要約)

我々は以下のことを自明の真理であると信じる。人間はみな平等につくられ, ゆずりわたすことのできない権利を神からあたえられている。その中には, 生命, 自由, 幸福追求の権利がある。

資料Ⅲ (一部要約)

第四条 日本に対して輸出入する品々には別記の通り日本政府へ関税を納めること。
 第六条 日本人に対して法を犯したアメリカ人は, アメリカ領事裁判所で調べた上, アメリカの法律で罰する。

2	
(1)	
(2)	
(3)	
(4)	
(5)	

- (1) 資料Ⅰは, 1789年におこったフランス革命において出された宣言を示している。この宣言を何というか。
- (2) 資料Ⅰの下線部の考えに影響をあたえた啓蒙思想家を, ア~ウから選べ。
 ア ルソー イ モンテスキュー ウ ロック
- (3) 資料Ⅱは, ワシントンを経司令官として行われた独立戦争で出された独立宣言を示している。資料Ⅱはどこの国の独立宣言か。
- (4) 資料Ⅲは, 1858年に結ばれた日本にとって不平等な内容が含まれている条約を示している。この条約を何というか。
- (5) 資料Ⅲの条約で開港した港に当てはまらないものを, ア~エから選べ。
 ア 新潟 イ 函館 ウ 長崎 エ 下田

演習問題

1 江戸幕府の成立と幕政改革 年表を見て、問いに答えなさい。

年表

年	できごと	
1600	関ヶ原の戦いで徳川家康が勝利する……………	
1623	1 徳川家光が将軍となる	↑ A ↓
1680	徳川綱吉が将軍となる……………	↑ B ↓
1716	2 徳川吉宗が将軍となる……………	↑ C ↓
1772	3 田沼意次が老中となる	
1787	松平定信が 4 となる……………	↑ D ↓
1841	水野忠邦が 5 の改革を始める……………	↑ Y ↓

□(1) , に当てはまる文化の名と、その文化の中心となった都市の組み合わせとして正しいものを、ア～エから選べ。

- ア X…元禄－江戸 Y…化政－大阪・京都
- イ X…化政－江戸 Y…元禄－大阪・京都
- ウ X…元禄－大阪・京都 Y…化政－江戸
- エ X…化政－大阪・京都 Y…元禄－江戸

(2) **記述** 下線部1について、①、②に答えなさい。

□① 次の文の に当てはまる内容を、「領地」ということばを使って、簡単に書け。

徳川家光は、大名が という参勤交代を制度化し、大名の統制を強めた。

□② 徳川家光がポルトガル船の来航を禁止したあと、商館が平戸から長崎の出島に移され、ヨーロッパの国で唯一幕府との貿易を許された国はどこか。

□(3) 下線部2が制定した裁判の基準を何というか、ア～エから選べ。

- ア 公事方御定書 イ こせいばいしきもく 御成敗式目
- ウ たいほうりつりょう 大宝律令 エ 武家諸法度

□(4) 下線部3が、幕府の税収を増やすために結成を奨励した同業者の組織は何か。

□(5) 4 に当てはまる幕府の役職を、ア～エから選べ。

- ア 大老 イ 老中 ウ せつせい 摂政 エ しつけん 執権

□(6) 5 に当てはまることばを書け。

(7) 次の①、②がおこった時期を、年表のA～Dからそれぞれ選べ。

- ① 九州でキリスト教徒を中心とする大規模な一揆がおこった。
- ② 大塩平八郎が大阪で貧しい人々のために挙兵した。

□(8) 年表の時期に、「古事記」を研究して「古事記伝」を著した本居宣長が大成した学問を何というか。

1	(1)
2	①
3	②
4	(3)
5	(4)
6	(5)
7	①
8	②
9	(8)

2 ヨーロッパの近代化と日本の開国 次のA～Dの文を読んで、問いに答えなさい。

A イギリスではピューリタン革命のあと、王政が復活したが、^① 議会が国王を退位させてオランダから新しい国王を迎えた。

B アヘンをめぐって、イギリスと との間で戦争がおり、イギリスが勝利して南京条約を結んだ。

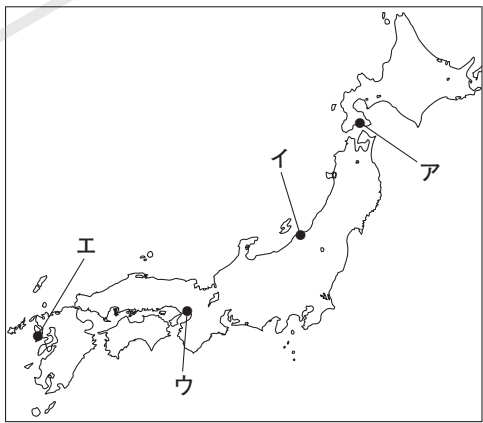
C アメリカの が大統領の国書をもって浦賀に来航し、翌年、^② 日米和親条約 を結んだ。さらにその4年後には、^③ 日米修好通商条約 を結んで貿易を開始した。

D 第15代将軍となった徳川慶喜は、^④ 土佐藩 のすすめで、^⑤ 政権を朝廷に返上した。これに対して、薩摩藩の西郷隆盛や公家の岩倉具視らは、^⑥ 王政復古の 大号令を出し、慶喜に官位や領地の返上を命じた。

- (1) 下線部①について、この革命を何というか。また、この革命の際に議会が新しい国王に認めさせたものを、**ア～エ**から選びなさい。
- ア** マグナ・カルタ **イ** 奴隷解放宣言
ウ 独立宣言 **エ** 権利(の)章典
- (2) Bの に当てはまる、当時の中国の王朝の名を何というか。
- (3) AとBの間の時期におこった次の文の X Y に当てはまることばをそれぞれ書け。

この時期にイギリスから始まった産業革命によって、資本家が労働者を雇って、利益の拡大を目指して自由に生産や販売を行う X 主義という経済のしくみが広がった。これに対して、生産手段を共有して平等な社会を実現しようという Y 主義も主張されるようになった。

- (4) Cの に当てはまる人物の名を書け。
- (5) 下線部②で開港し、下線部③でも引き続き開港した港を、地図の **ア～エ**から選べ。
- (6) **記述** 下線部③には日本に不利な内容が含まれている。その内容とは、日本で罪を犯した外国人を日本の法律で裁けないことのほかどのようなことか、「関税」ということばを使って、簡単に書け。



- (7) 下線部④について、この藩の出身で、薩長同盟が結ばれる仲立ちをした人物を、**ア～エ**から選べ。
- ア** 大久保利通 **イ** 坂本龍馬 **ウ** 大塩平八郎 **エ** 井伊直弼
- (8) 下線部⑤のできごとを何というか。
- (9) 下線部⑥に対して不満をもった旧幕府軍と新政府軍との間でおこった内戦を何というか。

	革命
(1)	記号
(2)	
(3)	X Y
(4)	
(5)	
(6)	
(7)	
(8)	
(9)	