

本書の特色

この本は、中1、中2の復習と中3の夏休み前までの学習内容を中心に構成されたテキストです。標準的な問題を中心に編集しましたので、今までに学習したことからの基本を身につけるのにぴったりです。

各課の基本構成は最初の1ページで重要なポイントをおさえ、2ページ目の確認問題で知識を、3～4ページ目の演習問題で実力を定着させる…という流れになっています。また、1課に1枚の別冊確認テストがついています。各課の理解度チェックに役立ててください。

講習準備テストと総合確認テストは、苦手分野の把握や最後の効果測定に利用することができます。

本書の使い方

- **要点整理**…その課でしっかりと身につけたいことがらをまとめてあります。
- **確認問題**…要点整理で学習した内容を確認するための問題です。
- **演習問題**…前ページで学習した内容をもう一度確認し、応用力をつけるための問題です。ここで完全に自分のものにしてください。
- **総合問題**…本書で学習した内容が身についたかどうかを確かめる問題です。全部正解できるようにがんばりましょう。

もくじ

社会中3

1	世界の姿	2
2	世界の諸地域	6
3	日本の姿	10
4	日本の諸地域	14
5	身近な地域の調査	18
6	古代・中世までの日本	22
7	近世の日本	26
8	近代日本の歩み	30
9	第一次世界大戦～日中戦争	34
10	第二次世界大戦～戦後の日本と世界	38
11	現代社会と日本国憲法	42
12	基本的人権	46
	総合問題 ①	50
	総合問題 ②	52
	パワーアップ 記述・作図コーナー	54

1 地球の姿 六大陸のうち、最大の大陸はユーラシア大陸、最小の大陸はオーストラリア大陸。

(1) 陸地と海洋…地球の表面積の約3割が陸地、▼六大陸と三大洋・世界の地域区分

約7割が海洋。六大陸と三大洋がある。

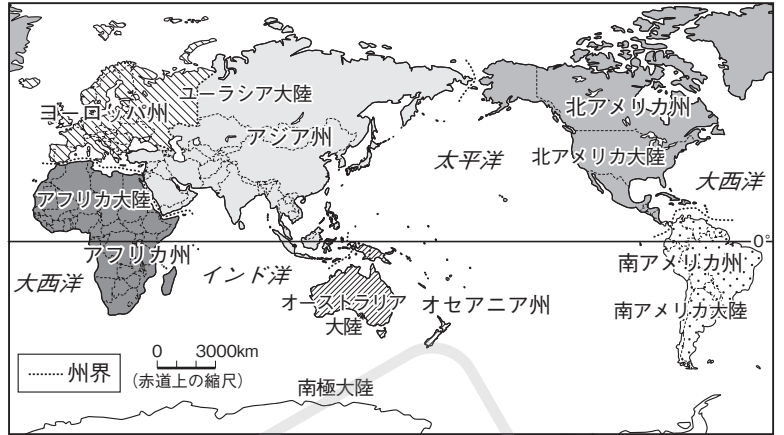
(2) 地球上の位置

① 緯線…緯度を表す線。赤道を0度とし、北緯・南緯90度ずつ。低緯度地方は、年中高温。高緯度地方は年中低温で、夏には白夜。北半球と南半球では季節が逆になる。

② 経線…経度を表す線。イギリスのロンドンを通る本初子午線を0度とし、東経・西経180度ずつに分けられる。

(3) 地球の表現…地球儀は距離・面積・方位・

角度がすべて正確。世界地図には面積が正しい地図や、緯線と経線が直角に交わる地図、中心からの距離と方位が正しい地図などの種類があり、目的に合わせた地図を用いる必要がある。



2 世界の姿

(1) 独立国…領土・国民・主権の3つの条件を満たす国。現在190あまりの独立国がある。

(2) 地域区分…アジア州・ヨーロッパ州・アフリカ州・北アメリカ州・南アメリカ州・オセアニア州の6つの州。

(3) いろいろな国…面積の大きい国=ロシア連邦・カナダ・アメリカ合衆国など。面積が最小の国=イタリアの首都ローマ市内にあるバチカン市国。人口の多い国=中華人民共和国[中国](世界第一位)・インド(世界第二位)。内陸国。島国[海洋国]。

(4) 国境…山脈や川・湖などの自然を利用した国境と、アフリカ大陸に多い植民地支配のなごりの緯線・経線を利用した直線の国境。

3 世界各地の人々の生活と環境

(1) 寒帯…北極や南極に近い地域。一年中雪や氷におおわれる地域では作物が育たない。ツンドラでは短い夏にコケ類が生える。

(2) 冷帯[亜寒帯]…短い夏と寒さの厳しい冬があり、寒暖の差が激しい。シベリアでは広大なタイガ[針葉樹林]が広がる。

(3) 温帯…四季があり、気温や降水量も変化に富み、季節風や偏西風の影響を受ける。温暖湿潤気候、西岸海洋性気候、地中海性気候。

(4) 乾燥帯…降水量が少ない。アラビア半島や北アフリカの砂漠、モンゴルなどのステップ、サハラ砂漠南縁のサヘル。

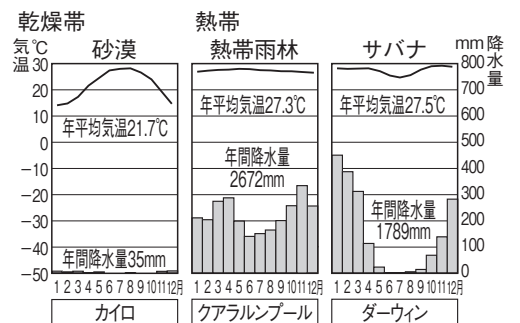
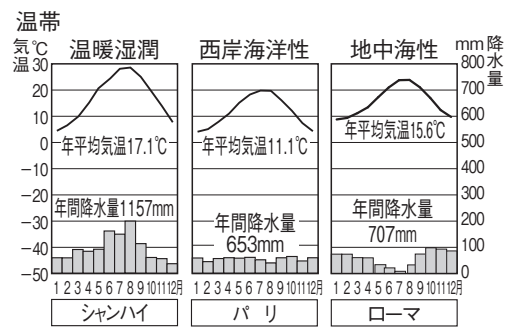
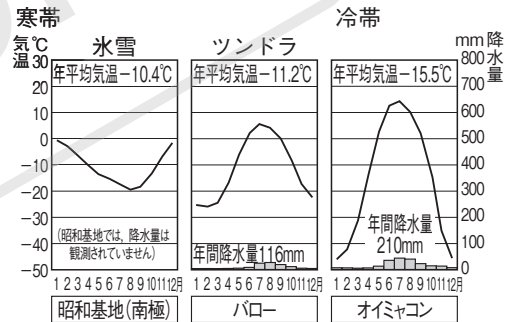
(5) 熱帯…年中高温多雨。一年中農耕が可能な熱帯雨林や、雨季と乾季があるサバナ、南太平洋ではマングローブ林の破壊。

(6) 高地…標高が高いほど気温が下がる。赤道付近でも高地はずすしい。アンデス→とうもろこし・じゃがいもの栽培、放牧。

(7) 低地…大河の下流域で水と生活のかかわりが深い。タイのバンコク→水上交通、高床の住居、小舟で移動。

(8) 宗教と人々の暮らし…仏教・キリスト教・イスラム教が三大宗教。

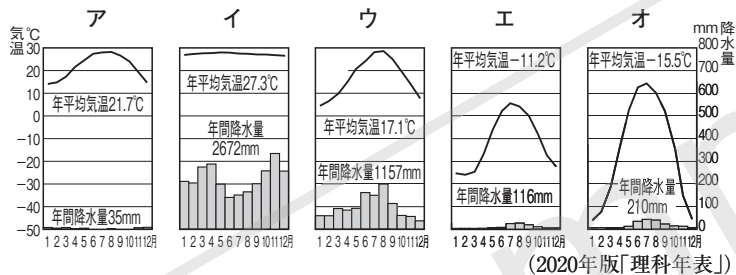
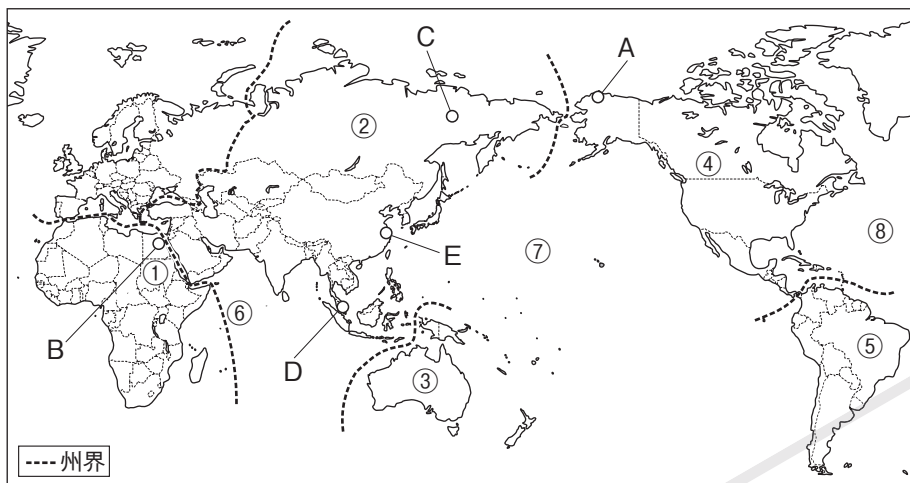
▼各地の気温と降水量



(2020年版「理科年表」ほか)

確認問題

1 次の地図中の①～⑧の大陸名や海洋名を答えなさい。また、A～Eの都市の気温と降水量を示したグラフを、下のア～オから1つずつ選び、記号で答えなさい。



- 1
- ①
- ②
- ③
- ④
- ⑤
- ⑥
- ⑦
- ⑧
- A
- B
- C
- D
- E

2 次の()にあてはまる語句を答えなさい。

- (1) 地球の表面積の約7割を()が占めている。
- (2) 緯度0度の緯線は、()とよばれている。
- (3) ロンドンを通る経度0度の経線は、()とよばれている。
- (4) 南半球と北半球では季節が()になる。
- (5) 独立国は、領土・国民・()の3つの条件を満たした国である。
- (6) ヨーロッパ州と()州は同じ大陸上にある。
- (7) モンゴルやスイスのように海に面していない国を()という。
- (8) 日本やフィリピンのようにまわりを海に囲まれた国を()という。
- (9) アフリカ大陸に多い、緯線や経線を利用した直線の()は、ヨーロッパ諸国による植民地支配のなごりである。

- 2
- (1)
- (2)
- (3)
- (4)
- (5)
- (6)
- (7)
- (8)
- (9)

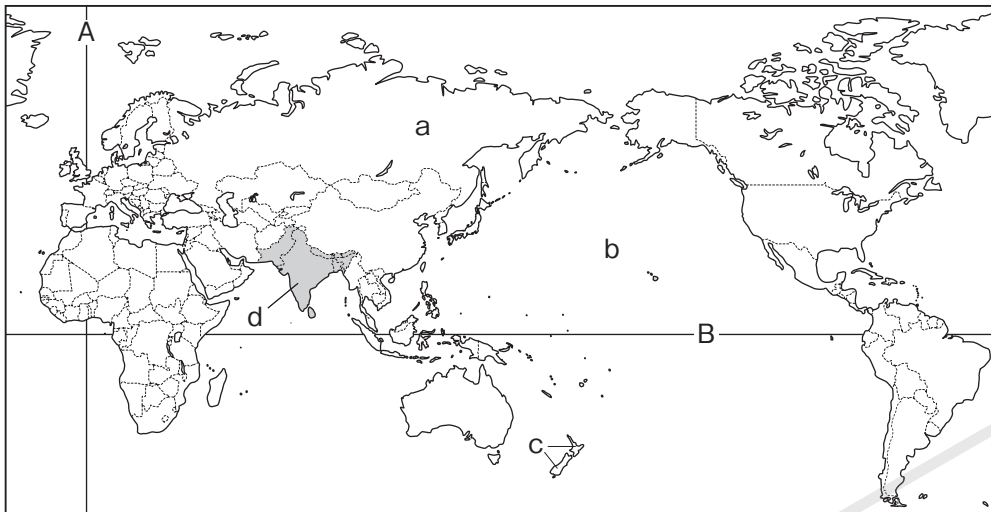
3 次の各問いに答えなさい。

- (1) シベリアなどの冷帯〔亜寒帯〕に広がる、広大な針葉樹の森林を何というか。
- (2) 温帯の大陸東岸に吹く、季節によって向きが変わる風を何というか。
- (3) モンゴルなどにある、夏のあいだ短い草の生える草原を何というか。
- (4) 砂漠化の進行が問題になっている、サハラ砂漠南縁の地域を何というか。
- (5) 熱帯のなかでも雨季と乾季があり、まばらな樹木の生える草原を何というか。
- (6) ヨーロッパや南北アメリカなどで広く信仰されている宗教は何か。

- 3
- (1)
- (2)
- (3)
- (4)
- (5)
- (6)

演習問題 A

1 地球の姿・世界の姿 次の地図を見て、あとの問いに答えなさい。



- (1) aの世界最大の大陸を何というか。
- (2) bの大洋を何というか。
- (3) cの国は、世界を州別に分けたときには、何州に属しているか。
- (4) dで示した国々がアジア州のなかで区分されている地域名を、次のア～エから1つ選び、記号で答えよ。

ア 西アジア イ 東アジア ウ 南アジア エ 中央アジア

- (5) 地球上には6つの大陸があるが、この地図に示されているのは5つだけである。残り1つの大陸名を答えよ。

(6) Aの経線は、経度0度である。この経線について、次の①・②に答えよ。

- ① この経線のことを何というか。
- ② この経線が通る国を、次のア～エから1つ選び、記号で答えよ。

ア イギリス イ エジプト ウ アメリカ合衆国^{がっしゅうこく} エ ブラジル

(7) Bの緯線は赤道である。赤道について、次の①・②に答えよ。

- ① 赤道の緯度は何度か。
- ② 赤道より北の地球の半分の地域を何というか。

(8) 次の①～③にあたる国を、右のア～ケから1つずつ選び、記号で答えよ。

- ① 面積が最大の国 ア フランス イ スイス ウ バチカン市国
- ② 人口が最も多い国 エ ロシア連邦 オ インド カ アメリカ合衆国
- ③ 島国〔海洋国〕 キ 日本 ク カナダ ケ 中華人民共和国〔中国〕

1

(1)	
(2)	
(3)	
(4)	
(5)	
(6)	①
	②
(7)	①
	②
(8)	①
	②
	③

2 世界各地の人々の生活と環境 次の問いに答えなさい。

(1) 次の①・②の生活が見られる地域の気候帯を、下のア～オから1つずつ選び、記号で答えよ。

- ① カリブー(野生のトナカイ)を追う狩猟生活^{しゅりょう}から都市への定住化が進んでいる。
- ② ステップとよばれる草原で移動式住居に住み、やぎやひつじなどの遊牧を行う。

ア 寒帯 イ 冷帯〔亜寒帯〕 ウ 温帯 エ 乾燥帯 オ 熱帯

- (2) 三大宗教のひとつで、東南アジアや東アジアに信者の多い宗教を何というか。
- (3) イスラム教の信者は1日に5回、聖地に向かって礼拝するが、その聖地とはどこか。

2

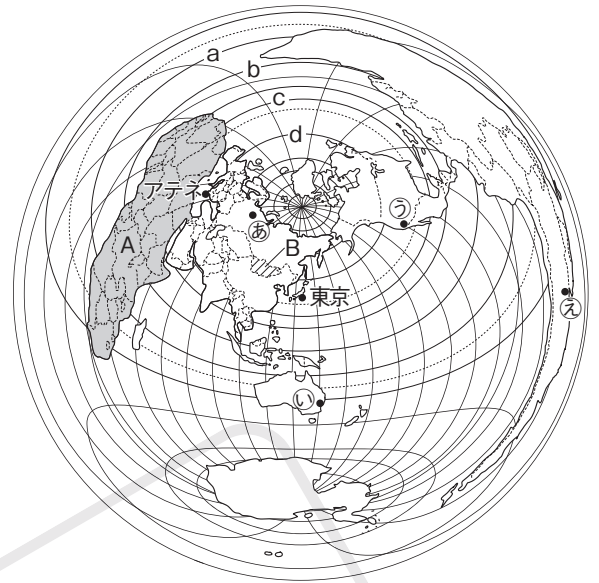
(1)	①
	②
(2)	
(3)	

演習問題 B

1 右の東京からの距離と方位が正しい地図を見て、次の問いに答えなさい。

⇒ 1・2・3

- (1) 東京から見たアテネの方位を、次のア～エから1つ選び、記号で答えよ。 []
 ア 北東 イ 南東 ウ 南西 エ 北西
- (2) Aの大陸名を答えよ。 []
- (3) Bの国について、正しく述べた文を、次のア～エから1つ選び、記号で答えよ。 []
 ア この国では夏に白夜が見られる。
 イ この国は西アジアに属している。
 ウ この国の一部は乾燥帯に属している。
 エ この国の国境は、緯線や経線を利用している。
- (4) 赤道にあたる緯線を地図中のa～dから1つ選び、記号で答えよ。 []
- (5) 次の文で述べている都市を、地図中の㉠～㉣から1つ選び、記号で答えよ。 []
 「日本列島の反対側付近の位置にあり、日本が冬のときには、この都市は夏をむかえている。」
- (6) 東京から真北に向かって出発し、地球を一周したとき、最後に通過する大陸名を答えよ。 []

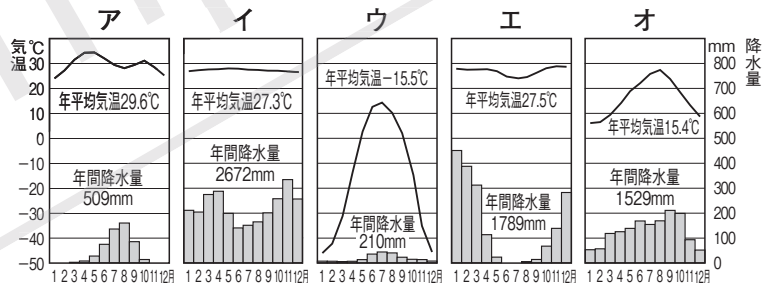


2 世界各地の気候と暮らしについて、次の問いに答えなさい。

⇒ 3

(1) 次の①～⑤の文にあてはまる気温と降水量を示したグラフを、右のア～オから1つずつ選び、記号で答えよ。

- ① サヘルとよばれる地域で、少量の雨は降るが、1年中暑い日が続く。 []
- ② 短い夏と寒さの厳しい冬があり、寒暖の差が激しい。 []
- ③ モンスーンとよばれる季節風の影響を受けて、夏に降水量が多くなる。 []
- ④ 雨の多い雨季と雨の少ない乾季があり、木がまばらな草原のサバナが広がる。 []
- ⑤ 1年中雨が多く、「生物種の宝庫」とよばれる熱帯雨林が広がる。 []



(2020年版「理科年表」)

□(2) 右の図は、ペルーからボリビアにかけてのアンデス山脈沿いに広がる地域の断面図である。図中の①～③はそれぞれどのような特徴があるか。次のa～cから1つずつ選び、記号で答えよ。

① [] ② [] ③ []

- a 熱帯の農産物を栽培する b 氷や雪におおわれている
 c いも類を栽培する

□(3) **記述** 右の地図のDは、寒帯の分布を示している。寒帯で見られる「白夜」という現象を、「緯度」という語句を用いて簡単に説明せよ。

[]

