

本書の特色

この本は、夏休み前までの学習内容を中心に構成されたテキストです。標準的な問題を中心に編集しましたので、今までに学習したことからの基本を身につけるのにぴったりです。

各課の基本構成は最初の1ページで重要なポイントをおさえ、2ページ目の確認問題で知識を、3～4ページ目の演習問題で実力を定着させる…という流れになっています。また、1課に1枚の別冊確認テストがついています。各課の理解度チェックに役立ててください。

講習準備テストと総合確認テストは、苦手分野の把握や最後の効果測定に利用することができます。

本書の使い方

- **要点整理**…その課でしっかりと身につけたいことがらをまとめてあります。
- **確認問題**…要点整理で学習した内容を確認するための問題です。
- **演習問題**…前ページで学習した内容をもう一度確認し、応用力をつけるための問題です。ここで完全に自分のものにしてください。
- **総合問題**…本書で学習した内容が身についたかどうかを確かめる問題です。全部正解できるようにがんばりましょう。

もくじ

社会中 1

1 地球の姿・世界の姿	2
2 日本の姿	6
3 世界各地の気候とくらし	10
4 世界各地の人々の生活	14
5 文明のおこり	18
6 日本の成り立ち	22
7 飛鳥時代	26
8 奈良時代	30
総合問題 ①	34
総合問題 ②	36
記述・作図コーナー	38

2

日本の姿

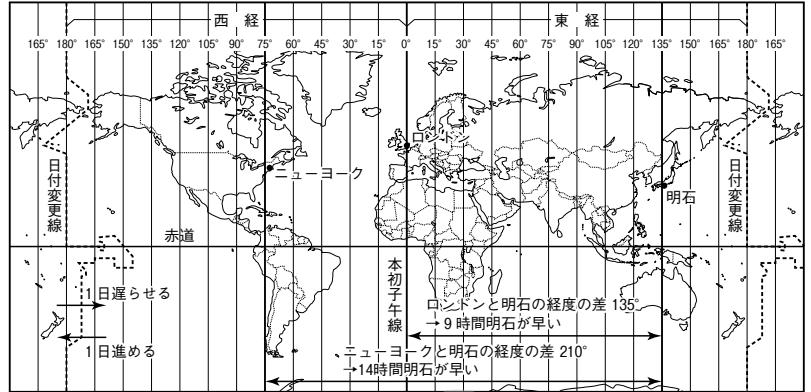
1 日本の位置

- (1) 緯度・経度…北緯20度～46度，東経122度～154度の間。
 - 秋田県の男鹿半島で北緯40度線と東経140度線が交わる。
- (2) 大陸・大洋との関係…ユーラシア大陸の東，太平洋の北西に位置する。

2 日本の標準時と世界の国との時差

- (1) 日本の標準時…兵庫県の明石市を通る，東経135度の経線を標準時子午線とする。
- (2) 時差…地球は24時間で360度回転しているため，経度15度ごとに1時間の時差が生じる。
 - アメリカ合衆国やロシア連邦などは国土が東西に長いので，複数の標準時がある。
 - 同じ標準時を使う地域を等時帯という。
- (3) 日付変更線…経度180度線にほぼ沿って引かれた線。この線を西から東に越えるときは日付を1日遅らせ，東から西に越えるときは1日進める。

▼日本の位置と標準時子午線・時差

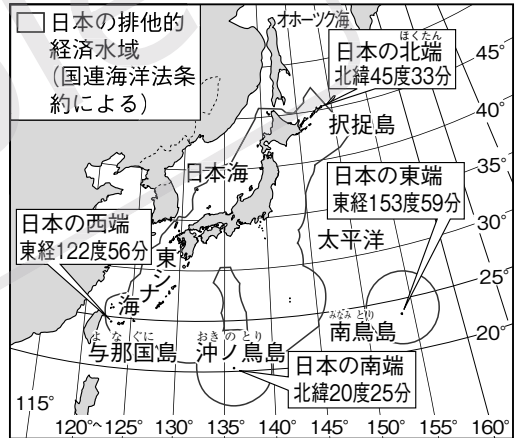


※日本など東アジアはヨーロッパから見て「極東」とよばれることもある。

3 日本の領域

- (1) 日本列島…北海道・本州・四国・九州の4つの大きな島と，多くの小さな島々からなる海洋国(島国)。
 - 面積は約38万km²で，北海道から沖縄まで約3000km。
- (2) 領域と排他的経済水域…日本は領土面積に比べ，排他的経済水域が広い。
 - ① 領域…領土・領海・領空。領海は沿岸から12海里。
 - ② 排他的経済水域…沿岸から200海里以内で領海の外側。この範囲の水産資源・鉱産資源は自国のものにすることができる。
 - ③ 公海…排他的経済水域の外側の海。どの国も利用は自由。

▼日本の領域と排他的経済水域



※一部の境界線は関係国と協議中。
※沖ノ鳥島は，水没すると広大な排他的経済水域を失うため，護岸工事が行われた。

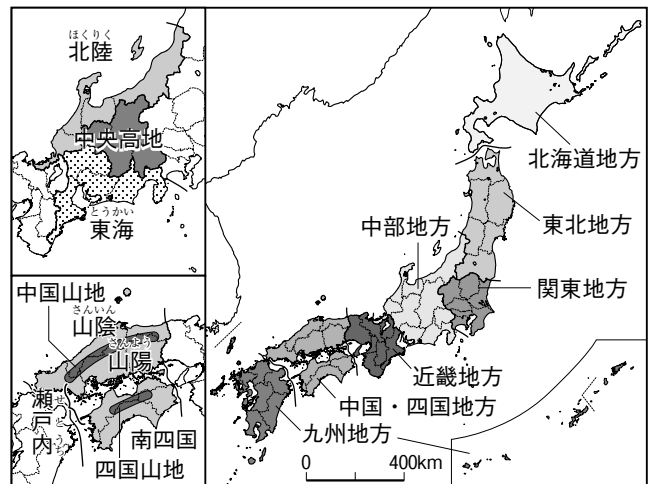
(3) 領土をめぐる問題

- ① 北方領土(北海道)…択捉島・国後島・色丹島・歯舞群島は，ロシア連邦に不法に占拠されている。
- ② 竹島(島根県)…韓国に不法に占拠されている。
- ③ 尖閣諸島(沖縄県)…日本が実効支配しているが，中国や台湾が領有権を主張している。

4 日本の地域区分

- (1) 都道府県…1都1道2府43県。47都道府県の中には，県名と県庁所在地の名が異なるところもある。
- (2) 地方区分…主に北海道，東北，関東，中部，近畿，中国・四国，九州の7つの地方に区分される。
 - 中部，中国・四国はさらに分けることもある。

▼日本の地域区分



確認問題

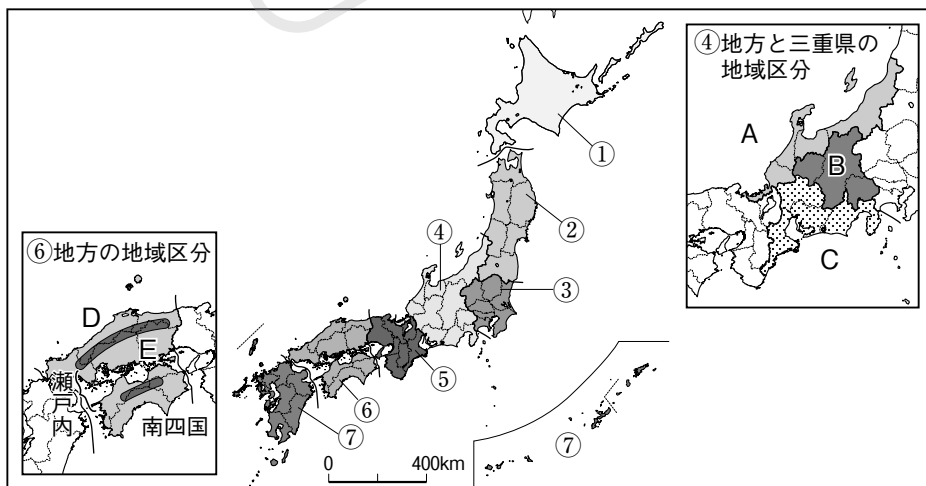
1 次の()にあてはまる語句や数字を答えなさい。

- (1) 日本の位置を緯度と経度を使って表すと、(①)20度～46度、(②)122度～154度の間とすることができる。
- (2) 日本の位置を大陸と大洋を使って表すと、(①)大陸の東、(②)の北西にあるとすることができる。
- (3) その国の時刻の基準となる線を(①)といい、日本の①は、兵庫県(②)市を通る東経(③)度の経線である。
- (4) 地球が24時間で1回転しているため、経度(①)度ごとに、1時間の(②)が生じる。
- (5) 経度180度の経線にほぼ沿って(①)が引かれており、この線を西から東に越えるときは日付を1日(②)る。

2 次の各問いに答えなさい。

- (1) 日本を構成する大きな4つの島は、本州、北海道、九州ともう1つは何か。
- (2) 日本の領域は、領土・領海とあと1つは何か。
- (3) 日本の領土面積はどれくらいか。
- (4) 領海の外側にある、水産資源や鉱産資源を自国のものにできる海域を何というか。
- (5) (4)の外側で、どの国も自由に利用できる海域を何というか。
- (6) 日本の南の端^{はし}にあたる島を何というか。
- (7) 日本の西の端にあたる島を何というか。
- (8) 日本固有の領土でありながら、ロシア連邦に占拠されている、択捉島・国後島・色丹島・歯舞群島を合わせて何というか。
- (9) 韓国に不法占拠されている島根県の島はどこか。
- (10) 近海に鉱産資源が埋蔵^{まいぞう}されている可能性が出てきたことで、中国や台湾が領有を主張し始めた沖縄県の島々を何というか。

3 次の地図中の①～⑦の地方名を答えなさい。また、A～Eの地域名を答えなさい。



1

- (1) ①
②
- (2) ①
②
- (3) ①
②
③
- (4) ①
②
- (5) ①
②

2

- (1) _____
- (2) _____
- (3) 約 _____ 万km²
- (4) _____
- (5) _____
- (6) _____
- (7) _____
- (8) _____
- (9) _____
- (10) _____

3

- ① _____ 地方
- ② _____ 地方
- ③ _____ 地方
- ④ _____ 地方
- ⑤ _____ 地方
- ⑥ _____ 地方
- ⑦ _____ 地方
- A _____
- B _____
- C _____
- D _____
- E _____

演習問題 A

1 日本の位置 右の地図を見て、次の問いに答えなさい。

□(1) 日本の標準時子午線を、地図中のア～ウから1つ選び、記号で答えよ。

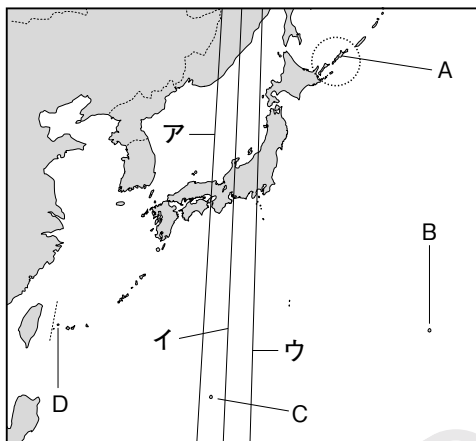
(2) 次の①・②の都市と日本との時差は何時間か。

- ① ロンドン(経度0度)
- ② ニューヨーク(西経75度)

□(3) 日本の東西南北の端にあたる、A～Dの島の名を、次のア～カから1つずつ選び、記号で答えよ。

- ア 国後島 イ 択捉島 ウ 南鳥島
- エ 西表島 オ 沖ノ鳥島 カ 与那国島

□(4) 〇の島々を不法に占拠している国はどこか。



1

(1)		
(2)	①	時間
	②	時間
(3)	A	
	B	
	C	
	D	
(4)		

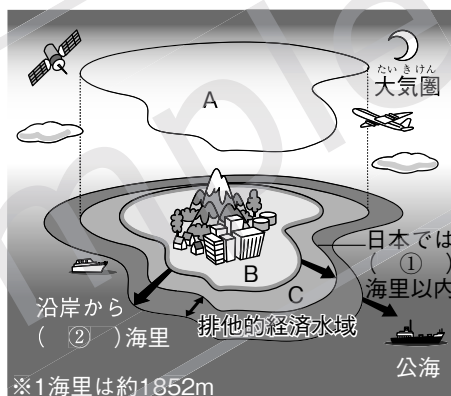
2 日本の領域 右の図を見て、次の問いに答えなさい。

□(1) 日本の領域にあたる、A～Cをそれぞれ何というか。漢字2字で答えよ。

□(2) (①), (②)にあてはまる数字をそれぞれ答えよ。

□(3) 排他的経済水域について述べた文を、次のア～ウから1つ選び、記号で答えよ。

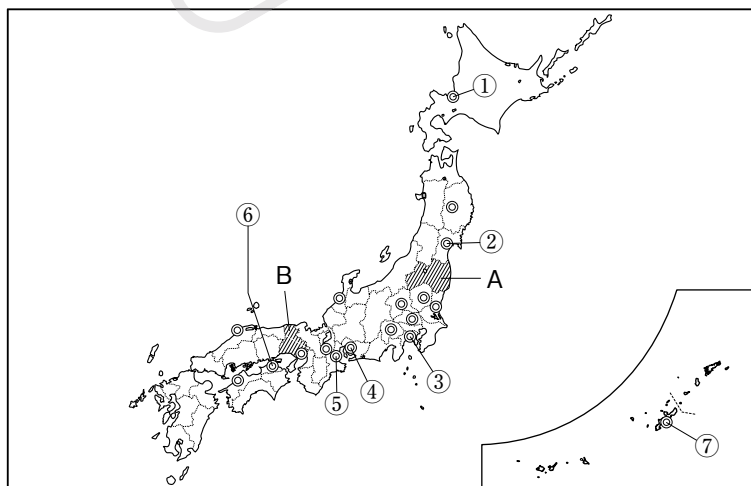
- ア 外国の船は、日本の許可なく、航行や漁ができない。
- イ 外国の船は、航行は自由だが、日本の許可なく漁はできない。
- ウ 外国の船も、自由に航行し、漁をすることができる。



2

(1)	A	
	B	
	C	
(2)	①	
	②	
(3)		

3 日本の地域区分 次の地図を見て、あとの問いに答えなさい。



□(1) A・Bは、日本を7つの地方に分けた場合、それぞれ何地方に属するか。

□(2) ◎は、都道府県名と県庁所在地名が異なる。①～⑦の都市名を答えよ。

3

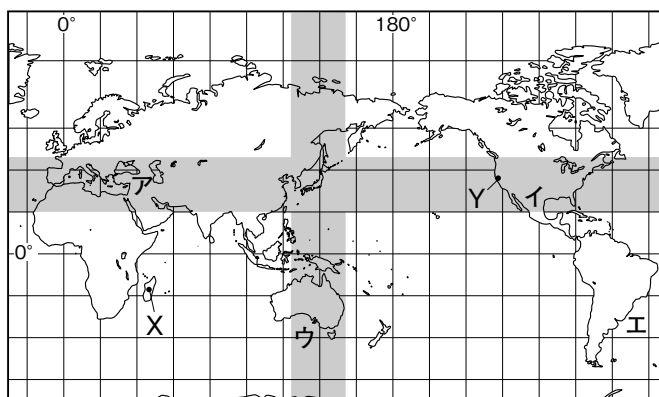
(1)	A	地方
	B	地方
(2)	①	市
	②	市
	③	市
	④	市
	⑤	市
	⑥	市
	⑦	市

演習問題 B

1 右の地図を見て、次の問いに答えなさい。

⇒ 1・2

- (1) 次のア～カの国のうち、①日本と同緯度にある国、
②日本と同経度にある国を2つずつ選び、記号で答えよ。



① [] ② []

- ア スペイン イ オーストラリア
- ウ ブラジル エ ロシア連邦
- オ イギリス カ アメリカ合衆国

- (2) 日本から見て、地球の中心をはさんだ反対側にあたるのはどのあたりか。地図中のア～エから1つ選び、記号で答えよ。
[]

- (3) 地図中のXの都市は東経45度、Yの都市は西経120度の経線を標準時子午線としている。東京が1月10日午後1時のとき、X、Yはそれぞれ何日の何時になるか。午前・午後をつけて答えよ。

X [日 時] Y [日 時]

2 右の地図を見て、次の問いに答えなさい。

⇒ 3

- (1) 北海道から沖縄まで、およそ何kmあるか。

[約] km

- (2) Xの北方領土にあてはまらない島を、次のア～エから1つ選び、記号で答えよ。
[]

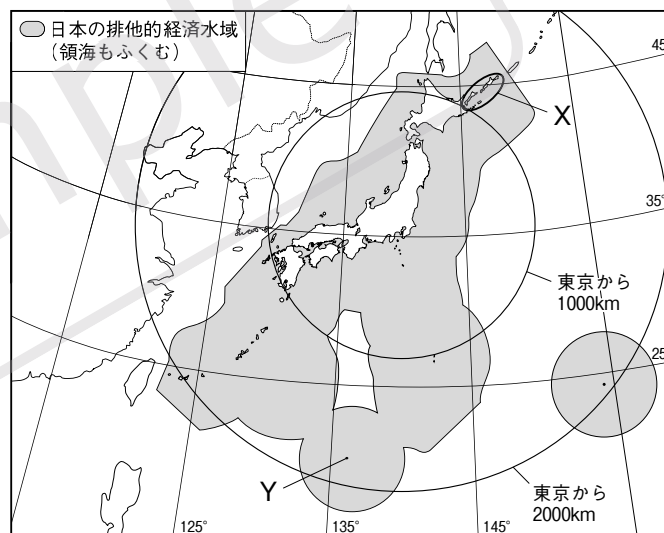
- ア 色丹島 イ 尖閣諸島
- ウ 択捉島 エ 国後島

- (3) **記述** Yの島は、波の侵食から守るために、政府によって護岸工事が行われた。その理由を「排他的経済水域」という語句を使って簡単に説明せよ。
[]

- (4) 資料のア～エのうち、日本にあてはまるものを1つ選び、記号で答えよ。
[]

- (5) 日本の領域について述べた文として正しいものを、次のア～エから1つ選び、記号で答えよ。[]

- ア 日本列島を構成する島のうち、最も大きい島は北海道である。
- イ 領空とは、領土と領海の上空である。
- ウ 排他的経済水域とは、領海の外の、沿岸から12海里までの海域のことである。
- エ 島根県の竹島に対して、中国が領有権を主張している。



資料 主な国の領海・排他的経済水域と領土の面積

カナダ	ア	イ	オーストラリア
領海・排他的経済水域 470万km ²	762	317	701
領土999万km ²	983	852	769
ウ	インドネシア	エ	ニュージーランド
196	191	38	27
285	541	447	483

3 右の都道府県について、次の問いに答えなさい。

⇒ 4

- (1) 都道府県名と県庁所在地名が異なる県はいくつあるか。 []
- (2) 同じ地方区分に属する県を選べ。 [] 県と
- (3) 海に面していない県を1つ選べ。 []

おみやま 岡山県	ちば 千葉県	しずおか 静岡県	しが 滋賀県
ふくおか 福岡県	いしかわ 石川県	いわて 岩手県	