

## 本書の特色

この本は、中学3年夏休み前までの復習で構成されたテキストです。基本問題を中心に編集しましたので、基礎力の充実に効果的です。

各課とも最初の2ページで確認ドリルを解きながら重要なポイントをおさえ、3～6ページの基本問題・演習問題で知識を定着させる…という流れになっています。

## 本書の使い方

### • 要点整理／確認ドリル

その課でしっかり身につけたいことがらをまとめてあります。要点をしっかりとおさえ、問題で確認してください。

### • 基本問題…要点整理／確認ドリルの内容を確実に身につけるための問題です。

### • 演習問題…その課で学習した内容をもう一度確認するための問題です。ここで、弱点を補強し、知識を定着させてください。

### • 総合問題…本書で学習した内容が身についたかどうかを確かめる問題です。

## も く じ

### 〈中3社会〉

1 世界の姿・日本の姿	2
2 人々の生活と環境	8
3 世界の諸地域	14
4 身近な地域・日本の地域的特色	20
5 日本の諸地域	26
6 古代の日本	32
7 中世の日本	38
8 近世の日本とヨーロッパ	44
9 近代日本のあゆみ	50
10 第一次世界大戦と大正デモクラシー	56
11 世界恐慌と第二次世界大戦	62
12 現代の日本と世界	68
資料を使った問題	74
総合問題	76
重要語句のチェック	79

# 3 世界の諸地域

## 1 アジア・ヨーロッパ・アフリカ

### (1) アジア

- ① 中国…人口の約9割が漢族。沿岸部に**経済特区**。「世界の工場」、沿岸部と内陸部の**経済格差大**。
- ② 東南アジア…プランテーション・米の二期作。**ASEAN**(東南アジア諸国連合)。
- ③ 南アジア…インドで**ICT産業**が発達。
- ④ 西アジア…産油国→**OPEC**(石油輸出国機構)。再生可能エネルギーの活用。
- ⑤ **アジアNIES(新興工業経済地域)**  
…1970年代以降、工業の急成長。

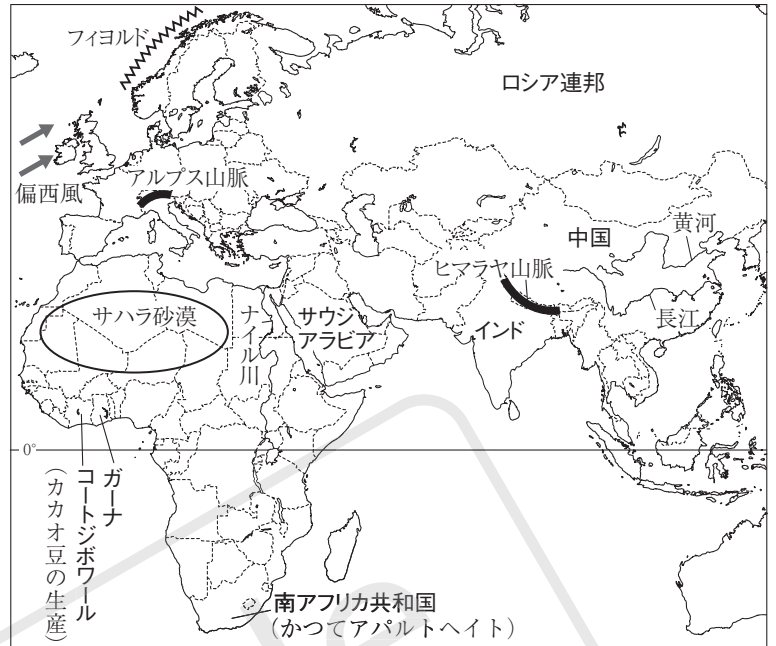
### (2) ヨーロッパ

- ① **農業**…地中海沿岸で地中海式農業、北西部で混合農業、北部・アルプスで酪農。
- ② **EU(ヨーロッパ連合)**…共通通貨**ユーロ**。加盟国間の**経済格差**。ロシア連邦から**鉱産資源**を輸入。
- ③ **環境問題**…酸性雨の被害→再生可能エネルギーの活用、**持続可能な社会**への取り組み。

### (3) アフリカ

- ① **歴史**…19世紀にヨーロッパ諸国の**植民地**。
- ② **産業**…カカオやコーヒーの**プランテーション農業**、**焼畑農業**。**希少金属(レアメタル)**の産出。
- ③ **課題**…**間ばつ**や**砂漠化**。**モノカルチャー経済**の国が多い。

① アジア・ヨーロッパ・アフリカ



## 確認ドリル 1

- ① 中国の沿岸部に設けられている外国企業を受け入れている地域を何というか。
- ② 東南アジアなどで植民地時代につくられた大農園を何というか。
- ③ 近年、南部のベンガルールなどでICT(情報通信技術)産業が発展している国はどこか。
- ④ 西アジアなどの産油国が利益を守るために結成している組織を何というか。
- ⑤ EU(ヨーロッパ連合)の共通通貨を何というか。
- ⑥ ガーナなどでさかんに生産されているチョコレートの原料となる農産物は何か。
- ⑦ 特定の鉱産資源や農産物の生産や輸出にたよる経済を何というか。

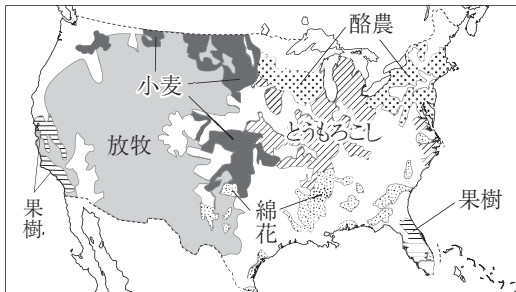
①	
②	
③	
④	
⑤	
⑥	
⑦	

## 2 南北アメリカ・オセアニア

### (1) アメリカ合衆国

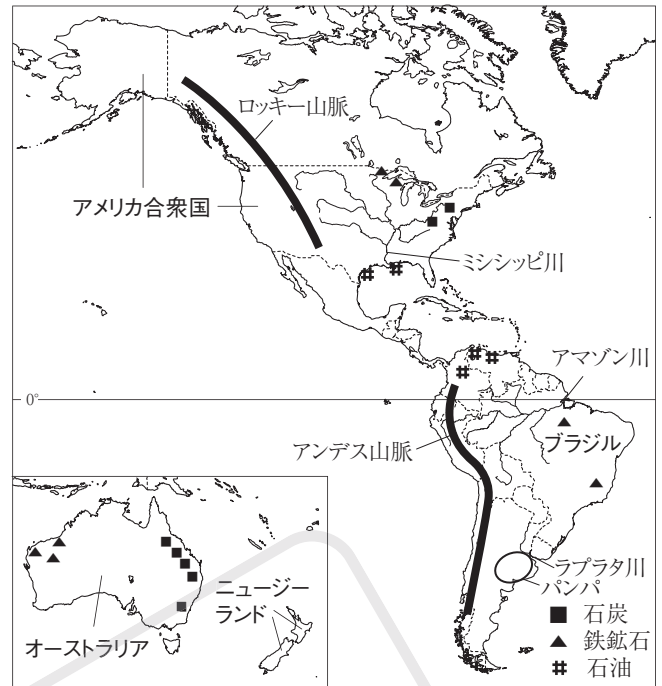
- ① 人口構成…ヨーロッパ系、アフリカ系など。近年、ヒスパニックが増加。
- ② 農業…世界有数の農産物の生産国・輸出国。適地適作、企業の農業。バイオテクノロジーの活用。

#### ④アメリカの農業地域



- ③ 鉱工業…サンベルトで先端技術産業。サンフランシスコ郊外のシリコンバレーでICT産業、<sup>たこくせき</sup>多国籍企業。近年、シェールガスの開発。

### ④南北アメリカ・オセアニア



### (2) 南アメリカ…かつてスペインやポルトガルの植民地。

- ① 民族…先住民、メスチソ(ヨーロッパ系と先住民の混血の人々)→多文化社会。
- ② 産業…アマゾン川流域で<sup>ばっさい</sup>焼畑農業。熱帯林の伐採→<sup>さいばい</sup>コーヒーや大豆の栽培。再生可能エネルギーであるバイオエタノール(バイオ燃料)の生産→**持続可能な開発**へ。ブラジルで工業化。豊富な鉱産資源(チリの銅など)。

### (3) オセアニア…太平洋に火山島やさんご礁の島々。20世紀初めまで、イギリスやフランスの植民地。

- ① オーストラリア…先住民<sup>しゅう</sup>アボリジニ。白豪主義→多文化社会。豊富な鉱産資源。アジアと貿易拡大(APEC)。
- ② ニューゼaland…先住民マオリ。酪農や羊の<sup>ぼくちく</sup>牧畜。

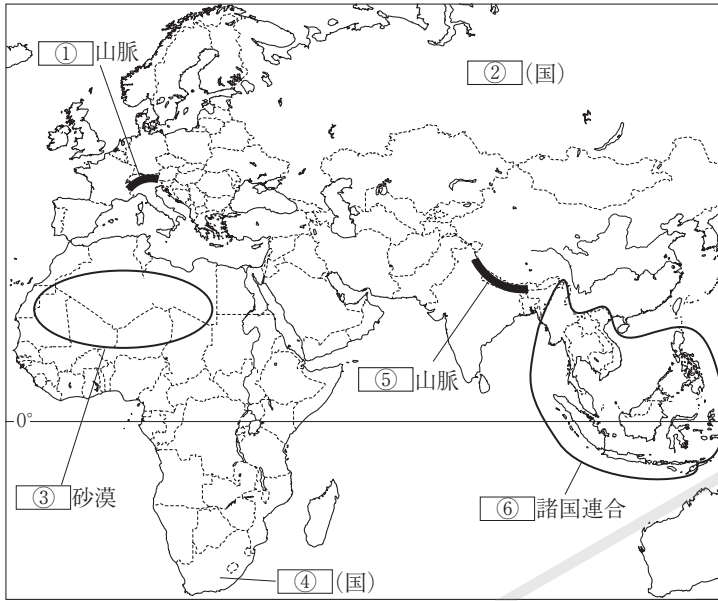
## 確認ドリル 2

- ① アメリカの移民のうちメキシコなどから来たスペイン語を話す人々を何というか。
- ② アメリカでは、その土地の条件に合った作物を栽培している。これを何というか。
- ③ アメリカの北緯37度より南の、ICT産業などがさかんな地域を何というか。
- ④ 生物のもつ力を応用して人間の生活に役立てる科学技術を何というか。
- ⑤ さとうきびなどの植物を原料としてつくられる燃料を何というか。
- ⑥ オーストラリアの先住民を何というか。
- ⑦ オーストラリアでかつて行われていた、ヨーロッパ系以外の移民を制限する政策を何というか。

①	
②	
③	
④	
⑤	
⑥	
⑦	

## 基本問題 A

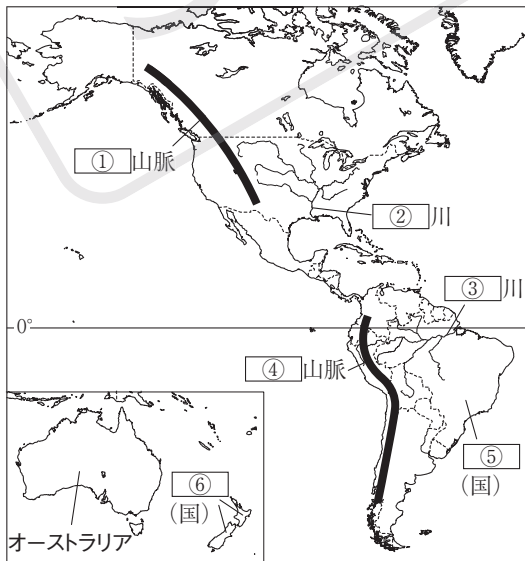
**1 アジア・ヨーロッパ・アフリカ** 次の地図の①～⑥に当てはまることばを答えなさい。また、(1)～(4)の問いに答えなさい。



- 1**
- ① \_\_\_\_\_
  - ② \_\_\_\_\_
  - ③ \_\_\_\_\_
  - ④ \_\_\_\_\_
  - ⑤ \_\_\_\_\_
  - ⑥ \_\_\_\_\_
  - (1) \_\_\_\_\_
  - (2) \_\_\_\_\_
  - (3) \_\_\_\_\_
  - (4) \_\_\_\_\_

- (1) 中国で人口の約9割を占める民族を何というか。
- (2) ヨーロッパ北部の沿岸に見られる、深い奥行きわんの湾が続く地形を何というか。
- (3) ヨーロッパ北西部で行われている、小麦などの穀物栽培と家畜の飼育を組み合わせた農業を何というか。
- (4) アフリカなどで産出される、コバルトなどの鉱産資源を何というか。

**2 南北アメリカ・オセアニア** 次の地図の①～⑥に当てはまることばを答えなさい。また、(1)～(3)の問いに答えなさい。

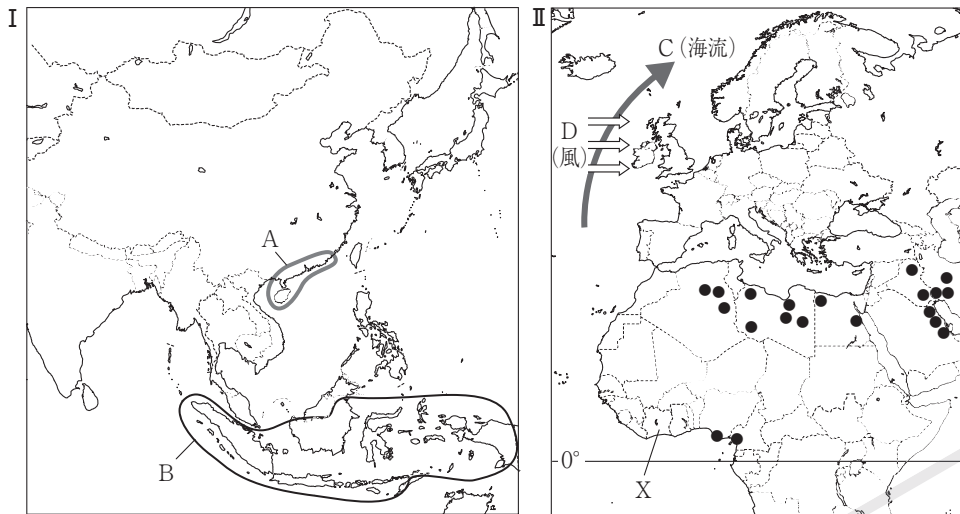


- 2**
- ① \_\_\_\_\_
  - ② \_\_\_\_\_
  - ③ \_\_\_\_\_
  - ④ \_\_\_\_\_
  - ⑤ \_\_\_\_\_
  - ⑥ \_\_\_\_\_
  - (1) \_\_\_\_\_
  - (2) \_\_\_\_\_
  - (3) \_\_\_\_\_

- (1) サンフランシスコ郊外にあるICT産業がさかんな地域を何というか。
- (2) ③川の流域で見られる、草木を焼いた灰を肥料に利用する農業を何というか。
- (3) オーストラリアなど移民による国がめざしている、多様な民族が共存して、それぞれの文化を尊重する社会を何というか。

## 基本問題 B

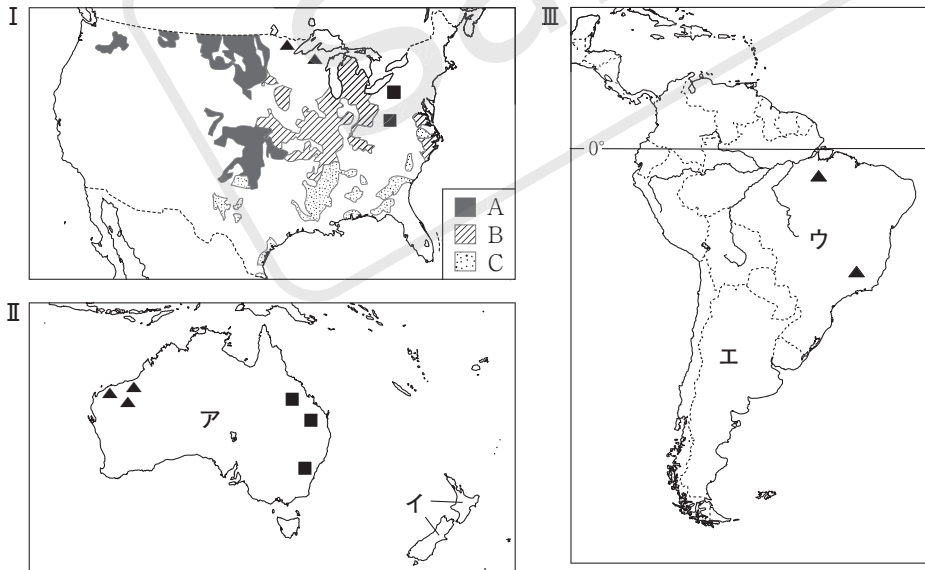
### 1 アジア・ヨーロッパ・アフリカ 次の問いに答えなさい。



- (1) IのAにある、外国企業を受け入れている地域を何というか。
- (2) IのB国の大農園で現在、栽培がさかんなものを、ア～エから選べ。  
ア 油やし    イ バナナ    ウ 綿花    エ 小麦
- (3) IIに示したCの海流とDの風の名をそれぞれ書け。
- (4) IIにXで示した、カカオ豆の生産がさかんな国を、ア～エから選べ。  
ア エチオピア    イ ケニア    ウ リビア    エ コートジボワール
- (5) IIに●で示した地域で産出される鉱産資源は何か。

1	
(1)	
(2)	
(3)	C D
(4)	
(5)	

### 2 南北アメリカ・オセアニア 次の問いに答えなさい。



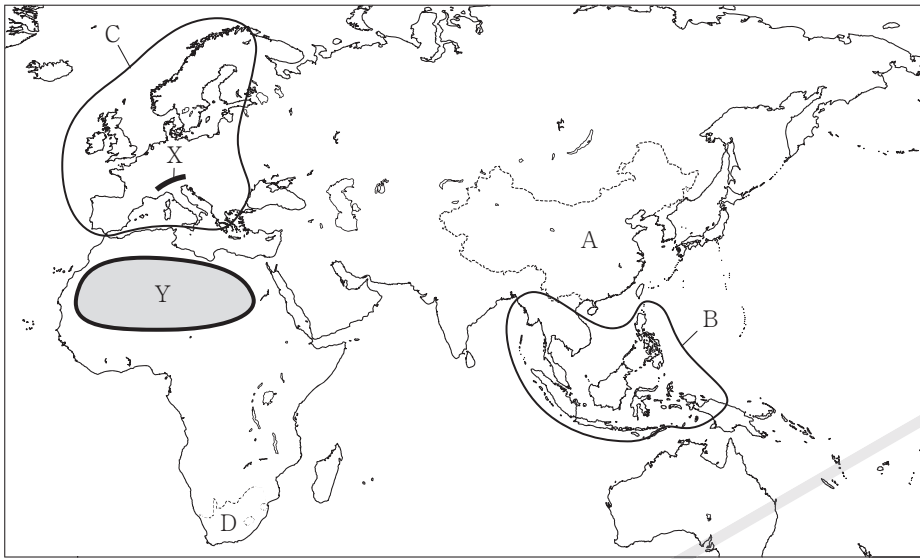
- (1) I～IIIに▲, ■で示した地域で産出される鉱産資源をそれぞれ書け。
- (2) IのA～Cの地域で栽培がさかんな作物を、ア～エからそれぞれ選べ。  
ア とうもろこし    イ 小麦    ウ 米    エ 綿花
- (3) かつてヨーロッパ系以外の移民を制限する白豪主義の政策がとられていた国を、II, IIIのA～Eから選べ。
- (4) ニュージーランドの先住民を何というか。

2	
(1)	▲ ■
(2)	A B C
(3)	
(4)	

## 演習問題

1 アジア・ヨーロッパ・アフリカ 次の地図を見て、問いに答えなさい。

地図



- (1) Xの山脈とYの砂漠の名をそれぞれ書け。
- (2) Aの中国について正しく説明したものを、ア～エから選べ。  
 ア 石油を産出する国々で結成する石油輸出国機構に加盟している。  
 イ 南東部の沿岸にはシェンチェンなどの経済特区が設けられている。  
 ウ インドに次いで人口が多く、人口のおよそ半分が漢族である。  
 エ 北部にヒマラヤ山脈を源とする長江という大河が流れている。
- (3) Bで示した地域の国々で、ヨーロッパ諸国の植民地時代に開かれた大農園を何というか。また現在、この地域の10か国が、政治的・経済的な安定と連携をめぐりて結成している組織を何というか。
- (4) Cで示した地域について、①、②に答えなさい。  
 □① この地域の国々が政治的・経済的統合をめぐりて1993年に結成し、この地域の多くの国々が加盟している組織を何というか。また、域内で2002年から流通している共通通貨を何というか。  
 □② フランスやドイツの北部などで行われている農業を、ア～ウから選べ。  
 ア 焼畑農業      イ 混合農業      ウ 地中海式農業
- (5) 次のグラフⅠとグラフⅡは、ザンビアとコートジボワールの輸出総額と輸出品目割合を示している。これについて、①、②に答えなさい。

グラフⅠ ザンビア

輸出総額 91億ドル

銅 75.2%	その他 24.8
---------	----------

グラフⅡ コートジボワール

輸出総額 118億ドル

カカオ豆 27.5%	11.8	8.5	その他 54.2
------------	------	-----	----------

野菜・果実      石油製品

(20/21年版 世界国勢図会)

- ① グラフⅠのザンビアで産出されるコバルトなどのように、埋蔵量が非常に少なく、採掘が難しい金属を何というか、カタカナで書け。
- ② **記述** グラフⅠ、Ⅱの国々に見られるモノカルチャー経済とはどのような経済か、「農産物や鉱産資源」の語句を使って、簡単に書け。

(1)	X	山脈
	Y	砂漠
(2)		
(3)	農園	
	組織	
(4)	①	組織
	②	通貨
	③	
(5)	①	
	②	

2 南北アメリカ・オセアニア 次のA～Cの文を読んで、問いに答えなさい。

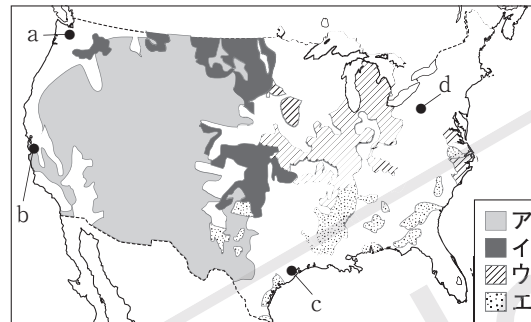
A アメリカ合衆国は、18世紀にヨーロッパからの 移民 によってつくられた国で、多民族国家として発展してきた。世界有数の 農業国・工業国 でもある。

B ブラジルには、国土の北部に流域面積が世界一の 川 が流れている。しかし、この河川の流域では、開発によって熱帯林が減少している。

C オーストラリアには、先住民の   が暮らしていたが、18世紀にイギリスの植民地となり、20世紀初めから約70年間、白豪主義 がとられていた。

- (1) 下線部①について、メキシコなどラテンアメリカからアメリカ合衆国に移住した、スペイン語を話す人々を何というか。
- (2) 下線部②について、アメリカ合衆国で小麦と綿花がさかんに栽培されている地域を、地図の **ア**～**エ** からそれぞれ選べ。

地図

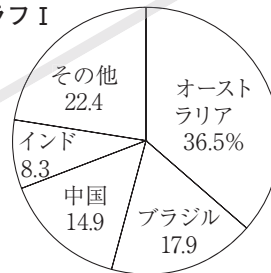


- (3) 下線部③について、ICT産業がさかんなシリコンバレーの位置を、地図の a～d から選べ。また、この地域をふくむ、北緯37度より南の地域を何というか。
- (4) 下線部④で生産がさかんなバイオエタノール(バイオ燃料)のおもな原料を、**ア**～**エ** から選べ。

**ア** 米    **イ** さとうきび    **ウ** 小麦    **エ** コーヒー豆

- (5) 右のグラフIは、ブラジルなどで産出が多い **グラフI** 鉱産資源の国別産出量割合を示している。この鉱産資源に当てはまるものを、**ア**～**エ** から選べ。

グラフI



**ア** 原油    **イ** 石炭  
**ウ** 銅鉱    **エ** 鉄鉱石

- (6)   に当てはまる河川の名を書け。
- (7)   に当てはまる先住民の名を書け。
- (8) 下線部⑦の政策で行われたことを、**ア**～**エ** から選べ。

**ア** 先住民の文化を尊重した    **イ** ヨーロッパ系以外の移民を制限した  
**ウ** 移民の文化を融合させた    **エ** 他国への移民を奨励した

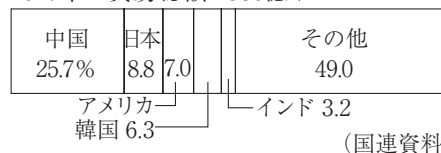
- (9) **記述** 次のグラフIIは、Cのオーストラリアの1960年と2017年のおもな貿易相手国を示している。オーストラリアの貿易相手国は1960年から2017年までの間にどのように変化したか、簡単に書け。

グラフII

1960年 貿易総額 42億ドル



2017年 貿易総額 4586億ドル



(国連資料)

2

(1)	
(2)	小麦 綿花
(3)	位置 地域
(4)	
(5)	
(6)	
(7)	
(8)	
(9)	