

本書の特色

この本は、中学1年夏休み前までの復習で構成されたテキストです。基本問題を中心に編集しましたので、基礎力の充実に効果的です。

各課とも最初の2ページで確認ドリルを解きながら重要なポイントをおさえ、3～6ページの基本問題・演習問題で知識を定着させる…という流れになっています。

本書の使い方

- **要点整理／確認ドリル**

その課でしっかり身につけたいことがらをまとめてあります。要点をしっかりとおさえ、問題で確認してください。

- **基本問題**…要点整理／確認ドリルの内容を確実に身につけるための問題です。

- **演習問題**…その課で学習した内容をもう一度確認するための問題です。ここで、弱点を補強し、知識を定着させてください。

- **総合問題**…本書で学習した内容が身についたかどうかを確かめる問題です。

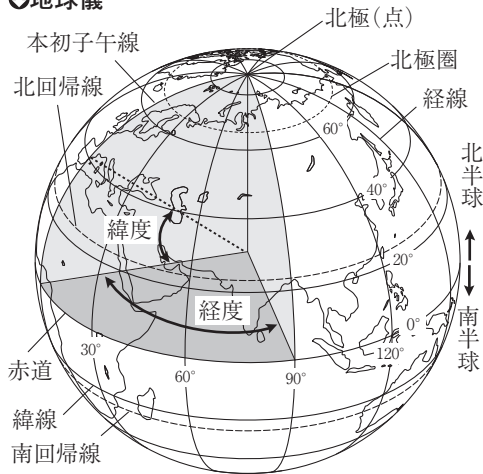
も く じ

〈中1社会〉

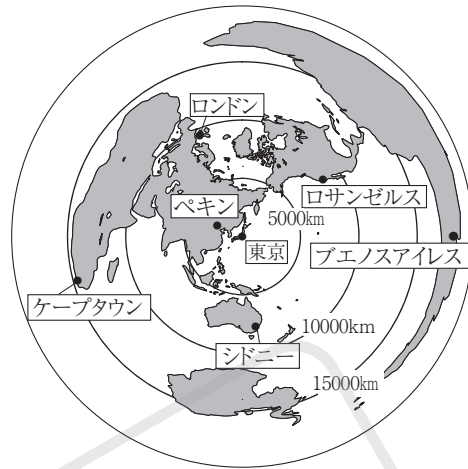
1 世界の姿・日本の姿	2
2 人々の生活と環境	8
3 文明のおこりと日本の成り立ち	14
4 古代国家の成立	20
資料を使った問題	26
総合問題	28
重要語句のチェック	31

1 世界の姿

①地球儀



②中心からの距離と方位が正しい地図



(1) 地球…海洋：陸地 = 7 : 3。

- ① 六大陸…ユーラシア大陸, アフリカ大陸, 北アメリカ大陸, 南アメリカ大陸, 南極大陸, オーストラリア大陸。
- ② 三大洋…太平洋, 大西洋, インド洋。
- ③ 六つの州…アジア州, ヨーロッパ州, アフリカ州, 北アメリカ州, 南アメリカ州, オセアニア州。

(2) 世界の国々…190余りの国。それぞれ国旗を定めている。

- ① 国境…国と国の境界。山脈や川, 海などを利用。内陸国, 海洋国(島国)。経線や緯線を利用。
- ② さまざまな国…面積の大きな国(ロシア連邦), 小さな国(バチカン市国)。人口の多い国, 少ない国など。

(3) 緯度と経度…緯度→赤道を0度, 南北に90度まで。経度→本初子午線を0度, 東西に180度まで。

(4) 地図の見方…ふつう上が北, 右が東。

- ① 中心からの距離と方位が正しい地図…航空図などに利用。中心から離れる→形や面積のゆがみ大。
- ② 緯線と経線が直角に交わった地図…高緯度の地域→面積が拡大。

確認ドリル 1

- ① 海洋と陸地のうち, 地球の約7割をしめているのはどちらか。
- ② 世界の三大洋とは, 太平洋, インド洋ともう1つは何か。
- ③ 世界で最も大きい大陸はどこか。
- ④ 赤道を0度として南北をそれぞれ90度に分ける線を何というか。
- ⑤ 国と国の境界を何というか。
- ⑥ 日本やイギリス, フィリピンなどのようにまわりを海に囲まれた国を何というか。

①	
②	
③	
④	
⑤	
⑥	

2 日本の姿

(1) 国土の位置…東アジア。ユーラシア大陸の東。

(2) 標準時と時差

- ① 標準時…各国の基準となる時刻。日本の標準時は兵庫県明石市(東経135度)を基準。
- ② 時差…2地点間の標準時の差。経度15度につき1時間の時差。時差 = (2地点間の経度の差) ÷ 15。
- ③ 日付変更線…ほぼ180度の経線に沿う。

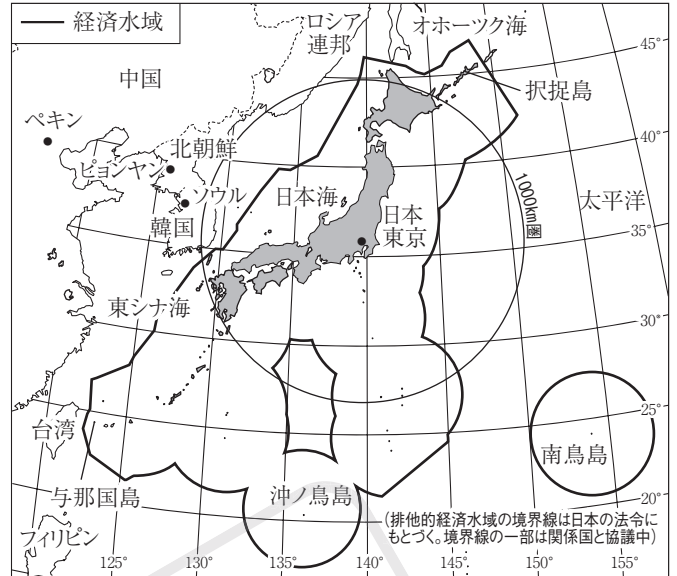
(3) 日本の領域…領土・領海(12海里)・領空。国土(領土)面積は約38万km²。

- ① 排他的経済水域…領海をのぞく沿岸から200海里。沿岸国は水産資源や鉱産資源を利用できる。
- ② 東西南北の端…南鳥島, 与那国島, 沖ノ鳥島, 択捉島。
- ③ 北方領土…歯舞群島, 色丹島, 国後島, 択捉島。北方領土はロシア連邦が占拠。
- ④ 日本列島…北海道, 本州, 四国, 九州と多くの島々。
- ⑤ 領土をめぐる問題…竹島(島根県)は韓国が不法に占拠。尖閣諸島(沖縄県)は中国が領有権を主張。

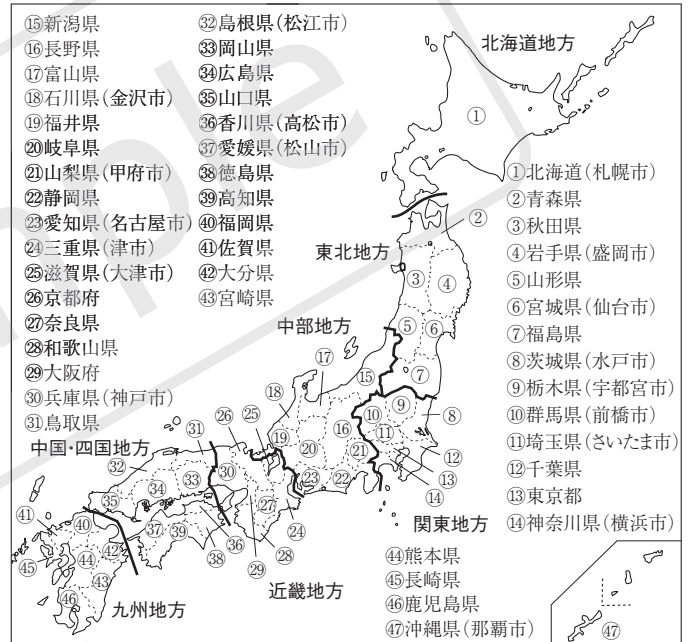
(4) 日本の地域区分

- ① 都道府県…1都(東京都)1道(北海道)2府(大阪府・京都府)43県。
- ② 7地方区分…北海道地方, 東北地方, 関東地方, 中部地方(北陸・中央高地・東海), 近畿地方, 中国・四国地方(山陰・瀬戸内・南四国), 九州地方。

①日本の国土



②都道府県と地域区分



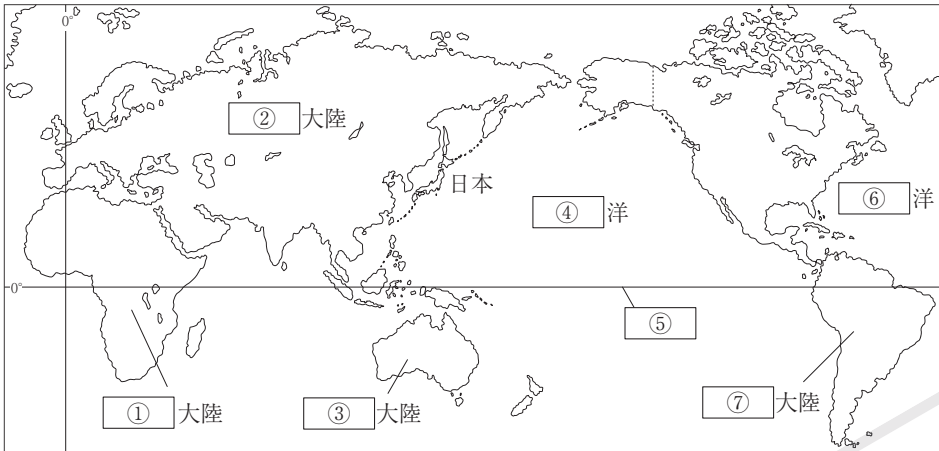
確認ドリル 2

- ① 日本は, 太平洋, 日本海, オホーツク海ともう1つ何という海に囲まれているか。
- ② 経度15度につき1時間生じる, 2地点間の標準時のずれを何というか。
- ③ 領海をのぞく沿岸から200海里以内の範囲を何というか。
- ④ 歯舞群島, 色丹島, 国後島, 択捉島の島々をまとめて何というか。
- ⑤ 日本にはいくつ県があるか。
- ⑥ 日本の首都である東京は7地方のうち, どの地方に属しているか。

①
②
③
④
⑤
⑥

基本問題 A

1 世界の姿 次の地図の①～⑦に当てはまることばを答えなさい。また、(1)～(4)の問いに答えなさい。

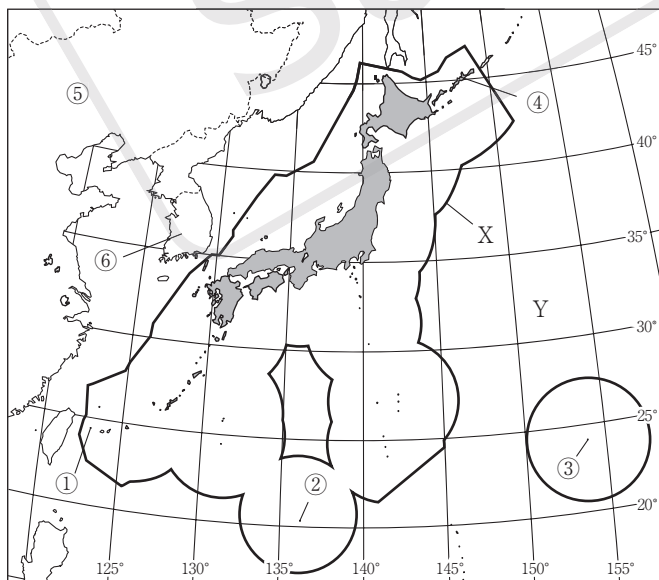


- (1) 海洋は地球の面積の約何割をしめているか。
- (2) 北極や南極に近い高緯度の地域で夏に見られる、夜でも太陽が沈まずうす明るい現象を何というか。
- (3) ①の大陸では直線の国境線が見られるが、それは何を利用して国境線が引かれたからか。
- (4) ロシア連邦の国土は6つの州のうち、2つの州にまたがっているが、それはアジア州とどこか。

1

- ① _____
- ② _____
- ③ _____
- ④ _____
- ⑤ _____
- ⑥ _____
- ⑦ _____
- (1) _____
- (2) _____
- (3) _____
- (4) _____

2 日本の姿 次の地図の①～⑥に当てはまる島や国の名を答えなさい。また、(1)～(5)の問いに答えなさい。



- (1) 地図にXで示した排他的経済水域は沿岸から何海里以内の範囲か。
- (2) 地図にYで示した海洋を何というか。
- (3) 経度が何度^{ちが}違うと1時間の時差が生じるか。
- (4) 日本と、本初子午線が通るイギリスとの時差は何時間か。
- (5) 日本には県がいくつあるか。

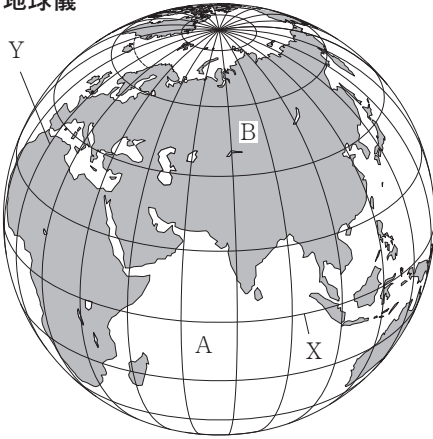
2

- ① _____
- ② _____
- ③ _____
- ④ _____
- ⑤ _____
- ⑥ _____
- (1) _____
- (2) _____
- (3) _____
- (4) _____
- (5) _____

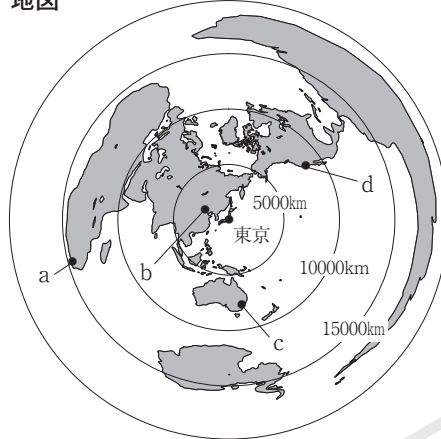
基本問題 B

1 世界の姿 次の問いに答えなさい。

地球儀



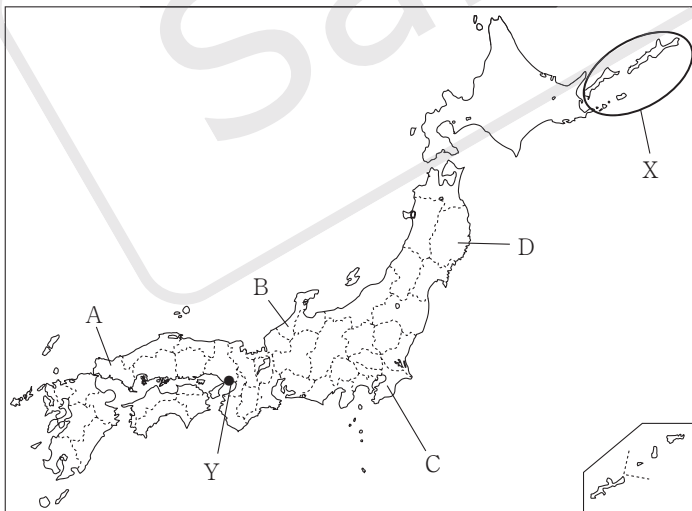
地図



1	A
(1)	B
(2)	
(3)	
(4)	
(5)	

- (1) 地球儀にAで示した海洋と、Bで示した大陸をそれぞれ何というか。
- (2) 地球儀にXで示した0度の緯線を何というか。
- (3) 地球儀にYで示した0度の経線を何というか。
- (4) 夜でも太陽が沈まずうす明るい^{ひくや}白夜が見られるのは、どのような地域か、**ア**～**エ**から選べ。
ア 内陸部 **イ** 緯度の低い地域
ウ 海岸部 **エ** 緯度の高い地域
- (5) 地図のa～dのうち、東京からの距離が最も遠い都市を選べ。

2 日本の姿 次の問いに答えなさい。



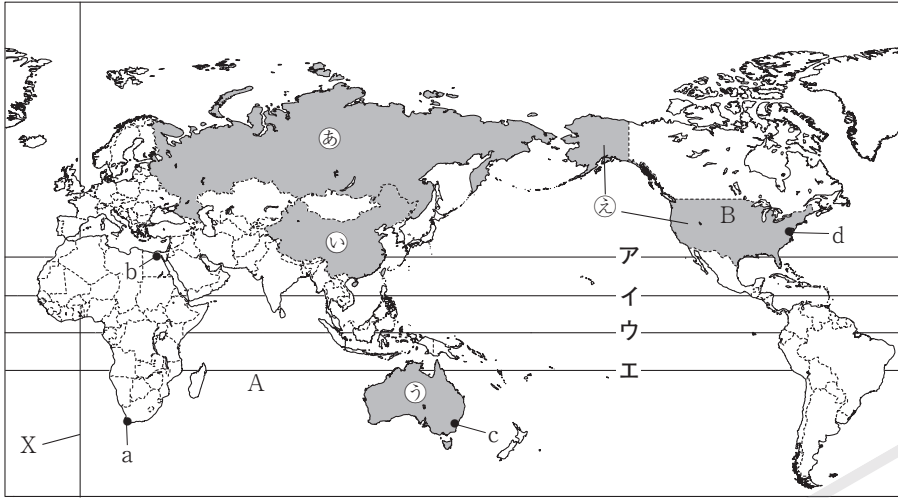
2	
(1)	
(2)	
(3)	A
	B
	C
	D
(4)	記号
	名称
	記号
	名称

- (1) Xで示した北方領土は、現在どこの国に占拠されているか。
- (2) Yは日本の標準時の基準となる東経135度の経線が通る兵庫県明石市を示している。日本と東経105度の経線で標準時を決めている国の時差は何時間か。
- (3) A～Dは、日本を7つの地方に分けた場合、どの地方に属するか、それぞれ書け。
- (4) 県の名と県庁所在地の名が異なる県を、A～Dから2つ選べ。また、その県庁所在地の名を書け。

演習問題

1 世界の姿 次の地図 I, II を見て、問いに答えなさい。

地図 I



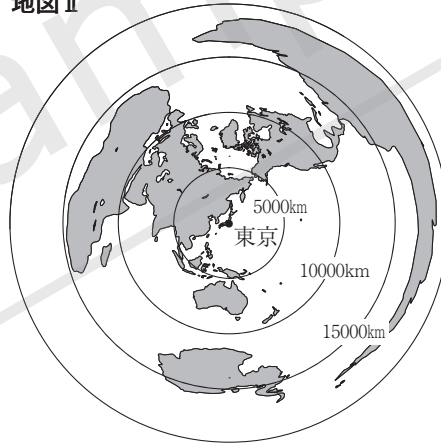
- (1) 赤道に当てはまるものを、地図 I のア～エから選べ。
- (2) 地図 I に A で示した海洋の名を書け。
- (3) 地図 I に B で示した大陸の名を書け。
- (4) 地図 I の X について正しく説明したものを、ア～エから選べ。

- ア 0度の経線で南回帰線 イ 0度の経線で本初子午線
- ウ 0度の緯線で北回帰線 エ 0度の緯線で本初子午線

(5) 右の地図 II は、中心からの距離と方位が正しく表されている。これを参考にして、①～③に答えなさい。

- ① 地図 I に a～d で示した都市のうち、東京から最も近い都市を選べ。
- ② 地図 II には描かれているが、地図 I には描かれていない大陸の名を書け。
- ③ 地図 II の東京から真北に進んで地球を一周するとき、2番目に通過する大陸はどこか。
- (6) 次の国の組み合わせのうち、異なる州に属する国が含まれているものを、ア～エから選べ。
 - ア エジプト・ナイジェリア・ケニア・エチオピア
 - イ モンゴル・韓国・北朝鮮・中国
 - ウ ドイツ・スイス・フランス・イギリス
 - エ オーストラリア・ニュージーランド・パプアニューギニア・マレーシア
- (7) 次の文に当てはまる国を、地図 I の㊸～㊺から選べ。

地図 II

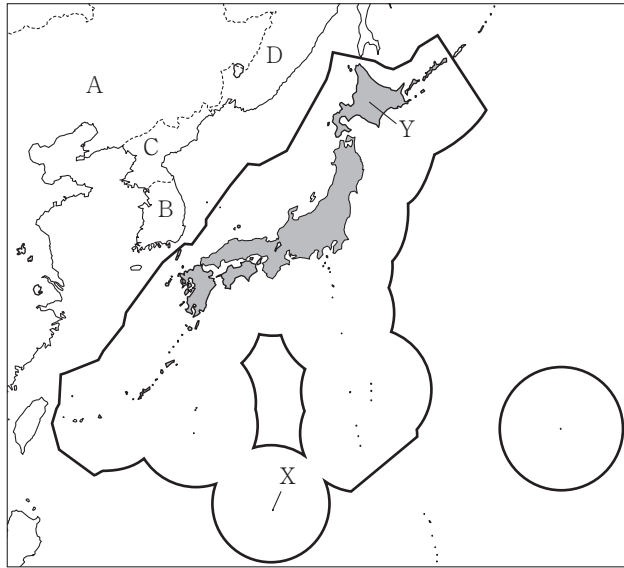


この国の面積は、日本の約45倍あり、世界で最も面積が大きく、国土が2つの州にまたがっている。

1	(1)	
	(2)	
	(3)	
	(4)	
	(5)	①
	(5)	②
	(5)	③
	(6)	
	(7)	


2 日本の姿 次の地図や表を見て、問いに答えなさい。

地図



2

(1)	
(2)	
(3)	
(4)	
(5)	①
	②
(6)	
(7)	

- (1) 日本は何という大陸の東に位置しているか。
- (2) 日本の南の端にあたる地図のXの島を、ア～エから選べ。
ア 与那国島 イ 択捉島 ウ 沖ノ鳥島 エ 南鳥島
- (3) **記述**  は、日本の排他的経済水域を示している。この水域では沿岸国にどのような権利が認められているか、簡単に書け。
- (4) 次の説明の下線部に当てはまる国を、地図のA～Dから選べ。

日本はこの国との間に、北方領土の領有をめぐる問題をかかえている。

- (5) 各国の時刻について述べた次の文の , に当てはまることばや数字をそれぞれ書け。

各国・地域の基準となる時刻を といい、ある2つの地点の①の時刻の差を時差という。時差は経度 度につき1時間生じる。

- (6) 日本が3月6日午前6時のとき、本初子午線が通るロンドンは何日の午前または午後の何時か。

- (7) 右の表は、地図にYで示した北海道で生産がさかんな米とたまねぎの生産量上位5道県を示している。この表から読み取れることがらとして正しいものを、ア～エから選べ。

表 米とたまねぎの生産量上位5道県

順位	米	順位	たまねぎ
1位	新潟 <small>にいがた</small>	1位	北海道
2位	北海道	2位	佐賀
3位	秋田	3位	兵庫
4位	山形	4位	ながさき <small>長崎</small>
5位	宮城	5位	愛知

('21年版 県勢)

ア 米の上位5道県のうち、新潟県と秋田県は同じ地方の県である。

イ 米の上位5道県の中には、中国・四国地方の県が2県ある。

ウ たまねぎの2位以下の県はすべて九州地方の県である。

エ 米とたまねぎのどちらの上位5道県にも、中部地方の県が含まれている。