

この本の特徴

この本は、小学5年生までの復習を中心とした、新小学6年生のためのテキストです。各単元で今まで学んできた事柄を確認するとともに、これから学ぶ事柄の土台を固めてください。

一課に一枚の別冊確認テストがついています。各課の理解度チェックに役立ててください。最後には、総合確認テストで実力をチェックしましょう。

この本の使い方

- 例題……その課の基本的な問題をとりあげています。アドバイスをよく読んで、この課で学習すべき内容を身につけましょう。
- 練習問題……例題で学習した内容をもう一度確かめるための練習問題です。やや難しい問題もとりあげています。
- 総合問題……この本の総まとめの問題です。
- 言葉と漢字のトレーニング……全6回分の言葉についての問題と、漢字の読み書きが出題されています。読解問題1回分とセットで学習しましょう。

1	物語(1)	2
2	物語(2)	6
3	説明文(1)	10
4	説明文(2)	14
5	説明文(3)	18
6	情報	22
	総合問題(1)	26
	総合問題(2)	29
	*言葉と漢字のトレーニング	32

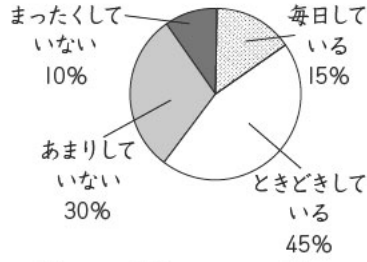
1 次の資料から読み取れることには○、読み取れないことには×をそれぞれ書きましょう。

□(1) 旅行するならどこがいいか？

□海外 □国内

女子	70人	30人
男子	45人	55人

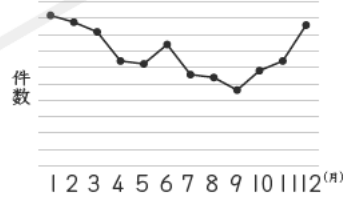
□(2) 日ごろ運動していますか？



- 〔ア〕男女とも、旅行するなら海外がいいと考える人のほうが多い。
- 〔イ〕海外に旅行したいと考える人は男子より女子のほうが多い。
- 〔ウ〕国内に旅行したいと考える人は男子より女子のほうが多い。
- 〔エ〕男子は旅行するなら国内がいいと考える人のほうが多い。
- 〔ア〕運動を「毎日している」と答えた人が一番多い。
- 〔イ〕運動を「毎日している」人と「ときどきしている」人の合計は半数以上だ。
- 〔ウ〕運動を「まったくしていない」と答えた人は一番少ない。
- 〔エ〕男子のほうが女子よりも運動を「毎日している」と答えた人が多い。

2 次の資料を読んで、あとの問いに答えましょう。

A 県の月別の火災発生件数



- (1) この資料から、A 県での火災発生件数が最も多い月を読み取って書きましょう。
- (2) この資料から、A 県での火災発生件数が最も少ない月を読み取って書きましょう。
- (3) このグラフの種類を次の中から一つ選び、記号で答えましょう。
 ア 棒グラフ イ 帯グラフ
 ウ 円グラフ エ 折れ線グラフ
- (4) このグラフの特徴を説明した次の文の () にあてはまる言葉を、あとから一つずつ選び記号で答えましょう。
 ・(1) () ことの火災発生件数の (2) () がわかりやすく示されている。
 ア 年 イ 月 ウ 割合 エ 変化
- ① [] ② []

アドバイス

●資料の内容をとらえる 資料が何について示しているものなのかを読み取り、数値が最大・最小のところなど、目立つ点に着目しましょう。

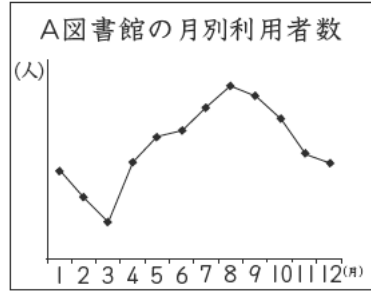
アドバイス

●グラフの種類 棒グラフは項目ごとの量、折れ線グラフは量の変化、円グラフは全体に占める割合、帯グラフは複数のものの全体に占める割合の違いを示すときに多く使われます。

3 次の資料を読んで、資料からわかることをまとめた文章の()
 にあてはまる数字や言葉を書きましよう。

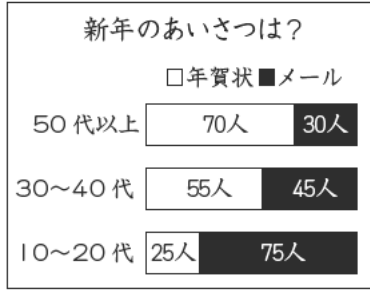
□(1)

このグラフは、A図書館の月別の利用者
 数を表しています。最も利用者が多かった
 のは(①)月で、最も少なかったのは
 (②)月でした。また、ひと月の間で
 最も数値の変化が大きかったのは、(③)
 月から(④)月にかけてです。



③ ①
 ④ ②

□(2)



このグラフは、(①)の方法につい
 て調べたものです。十代から二十代では
 (②)を利用する人が多いですが、三
 十代以上では、(③)を利用する人が
 多いことがわかります。

② ①
 ③

アドバイス

●グラフの特徴をとらえる 折れ線グラフでは数値の変化に注目
 して内容を読み取ります。帯グラフでは全体に占める割合
 に注意しながら内容を読み取りましよう。

4 次の新聞記事を読んで、あとの問いに答えましよう。

市民ホール より便利になってオープン

新しい市民ホールが駅の西口に間もなくオープンし、それにとも
 ない旧市民ホールは八月三十一日に閉館します。新市民ホールは、
 全館がバリアフリーとなり、より利用しやすくなります。また、大
 ホールの客席も二倍になり、より多くの人が音楽や舞台などを楽し
 めるようになります。市長は「旧市民ホールは多くの人に愛されて
 きましたが、新市民ホールもきつと市民に喜んでもらえると確信し
 ています」と話していました。新市民ホールは、旧市民ホールの閉
 館翌日より利用可能です。

□(1) 新市民ホールは何月何日から利用できますか。

□(2)

新市民ホールが、旧市民ホールよりも便利になった点として正
 しいものを次の中から二つ選び、記号で答えましよう。

- ア 音楽や舞台などが楽しめるようになった点。
- イ 全館がバリアフリーとなった点。
- ウ 建物の面積が二倍の広さになった点。
- エ より市民に愛される施設となった点。
- オ 大ホールの客席が二倍になった点。

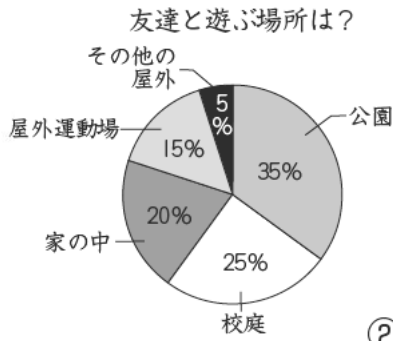
アドバイス

●新聞記事の特徴をとらえる 新聞記事では、何について伝えてい
 るのかに注意します。その際、日時や場所などの具体的な
 情報に注意しながら読み進めることが大切です。

練習問題

1 次の資料を読んで、あとの問いに答えましょう。

□ (1)



① これは何についての資料ですか。

_____ について。

② 資料からわかることをまとめた次の各文の () にはあてはまる言葉をあとから一つずつ選び、記号で答えましょう。

- ・ (A) で遊ぶ人が一番多い。
- ・ 八割の人が (B) で遊ぶ。
- ・ (C) で遊ぶ人は二割だ。

- ア 公園
- イ 空き地
- ウ 校庭
- エ 屋内
- オ 屋外

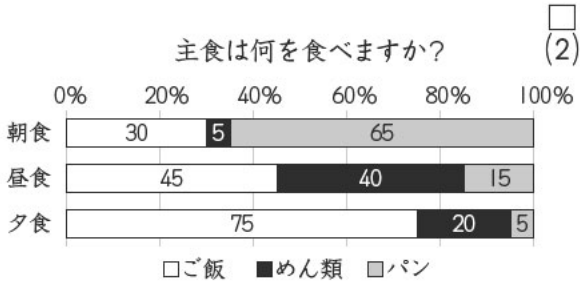
③ これは何についての資料ですか。

_____ として何を食べるか。

④ 一番割合が高かったのはどんな答えですか。

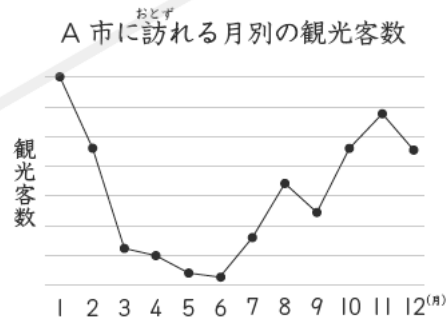
_____ のとき _____ を

⑤ 朝食、昼食、夕食のどれでも五割以下だった主食は何ですか。



□ (2)

2 次の資料を読んで、あとの問いに答えましょう。



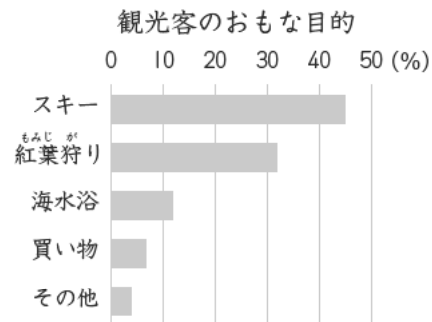
① 何について調べた資料ですか。次の () にはあてはまる言葉を

資料中から書きぬきましょう。

- ・ A市に来る _____ について。

② 資料からわかることをまとめた次の各文の () にはあてはまる数字や言葉を、資料中から書きぬきましょう。

- ・ 観光客が最も多い月は (①) 月で最も少ない月は (②) 月だ。
- ・ 観光目的で最も多いのは (③) だ。
- ・ 二番目に観光客が多い月は (④) 月で、その目的は (⑤) だと考えられる。



① _____ ② _____

③ _____ ④ _____ ⑤ _____

