

# 1

# 世界の地域構成

## 1 地球のようす

- (1) 大陸と海洋…(①)大陸と三大洋。
- (2) 地球上の位置…緯度と(②)で示す。
  - 緯度…0度の緯線を(③)という。
  - (②)…0度の経線を(④)といい、イギリスのロンドンを通る。
- (3) 季節…地軸が傾いているためにおこる。
  - 高緯度…夏至のころ、北極圏では完全に太陽がしずまない(⑤)となる。
  - 低緯度…一年中(⑥)温。

## 2 地球儀と地図

- (1) 地球儀…地球の模型。距離、(①)方位、角度がすべて正確。
- (2) 地図…すべてを同時に正確に表すことはできない。目的に応じて、さまざまな種類の地図がある。

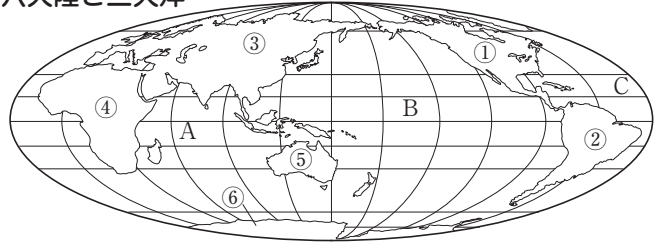
## 3 世界の地域区分

- (1) 6つの州…アジア・(①)・アフリカ・北アメリカ・南アメリカ・(②)。
- (2) さまざまな地域区分
  - ユーラシア大陸…アジアと(③)に大きく区分されている。
  - アジア…(④)・(⑤)・南アジア・中央アジア・西アジア・シベリアに分ける場合もある。

## 4 世界の国々

- (1) 世界の独立国…およそ190か国。
- (2) 面積の広い国…(①)、カナダなど。
- (3) 人口が10億人を超える国…(②)、中国など。
- (4) 島国〔海洋国〕…日本、フィリピンなど。
- (5) (③)国…モンゴル、アフガニスタン、スイスなどのように海と接している部分がない国。
- (6) 国境
  - 自然の境界の利用…川、山脈、海など。
  - 直線の国境…(④)・経線にもとづく。かつてヨーロッパ諸国に植民地支配されたアフリカに多くみられる。

## 六大陸と三大洋

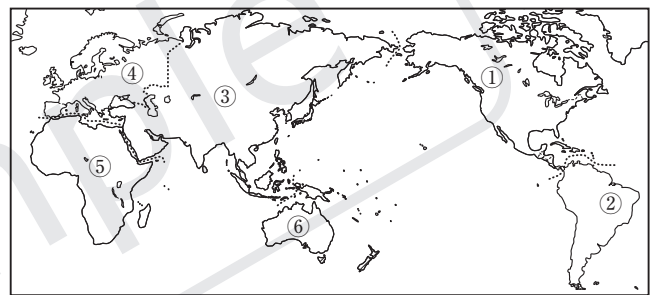


- (1) ①～⑥の大陸の名前を書け。
 

|        |        |
|--------|--------|
| ①( )大陸 | ②( )大陸 |
| ③( )大陸 | ④( )大陸 |
| ⑤( )大陸 | ⑥( )大陸 |
- (2) A～Cの三大洋の名前を書け。
 

|      |      |
|------|------|
| A( ) | B( ) |
| C( ) |      |

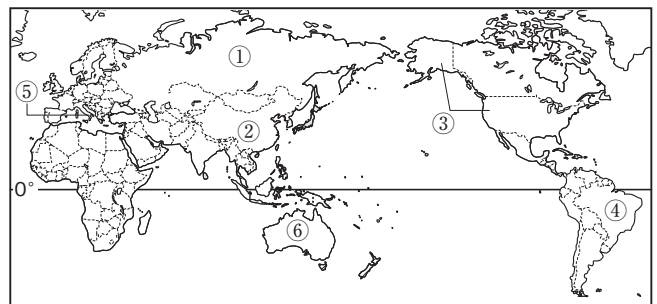
## 6つの州



- ①～⑥の州の名前を書け。
 

|       |       |
|-------|-------|
| ①( )州 | ②( )州 |
| ③( )州 | ④( )州 |
| ⑤( )州 | ⑥( )州 |

## 世界の国々



- (1) ①～④の国名を書け。
 

|      |      |
|------|------|
| ①( ) | ②( ) |
| ③( ) | ④( ) |
- (2) ⑤にある面積・人口ともに世界最小の国の国名を書け。( )
- (3) 大陸が1つの国となっている⑥の国名を書け。( )



## 重要事項の確認



◆ 次の問いに答えなさい。

- ☐ ① 世界の陸地は、6つの大陸と島々から成り立っていますが、6つの大陸のうちで最も面積の小さい大陸は何ですか。
- ☐ ② 世界の3つの大洋は、インド洋と太平洋ともうひとつは何ですか。
- ☐ ③ イギリスのロンドンを通る経度0度の線を特に何とよんでいますか。
- ☐ ④ 0度の緯度を示す線を、特に何とよんでいますか。
- ☐ ⑤ 季節の変化は、何が傾いていることによりおこりますか。
- ☐ ⑥ 正距方位図法という地図は、中心からの距離ともうひとつ何が正しい地図のことですか。
- ☐ ⑦ 地球を小さくした模型を何といいますか。
- ☐ ⑧ アフガニスタンやスイスのように、海に面していない国を何といいますか。
- ☐ ⑨ フランス・イギリス・インドのうち、島国〔海洋国〕は、どれですか。
- ☐ ⑩ イタリア・メキシコ・モンゴルのうち、内陸国は、どれですか。
- ☐ ⑪ 世界を6つの州に分ける場合、日本は何という州の一部に属していますか。
- ☐ ⑫ 日本、インド、インドネシアのうち、東南アジアの国は、どれですか。
- ☐ ⑬ インドとともに人口が10億人を超えている国はどこですか。
- ☐ ⑭ 面積が世界最大の国はどこですか。
- ☐ ⑮ 直線的な国境線は、おもに何をもとにしてひかれていますか。
- ☐ ⑯ オーストラリアやニュージーランドの国旗は、どここの国の国旗を取り入れてつくられていますか。
- ☐ ⑰ 国土を通る「赤道」を表すスペイン語からつけられた国名は、何ですか。
- ☐ ⑱ 1つの大陸全体が1つの国となっている、日本の真南にある国はどこですか。
- ☐ ⑲ 世界最長のナイル川が流れ、ピラミッドなど古代遺跡で知られるアフリカ北部の国はどこですか。
- ☐ ⑳ 世界で2番目に面積が広く、カエデの葉がデザインされた国旗をもつ国はどこですか。

- ① \_\_\_\_\_
- ② \_\_\_\_\_
- ③ \_\_\_\_\_
- ④ \_\_\_\_\_
- ⑤ \_\_\_\_\_
- ⑥ \_\_\_\_\_
- ⑦ \_\_\_\_\_
- ⑧ \_\_\_\_\_
- ⑨ \_\_\_\_\_
- ⑩ \_\_\_\_\_
- ⑪ \_\_\_\_\_
- ⑫ \_\_\_\_\_
- ⑬ \_\_\_\_\_
- ⑭ \_\_\_\_\_
- ⑮ \_\_\_\_\_
- ⑯ \_\_\_\_\_
- ⑰ \_\_\_\_\_
- ⑱ \_\_\_\_\_
- ⑲ \_\_\_\_\_
- ⑳ \_\_\_\_\_

# 入試対策問題

1 右の図を見て、次の問いに答えなさい。

(1) 図Ⅰの①～③にあてはまる語句を書け。

□①[ ] □②[ ] □③[ ]

(2) 図ⅠのAは、それぞれ東西に180度に区切られている線、Bは南北に90度に区切られている線である。それぞれのよび名を書け。

□A[ ] □B[ ]

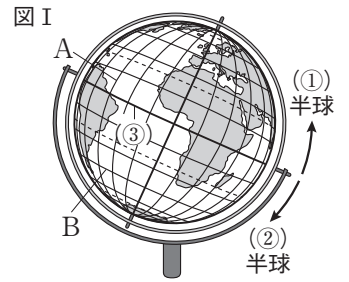
□(3) 地図について正しく説明したものを次のア～ウから1つ選び、記号で答えよ。

ア 面積が正しく表された地図は、航空図としてよく用いられる。

イ 球体である地球のようす全体を1枚の地図で正確に表すことはできない。

ウ 中心からの距離と方位が正しく表された地図は、分布図としてよく用いられる。

[ ]



(4) 図Ⅱについて、次の問いに答えよ。

① 地図中のC・Dの海洋名をそれぞれ書け。

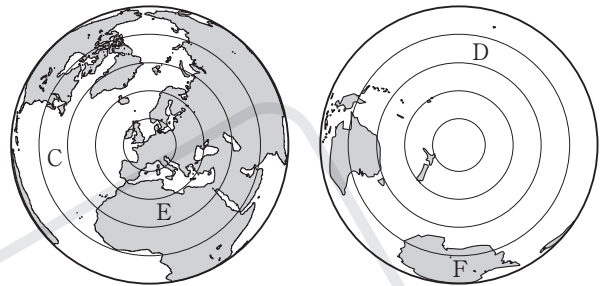
□C[ ] □D[ ]

□② 地図中のEの大陸名を書け。

[ ]

□③ 地図中のFの大陸名を書け。

[ ]



2 右の地図を見て、次の問いに答えなさい。

□(1) この地図は、東京を中心にして何が正しく表されているか。2つ答えよ。

[ ] [ ]

(2) 地図中のb・c・dの都市がある大陸を、それぞれ何というか。

□b[ ] □c[ ] □d[ ]

□(3) a～eの都市のうち、北半球にあるものを2つ選び、記号で答えよ。

[ ] [ ]

(4) a～eの都市のうち、東京から見て、①東に位置している都市と、

②南に位置している都市をそれぞれ1つずつ選び、記号で答えよ。

□①[ ] □②[ ]

(5) 地図中のXの大陸名とYの海洋名を答えよ。

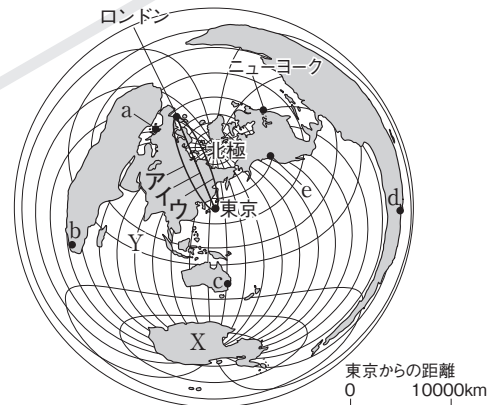
□X[ ] □Y[ ]

□(6) 地図中のア～ウの線のうち、東京－ロンドン間の最短距離を示すものを1つ選び、記号で答えよ。[ ]

□(7) 地図中のニューヨークは北緯40度、西経74度である。ニューヨークと正反対にある地球上の位置を次のア～エから1つ選び、記号で答えよ。

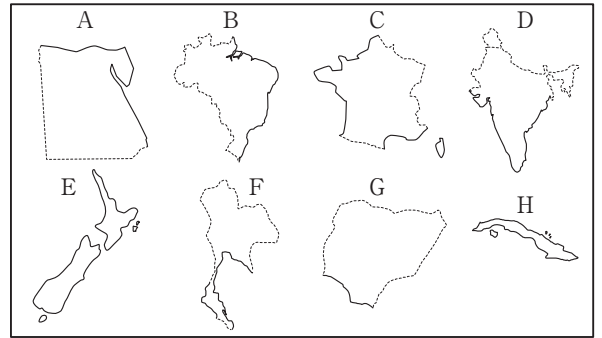
ア 北緯40度、東経74度 イ 北緯40度、東経106度

ウ 南緯40度、東経74度 エ 南緯40度、東経106度



③ 次の①～④を読み、右の図を見て、あとの問いに答えなさい。

- ① AとGはアフリカ州の国、DとFはアジア州の国。  
 ② Bの国は赤道と南回帰線が通過する。  
 ③ Cは地中海に面したヨーロッパ州の国で、小麦やぶどうの生産がさかん。  
 ④ Hはカリブ海に位置する島国。



(実線は海岸線を、点線は国境線を示している。縮尺は同一ではない。)

(1) AとBの国名を答えよ。

□A[                      ]    □B[                      ]

□(2) A～Hのうち、人口が最も多い国を1つ選び、記号で答えよ。

[                      ]

□(3) Cの国の首都名を次のア～エから1つ選び、記号で答えよ。

ア マドリード    イ ワルシャワ    ウ パリ    エ ブリュッセル

[                      ]

□(4) 次のア～オのうち、Eの国と関係のないものを1つ選び、記号で答えよ。

ア 火山    イ 羊    ウ 大西洋    エ 島国    オ オセアニア州

[                      ]

(5) F・G・Hの国を次のア～カから1つずつ選び、記号で答えよ。

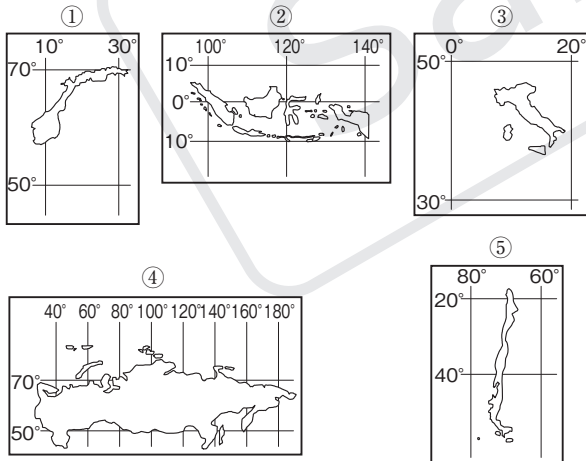
ア 中国    イ イラク    ウ ナイジェリア    エ 南アフリカ共和国    オ キューバ    カ タイ

□F[                      ]    □G[                      ]    □H[                      ]

## Point Up! 資料を見て記述する問題

◆ 次の図を見て、あとの問いに答えなさい。

### <取り札>



□(1) 次の表で、取り札と読み札と国の特色が正しく組み合わせられているものを、ア～エの中から1つ選び、記号で答えよ。 [                      ]

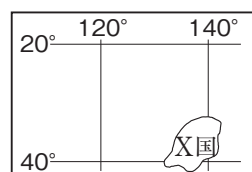
|   | 取り札と読み札の組み合わせ | 国の特色             |
|---|---------------|------------------|
| ア | ①－㊸           | 5つの国の中で最も面積の大きい国 |
| イ | ②－㊹           | 国土の大部分が熱帯の国      |
| ウ | ③－㊺           | 国土の大部分が半島の国      |
| エ | ④－㊻           | 5つの国の中で最も南にある国   |

### <読み札>

|                                  |                         |                                   |
|----------------------------------|-------------------------|-----------------------------------|
| 共和国<br>なる<br>多くの島々から<br>なるインドネシア | ㊸<br>海岸線が複雑な<br>ノルウェー王国 | ㊹<br>東西に<br>国土が広がる<br>ロシア連邦       |
| る<br>長靴の形に似てい<br>るイタリア共和国        | ㊺<br>細長い形をしてい<br>るチリ共和国 | ㊻<br>日本と<br>対称な形をしてい<br>る南アフリカ共和国 |

□(2) 想像上の島国であるX国のカルタを、日本と対比させて作った。取り札に示された緯線と経線だけから考えられるX国の特色を読み札に書け。

### <取り札>



### <読み札>

|    |     |
|----|-----|
| X国 | 日本と |
|----|-----|