

学力検査問題

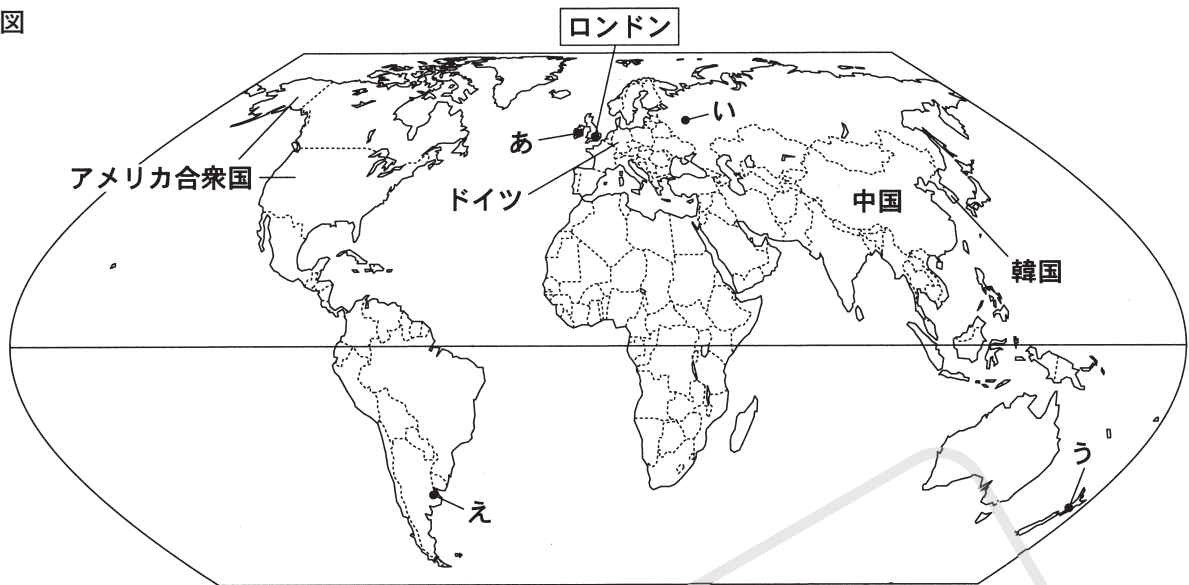
社会 第2回

注 意

- 1 問題は**1**から**6**まで、12ページにわたって印刷してあります。
- 2 声を出して読むではいけません。
- 3 答えは、すべて解答用紙に明確に記入しなさい。
- 4 答えを直すときは、きれいに消してから、新しい答えを書きなさい。

1 次の図を見て、下の(1)~(4)の問いに答えなさい。

図

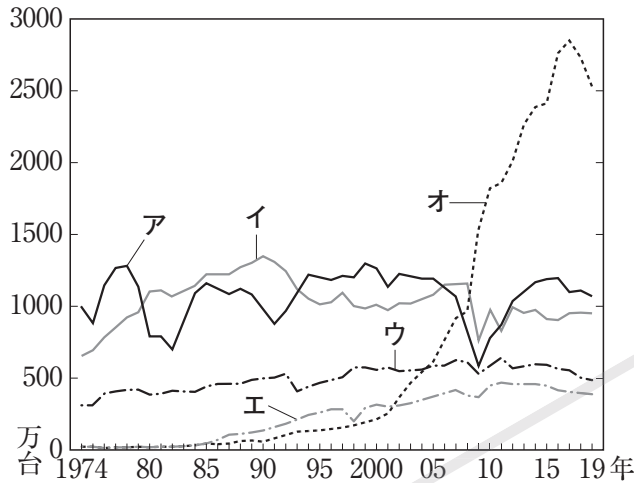


(注) 国境に一部未確定部分がある。

- (1) 上の図は、面積が正しく表されているものである。図中の大陸のうち、面積が一番大きな大陸はどこか。その大陸名を書きなさい。ただし、図中には南極大陸を除く五つの大陸が示してある。
- (2) 図中のあ～えで示した首都のうち、温帯気候には属さないもの一つを選び、記号を書きなさい。
- (3) 12月24日の午前10時30分に成田国際空港を出発し、12時間後に図中のロンドンに到着したときの、到着日時を現地時間で書きなさい。ただし、午前、午後については、解答用紙の「午前」、「午後」のいずれかを○で囲むこと。

- (4) 下の資料1は、前のページの図中のアメリカ合衆国、ドイツ、中国、韓国及び日本の国内自動車生産台数の推移を示したものであり、資料2は、この五つの国の自動車輸出台数、自動車輸出額及び輸出総額を示したものである。資料1中のア～オ、資料2中のカ～コのうち、中国と日本にあてはまるものはそれぞれどれか。資料1及び資料2から中国と日本について読み取ったことをまとめた資料3を参考にして、ア～オ、カ～コから一つずつ選び、記号を書きなさい。

資料1 アメリカ合衆国、ドイツ、中国、韓国、日本の国内自動車生産台数の推移



(「日本国勢図会」2020/21年版により作成)

資料2 アメリカ合衆国、ドイツ、中国、韓国、日本の自動車輸出台数、自動車輸出額、輸出総額

国名	自動車輸出台数 (千台)	自動車輸出額 (百万ドル)	輸出総額 (百万ドル)
カ	2,450	60,583	604,807
キ	2,880	126,117	1,665,303
ク	4,817	152,429	738,201
ケ	4,212	257,552	1,562,419
コ	1,041	83,474	2,494,230

(2018年)

(「日本国勢図会」2020/21年版により作成)

資料3 資料1、資料2から中国と日本について読み取ったこと

中国の国内自動車生産台数は2001年以降急激に増加している。また、2018年において、中国は、国内で生産した自動車台数の90%以上を国内で販売している。輸出総額に対する自動車輸出額の割合は、他の4か国より小さい。

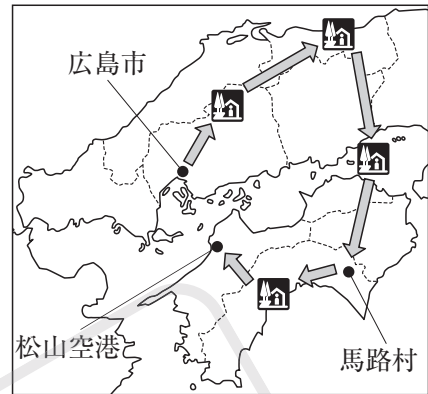
日本の国内自動車生産台数は、2006年にアメリカ合衆国を抜き、世界第1位となったが、2009年には中国に抜かれた。2018年において、日本の自動車輸出台数は、国内で生産した自動車台数の50%近くあり、輸出総額に対する自動車輸出額の割合は、他の4か国より大きい。

2 太郎さんが両親と訪れた中国・四国地方に関して、次の(1)から(4)までの問いに答えなさい。

(1) 図1に関して、次の文は太郎さんと両親が広島市内を車で移動しているときの会話の一部である。これを読み、①、②、③の問いに答えなさい。

父 「広島市内を車で走ると、何度も橋を渡るね。」
 太郎 「広島市の市街地は③三角州という地形の上にあつて、何本も川が流れていると学校で学んだよ。」
 母 「他にも広島市について学校で学んだことはあるかな。」
 太郎 「広島市がある瀬戸内工業地域は、とよばれる関東地方から九州地方の北部にかけてのびる帯状の工業地域の一部だよ。」
 父 「もうすぐ⑥原爆ドームの近くを通るね。」
 太郎 「行ってみようよ。」

図1



(注) 図中の 家 は「道の駅」の位置を示している。

① 下線部③について正しく述べているものを次のア～エから一つ選び、記号を書きなさい。

- ア 河川によって運ばれた土砂が、河口部に堆積した地形である。
- イ 河川が山間部から平野に出た所に、土砂が堆積して造られる地形である。
- ウ 小さな岬と奥行きのある湾が繰り返す地形である。
- エ 風で運ばれた砂が堆積した丘状の地形である。

② 文中のに当てはまる語を書きなさい。

③ 下線部⑥のような、貴重な自然環境や文化財などのうち、人類共通の財産としてユネスコが作成したリストに登録されたものを何というか、書きなさい。

(2) 図2は、瀬戸内工業地域、阪神工業地帯、中京工業地帯、東海工業地域における、製造品出荷額に占める各品目の出荷額の割合と製造品出荷額を示している(2018年)。瀬戸内工業地域にあてはまるものを、図2中のア～エから一つ選び、記号を書きなさい。

図2

	製造品出荷額の割合 (%)						製造品出荷額 (百億円)
	金属	機械	化学	食料品	繊維	その他	
ア	8.2	52.2	21.2	13.1	0.7	4.6	1,754
イ	9.5	69.3	12.0	4.6	0.7	3.9	5,993
ウ	20.8	37.8	23.4	11.0	1.2	5.8	3,407
エ	18.8	34.7	31.8	7.6	2.0	5.1	3,213

(「データブック オブ・ザ・ワールド」2022年版により作成)

(3) 図1の矢印は、太郎さんと両親が広島市から松山空港まで車で移動した経路を示している。これについて、①、②の問いに答えなさい。

① 次の文は、太郎さんが訪れた「道の駅」の様子について述べたものである。次のア～エを訪れた順に並べ替え、記号を書きなさい。

ア 比較的降水量が少ない地域にあり、地域とオリーブの歴史などを紹介する施設や、オリーブを使った料理を提供するレストランがあった。

イ 冬場でも温暖で日照時間が長い地域にあり、温暖な気候を利用して栽培された野菜が農産物直売所で販売されていた。

ウ 山間部にあり、雪を利用した冷蔵庫である「雪室」の中で、ジュースや日本酒が保存・熟成されていた。

エ 冬に雪が多く降る地域にあり、古事記に記された神話にちなんだ土産品が売られていた。

② 図3は、松山空港（愛媛県）から、伊丹空港（大阪府）、那覇空港（沖縄県）、羽田空港（東京都）、福岡空港（福岡県）に向けて1日に出発する飛行機の便数と、その所要時間を示している。福岡空港はどれか、書きなさい。

図3

	出発便数（便）	所要時間（分）
ア	12	80～85
イ	10	50～60
ウ	4	50～55
エ	1	120

（「松山空港ホームページ」により作成）

(4) 太郎さんは、旅行中に立ち寄った馬路村に興味をもち、図4の資料を集めた。図4から読み取れる、馬路村の課題と、地域おこしの特徴や成果について、簡潔に書きなさい。

図4

<p>資料1 馬路村の人口と65歳以上の人口の割合の推移</p> <table border="1"> <thead> <tr> <th></th> <th>1990年</th> <th>1995年</th> <th>2000年</th> <th>2005年</th> <th>2010年</th> <th>2017年</th> </tr> </thead> <tbody> <tr> <td>人口</td> <td>1313人</td> <td>1242人</td> <td>1195人</td> <td>1170人</td> <td>1013人</td> <td>898人</td> </tr> <tr> <td>65歳以上の人口の割合</td> <td>20.0%</td> <td>24.9%</td> <td>28.6%</td> <td>32.9%</td> <td>35.0%</td> <td>37.8%</td> </tr> </tbody> </table>		1990年	1995年	2000年	2005年	2010年	2017年	人口	1313人	1242人	1195人	1170人	1013人	898人	65歳以上の人口の割合	20.0%	24.9%	28.6%	32.9%	35.0%	37.8%	<p>資料3 馬路村のゆずに関する統計</p> <p>ゆず生産量 (t)</p> <table border="1"> <thead> <tr> <th>年</th> <th>生産量 (t)</th> </tr> </thead> <tbody> <tr> <td>1990年</td> <td>約200</td> </tr> <tr> <td>2019年</td> <td>約800</td> </tr> </tbody> </table> <p>ゆず加工品の販売高 (億円)</p> <table border="1"> <thead> <tr> <th>年</th> <th>販売高 (億円)</th> </tr> </thead> <tbody> <tr> <td>1990年</td> <td>約5</td> </tr> <tr> <td>2019年</td> <td>約25</td> </tr> </tbody> </table>	年	生産量 (t)	1990年	約200	2019年	約800	年	販売高 (億円)	1990年	約5	2019年	約25
	1990年	1995年	2000年	2005年	2010年	2017年																												
人口	1313人	1242人	1195人	1170人	1013人	898人																												
65歳以上の人口の割合	20.0%	24.9%	28.6%	32.9%	35.0%	37.8%																												
年	生産量 (t)																																	
1990年	約200																																	
2019年	約800																																	
年	販売高 (億円)																																	
1990年	約5																																	
2019年	約25																																	
<p>資料2 馬路村の人々の主な取組</p> <p>1990年 ゆずドリンクが「日本の101村展」で農産部門賞を受賞</p> <p>2003年 ゆず加工品のCMが飲料メーカーの地域文化賞を受賞</p> <p>2009年 農協が地元大学とゆずの種を用いた化粧品の研究を開始</p> <p>2011年 地元大学との共同研究で開発した化粧品の販売開始</p>																																		


（馬路村ホームページなどにより作成）

3 次の問いに答えなさい。

(1) 年表をみて、次の①～④の問いに答えなさい。

① 下線部①に関して、イラスト

ラストの人物は何度も航海に失敗し、失明しながらも遣唐使にともなわれて来日して、仏教の教えを伝えた人物である。この人物は誰か、書きなさい。



② 史料は、ある人物が自らの権力を誇ってよんだ歌である。この歌がよまれた期間を、年表中の a～d から一つ選び、記号を書きなさい。

史料

この世をば わが世とぞ思う 望月の
欠けたることも 無しと思えば

年	できごと
239	卑弥呼が魏に使いを送る。 ↕ a
607	小野妹子が隋に派遣される。
630	①遣唐使が初めて派遣される。 ↕ b
894	遣唐使が停止される。 ↕ c
1167	平清盛が宋との貿易のために兵庫の港を整備する。
1281	②弘安の役がおこる。 ↕ d
1404	日明貿易が始まる。 ↕ X
1582	天正遣欧使節が派遣される。

③ 下線部②や土地の分割相続などによる影響で、御家人の中には生活が苦しくなって土地を手放す者もあらわれた。このような状況に対する鎌倉幕府の対応について述べた次の文の P にあてはまる語と、Q にあてはまる内容をそれぞれ書きなさい。

幕府は P を出して、御家人が売ったり質に入れたりした土地を Q 。

④ Xの期間における世界のできごとについて述べたものとして正しいものを、次のア～エから一つ選び、記号を書きなさい。

- ア ナポレオンがフランスの皇帝になった。
- イ バスコ＝ダ＝ガマの船隊がインドに到達した。
- ウ フビライ＝ハンが大都（北京）に都をうつした。
- エ ムハンマドがイスラム教をおこした。

(2) 資料は、江戸時代における長崎の出島をえがいたものである。これを見て、次の①、②の間に答えなさい。

① 出島には、ポルトガル船の来航が禁止されたあと、平戸で貿易をおこなっていたヨーロッパのある国の商館がうつされた。その国名を書きなさい。

資料

著作権者への配慮から、掲載を差し控えております。実際の教材には掲載されておりますのでご安心ください。

② 江戸時代における長崎での貿易に関して述べた次のA、Bの文の正誤の組み合わせとして正しいものをあとのア～エから一つ選び、記号を書きなさい。

A あらい はくせき 新井白石は貿易を制限し、金銀の海外流出をおさえた。

B たぬまおきつぐ 田沼意次は貿易を積極的にすすめ、海産物の輸出をうながした。

ア A = 正, B = 正 イ A = 正, B = 誤

ウ A = 誤, B = 正 エ A = 誤, B = 誤

Sample

4 ^{はるか} 遙香さんは、社会科の自由研究で、わが国の明治以降の教育について調べ、カードを作成した。

I～IVは、そのカードの一部を年代順に並べたものである。次の各問いに答えなさい。

<p>I</p> <p>著作権者への配慮から、掲載を差し控えております。実際の教材には掲載されておりますのでご安心ください。</p>	<p>この絵は、小学校での授業のようすを描いたものである。明治政府は、①近代化を進めるため、教育の面では、1872年に学制を公布して義務教育の確立を図った。1890年には教育勅語を發布し、忠君愛国の道徳が学校教育を通じて国民に広まった。</p>
<p>II</p> <p>著作権者への配慮から、掲載を差し控えております。実際の教材には掲載されておりますのでご安心ください。</p>	<p>この写真は、1900年に津田梅子が設立した女子英学塾のようすを写したものである。②日清戦争・日露戦争を経て1907年には、義務教育の就学率は、97%を超えた。③大正時代には中等・高等教育機関が増設され、女性の進学率も高まった。</p>
<p>III</p> <p>著作権者への配慮から、掲載を差し控えております。実際の教材には掲載されておりますのでご安心ください。</p>	<p>この写真は、国民学校での軍事教練のようすを写したものである。④満州事変以降、軍部が次第に政治への発言力を高めた。日中戦争が始まると経済や国民生活、思想への統制が強まり、1941年には小学校が国民学校と改称され、軍国主義的な教育が強化された。</p>
<p>IV</p> <p>著作権者への配慮から、掲載を差し控えております。実際の教材には掲載されておりますのでご安心ください。</p>	<p>この写真は、第二次世界大戦後の学校でのホームルームのようすを写したものである。敗戦後、教育も民主化が進められ、日本国憲法に基づいて教育基本法が制定された。⑤高度経済成長期には、国民の所得が増え、高校・大学への進学率が上昇した。</p>

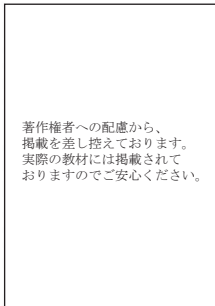
(1) 下線部①について、政府は殖産興業政策として、交通の整備を行い、1872年に東京（新橋）とa（ア 大阪 イ 京都 ウ 横浜）の間に初めて鉄道が開通した。また、北海道の開拓を進めるにあたり、防備の目的も兼ね、士族などをとbよばれる兵士として移住させた。aの（ ）の中から適当なものを一つ選び、記号を書きなさい。また、bに当てはまる語を書きなさい。

(2) 下線部②について、①、②の問いに答えなさい。

① 1894年、朝鮮半島南部で発生したa（ア 義和団事件 イ 甲午農民戦争 ウ 江華島事件）の鎮圧のため、朝鮮の求めに応じて清が軍隊を送ると、わが国もこれに対抗して出兵し、日清戦争へと発展した。戦争に勝利したわが国は、清との間で下関条約を結んだが、三国干渉により、清から獲得したb（ア 台湾 イ 澎湖諸島（列島） ウ 遼東半島）を返還した。a、bの（ ）の中から適当なものをそれぞれ一つずつ選び、記号を書きなさい

- ② 資料1は、日露戦争時の首相である桂太郎^{かつら たろう}と、重い荷物を背負った民衆を描いた風刺画である。また、表は、日清戦争と日露戦争における戦費を比較したものであり、図1は、日露戦争前後の時期における政府の租税収入額の変化を示したものである。資料1の風刺画が意味する日露戦争当時の民衆の負担となっていたことを、表と図1を関連付けて書きなさい。

資料1

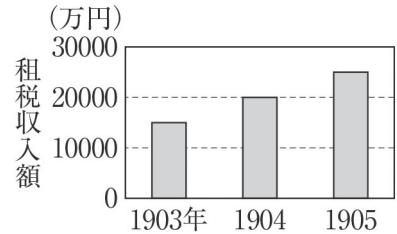


表

項目	戦費 (万円)
日清戦争	23240
日露戦争	182629

(「日本長期統計総覧」により作成)

図1



(「岩波日本史辞典」により作成)

- (3) 下線部③について、次のア～ウは、大正時代のわが国に関するできごとである。年代の古いものから順に、記号を書きなさい。

- ア ワシントン会議で海軍の主力艦の保有制限などを取り決めた。
 イ 二十一か条の要求の大部分を中国政府に認めさせた。
 ウ 日英同盟を理由に第一次世界大戦に参戦した。

- (4) 下線部④について、資料2は、国際連盟が派遣したイギリスなど5か国の代表者からなる調査団が、南満州鉄道の線路爆破事件を調べるようすである。①、②の問いに答えなさい。

資料2



- ① 満州に駐留していた日本軍(関東軍)が、奉天(現在の瀋陽)郊外のa(ア 盧溝橋 イ 柳条湖)で南満州鉄道の線路を爆破したことをきっかけに軍事行動を開始し、満州の大部分を占領した。これに対し、b(ア 毛沢東 イ 蒋介石 ウ 孫文)を指導者とする中国国民政府は、国際連盟に日本の行動を訴えた。a、bの()の中から適当なものをそれぞれ一つずつ選び、記号を書きなさい。


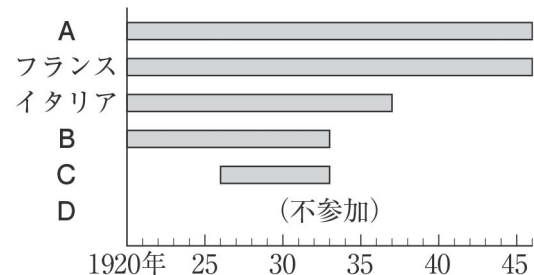
- ② 図2は、日本、アメリカ合衆国、イギリス、ドイツ、フランス、イタリアの国際連盟への加盟状況を示したものであり、は、加盟期間を表している。日本、アメリカ合衆国、ドイツに当たるものを、図2のA～Dからそれぞれ一つずつ選び、記号で答えなさい。

図2



(5) 下線部⑤について、この時期のことがらとして誤っているものを、次のア～エから一つ選び、記号を書きなさい。

ア わが国の国民総生産が、資本主義国の中で初めて第2位となった。

イ 男女雇用機会均等法が制定され、女性の社会進出を後押しする風潮が高まった。

ウ 公害問題への対応として公害対策基本法が制定され、環境庁が設置された。

エ 東海道新幹線が開通し、東京オリンピックが開催された。

Sample

5 下の文章を読んで、次の(1)～(5)に答えなさい。

私たちが自由に人間らしく生きていくことができるように、自由権、㉞社会権、㉟平等権、㊱参政権、㊲裁判を受ける権利などの基本的人権が保障されている。人権の保障は、一人一人の個性を尊重し、かけがえのない人間としてあつかうという「個人の尊重」の原理(憲法第13条)に基づいている。

しかし、産業や科学技術の発展などともなうて、日本国憲法に直接的には規定されていない権利が主張されるようになり、このような権利は「新しい人権」と呼ばれる。「新しい人権」には、㊳環境権や知る権利、プライバシーの権利などがある。

(1) 1919年に定められた、㉞ _____ を最初に取り入れたドイツの憲法を何というか、書きなさい。

資料1
〈男女共同 (X) 社会基本法〉
第3条〔男女の人権の尊重〕
男女共同 (X) 社会の形成は、男女の個人としての尊厳が重んぜられること、男女が性別による差別的取扱いを受けないこと、男女が個人として能力を発揮する機会が確保されることその他の男女の人権が尊重されることを旨として、行われなければならない。

(2) ㉟ _____ について、資料1は日本における男女平等の実現に向けて、1999年に制定された法律の一部である。資料1中の (X) に共通してあてはまる語を書きなさい。

(3) ㊱ _____ について、次の①、②に答えなさい。

① 国や地方の機関に要望する権利を何というか、書きなさい。

② 資料2のA市の場合、市長の解職を請求する住民投票

資料2

を行うためには、最低何人の有効な署名が必要か。次のア～エから一つ選び、記号を書きなさい。

A市の人口	36万人
A市の有権者数	30万人

ア 6万人 イ 10万人 ウ 12万人 エ 18万人

(4) ㊲ _____ について述べた文として適切でないものを、次のア～エから一つ選び、記号を書きなさい。

ア 司法制度改革の一環として、国民が刑事裁判に参加する裁判員制度が始まった。

イ 裁判において、裁判官は自らの良心に従い、憲法と法律だけに拘束される。

ウ 地方裁判所でのだい第一審の判決に納得できない場合、高等裁判所に上告することができる。

エ 国会や内閣は裁判所の活動に干渉してはいけない。

(5) 資料3は、㊳ _____ に配慮されたマンションを表している

資料3

る。このマンションについて述べた下の文中の

に入る適切な内容を書きなさい。

環境権に配慮し、中央のマンションは、左のマンションへの _____ ために、側面を階段状にしている。

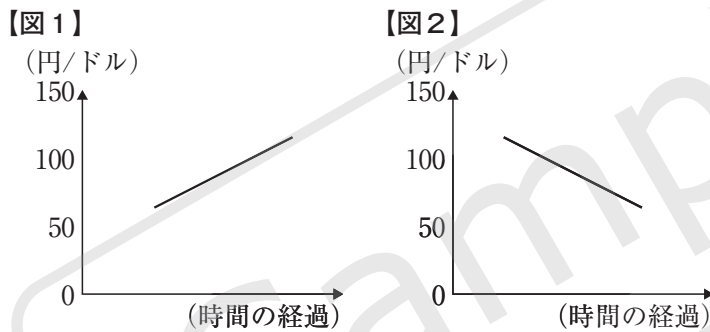


6 現代社会について、(1)~(6)の各問いに答えなさい。

(1) めいさんのお母さんは先日、訪問販売で購入した商品について、右の通知書を作成して販売会社に送り、契約を解除した。このように、消費者が訪問販売などで契約した場合、一定期間内であれば無条件に契約を解除することができる制度を何というか、書きなさい。

通知書	
次の契約を解除することを通知します。	
契約年月日	令和3年☆月▽日
商品名	○○○
商品の代金	29,800 円
販売会社	△△△株式会社□□□営業所 担当者 ◇◇◇◇◇
支払い済みの代金を至急返金していただき、 商品は早急に引き取ってください。	
令和3年☆月◎日 佐賀 やすこ	

(2) 【図1】、【図2】は、日本の円とアメリカのドルの為替相場（為替レート）の変動を模式的に表したものである。為替相場がどのような傾向にある場合に、日本人のアメリカへの旅行が増加傾向をみせるか、その説明として最も適当なものを、下のア～エから一つ選び、記号を書きなさい。



- ア 【図1】のように、円安に向かう傾向にある場合。
- イ 【図1】のように、円高に向かう傾向にある場合。
- ウ 【図2】のように、円安に向かう傾向にある場合。
- エ 【図2】のように、円高に向かう傾向にある場合。

(3) I、IIは、それぞれ貨幣のはたらきについて説明したものである。I、IIに最も関係の深い文を下のA～Cの中からそれぞれ選び、その組み合わせとして最も適当なものを、あとのア～エの中から一つ選び、記号を書きなさい。

- I 財（モノ）やサービスと交換する。
- II 財（モノ）やサービスの価値の大きさを表す。

A 将来のことを考えて、貨幣を貯めておいた。
B 貨幣を使用して、リンゴを購入した。
C 値札を見ると、米10kgは3,000円、バナナ1本は30円であった。

- ア I・A II・B イ I・A II・C ウ I・B II・C エ I・C II・A

(4) 日本の社会保障制度について述べた文として最も適当なものを、次のア～エから一つ選び、記号を書きなさい。

ア 日本の社会保障制度は、日本国憲法第 25 条の生存権の規定にもとづき整備されている。

イ 日本の社会保障制度は、社会保険、公的扶助、社会福祉、年金保険の 4 つの柱で構成されている。

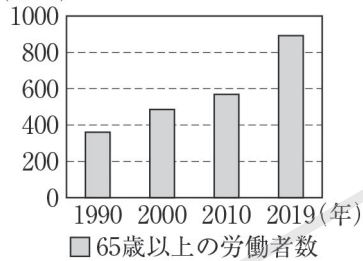
ウ 日本の介護保険制度には、20 歳以上のすべての国民が加入している。

エ 日本の医療保険の財源は、すべて税金でまかなわれている。

(5) 日本の労働者に関する【資料 1】、【資料 2】について述べた【説明文】の にあてはまる内容を書きなさい。

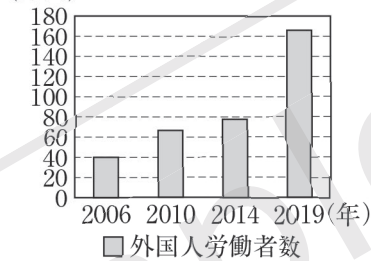
【資料 1】

日本における 65 歳以上の労働者数の推移
(万人)



【資料 2】

日本における外国人労働者数の推移
(万人)



(「最新図説 政経」により作成)

【説明文】

【資料 1】、【資料 2】からわかるように、65 歳以上の労働者数と外国人労働者数はともに増加を続けている。この傾向は少子高齢社会となった日本の課題である を解決しようとする政府の政策が影響している。

(6) 国際社会が抱える課題に関する【資料 3】、【資料 4】の に共通してあてはまる語句を書きなさい。

【資料 3】

著作権者への配慮から、掲載を差し控えております。
実際の教材には掲載されておりますのでご安心ください。

※物事のはじまり

(日本経済新聞 2019 年 3 月 15 日より一部抜粋)

【資料 4】

著作権者への配慮から、掲載を差し控えております。
実際の教材には掲載されておりますのでご安心ください。

(佐賀新聞 2017 年 9 月 15 日より一部抜粋)