

大阪府立入試直前予想演習  
(一般入学者選抜)

社 会

第2回

注 意

1 「開始」の合図があるまで開いてはいけません。

2 答えは、すべて**解答用紙**に書きなさい。

答えとして記号を選ぶ問題は、下の【解答例】にならい、すべて**解答用紙**の記号を○で囲みなさい。また、答えを訂正するときは、もとの○をきれいに消しなさい。

【解答例】

ア	イ	ウ	エ
---	---	---	---

解答用紙の**採点者記入欄**には、何も書いてはいけません。

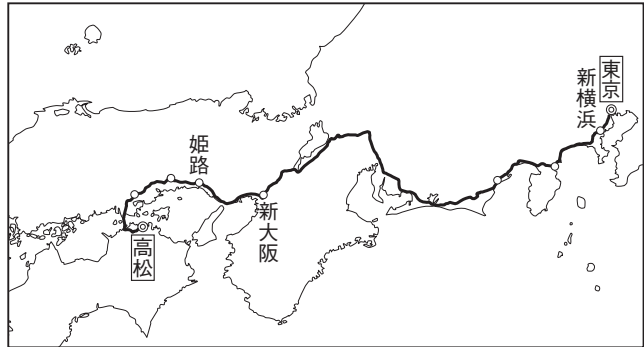
3 問題は、中の用紙のA面に1、B面に2、C面に3、D面に4があります。

4 「開始」の合図で、まず、**解答用紙**に受験番号を書きなさい。

5 「終了」の合図で、すぐ鉛筆を置きなさい。

1 Sさんは休みを利用して、家族と一緒に東京から高松へ旅行することになった。図Iのルートで高松に向かうことになり、Sさんは、沿線や途中の停車駅のいくつかについて調べた。次の問いに答えなさい。

図I



- (1) 二つ目の停車駅は新横浜である。
- ① 新横浜駅がある横浜市は何県の県庁所在地か、書きなさい。
  - ② 横浜は、江戸時代に、ある条約によって海外に向けて開港された港である。何という条約か。次のア～エから一つ選び、記号を○で囲みなさい。  
 ア 日米親親条約  
 イ 日清修好条規  
 ウ 下関条約  
 エ 日米修好通商条約

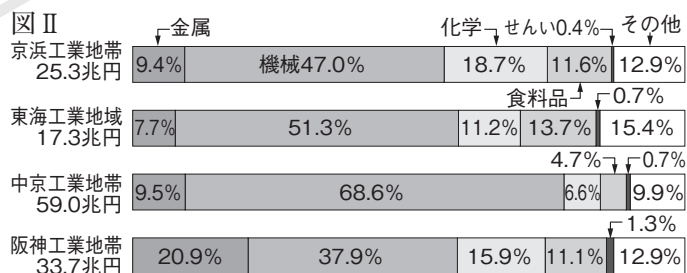
- ③ 横浜港は現在、日本有数の貿易港である。次の表のア～エは、2020(令和2)年における関東にある国際貿易港のうち横浜港、成田国際空港、千葉港、東京港のいずれかの輸出入品上位5品目と貿易総額を示したものである。横浜港に当たるものをア～エから一つ選び、記号を○で囲みなさい。

表 (2020年)

	貿易総額(億円)	おもな輸出品	おもな輸入品
ア	162,278	自動車部品, 半導体等製造装置, コンピュータ部品, プラスチック, 内燃機関	衣類, コンピュータ, 肉類, 魚介類, 音響・映像機器
イ	30,685	石油製品, 鉄鋼, 有機化合物, プラスチック, 鉄鋼くず	石油, 液化ガス, 自動車, 鉄鋼, 肉類
ウ	98,744	自動車, プラスチック, 内燃機関, 自動車部品, ポンプ, 遠心分離機	石油, 有機化合物, 液化ガス, 衣類, アルミニウム
エ	229,619	半導体等製造装置, 金(非貨幣用), 科学光学機器, 電気計測機器, 集積回路	通信機, 医薬品, コンピュータ, 集積回路, 科学光学機器

(『日本国勢図会』2022/23年版により作成)

- (2) 図IIは、東京から高松の間にある、京浜工業地帯、東海工業地域、中京工業地帯、阪神工業地帯について、2019(平成31/令和元)年における製造品出荷額等とその内訳を示したものである。図IIから読み取れる内容として誤っているものを一つ選び、記号を○で囲みなさい。



(『日本国勢図会』2022/23年版により作成)

- ア 中京工業地帯では、機械工業の割合が7割を超えている。  
 イ 化学工業の割合が最も高いのは、京浜工業地帯である。  
 ウ 金属工業の割合が最も高いのは、阪神工業地帯である。  
 エ 東海工業地域では機械工業の出荷額は8兆円を超えている。
- (3) 右の条文は、大阪府独自の法の一部で「自転車の安全で適正な利用の促進に関して」制定されたものである。このような地方公共団体独自の法は何と呼ばれているか、書きなさい。

第三条 自転車利用者は、自転車が交通の危険を生じさせるおそれのあるものであることを認識し、歩行者、自転車、自動車及び原動機付自転車が共に道路を安全に通行することができるように配慮し、安全適正利用に努めなければならない。(一部省略)

(4) 途中で立ち寄った姫路には、世界文化遺産に登録された姫路城がある。世界遺産は、世界遺産条約にもとづいて世界遺産リストに登録された遺跡、景観、自然などである。日本では、このような条約を締結する役割を担う機関はどこか。次のア～エから一つ選び、記号を○で囲みなさい。

- ア 国会      イ 天皇      ウ 裁判所      エ 内閣

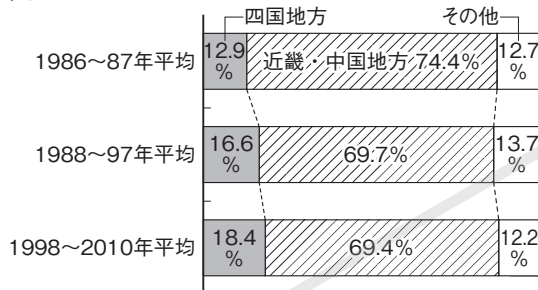
(5) 目的地の高松は中国・四国地方に含まれる。

① 中国・四国地方について説明した次の文中の( a ), ( b )に当てはまる語を書きなさい。

中国・四国地方は、地形の特色から三つの地域に分けることができる。中国山地の北側を( a ), 瀬戸内海に面した地域を瀬戸内, 四国山地の南側を( b )と呼ぶ。

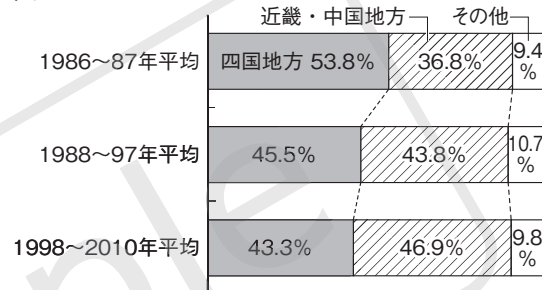
② 図Ⅲと図Ⅳは、それぞれ1986(昭和61)年から2010(平成22)年における岡山大学と香川大学の入学者の出身地方の推移を示したものである。岡山大学では、四国地方からの入学者の割合が増加し、香川大学では、近畿・中国地方からの入学者の割合が増加している。その理由の一つとして考えられることを、交通網に着目して簡潔に書きなさい。

図Ⅲ 岡山大学の入学者の出身地方の推移



(岡山大学資料により作成)

図Ⅳ 香川大学の入学者の出身地方の推移



(香川大学資料により作成)

(6) 高松には、ため池が多いと地理で学習したSさんは地形図で確かめることにした。次の図Ⅴは、2015(平成27)年に発行された、「白峰山」の地形図の一部である。

① 図Ⅴ中のAの地図記号は何を表しているか、次のア～エから一つ選び、記号を○で囲みなさい。

- ア 消防署      イ 警察署  
ウ 図書館      エ 交番

② 図Ⅴ中のBに「讃岐国分尼寺跡」という史跡が見られる。国分尼寺・国分寺は奈良時代に朝廷の政策として全国に建設されたものだが、建設を命じた天皇はだれか。漢字で答えなさい。

③ 図Ⅴ中のCの地域にある寺院と神社の間の地形図上の長さは7mmである。実際の距離は何mか、書きなさい。

④ 図Ⅴ中にはため池が多く見られるが、この地域に多くのため池がつくられた理由を簡潔に書きなさい。



(国土地理院発行2万5千分の1地形図「白峰山」一部)

2 Nくんは、国際連合(国連)に興味をもち調べた。あとの問いに答えなさい。

図 I




図 II



- (1) 図 I は、国連の旗に描かれた地図である。ここに描かれていない大陸が一つある。その大陸名を書きなさい。
- (2) 図 I を説明した次の文中の、,  に当てはまる語の組み合わせとして正しいものを、あとのア～エから一つ選び、記号を○で囲みなさい。

図 I に同心円状に描かれている線は緯線、放射状に描かれている線は経線である。A は  度の緯線、B は  度の経線を表している。地図の周りの植物は、平和の象徴とされるオリーブの葉である。

- ア 北緯30 東経135      イ 北緯30 西経135  
 ウ 南緯30 東経135      エ 南緯30 西経135

- (3) 図 II 中の 5 か国は安全保障理事会の常任理事国である。次の表のア～オは、2020(令和 2)年におけるこの 5 か国のいずれかの輸出入額の上位 5 品目を示している。中国に当たるものはどれか。ア～オから一つ選び、記号を○で囲みなさい。

	輸出(百万ドル)		輸入(百万ドル)	
ア	機械類	1,150,073	機械類	742,066
	せんい品	154,091	原油	178,453
	衣類	141,501	鉄鉱石	123,732
	金属製品	107,039	精密機械	93,333
	自動車	81,706	自動車	73,911

	輸出(百万ドル)		輸入(百万ドル)	
イ	機械類	93,951	機械類	125,824
	自動車	42,597	自動車	63,319
	医薬品	38,766	医薬品	33,228
	航空機	29,051	衣類	23,674
	精密機械	14,106	石油製品	17,613

	輸出(百万ドル)		輸入(百万ドル)	
ウ	機械類	351,431	機械類	702,513
	自動車	101,941	自動車	250,208
	精密機械	66,617	医薬品	147,418
	石油製品	64,826	衣類	82,417
	医薬品	57,850	原油	81,630

	輸出(百万ドル)		輸入(百万ドル)	
エ	原油	72,564	機械類	74,546
	石油製品	47,665	自動車	18,041
	金(非貨幣用)	18,537	医薬品	11,465
	鉄鋼	16,828	金属製品	8,173
	石炭	13,358	野菜・果実	7,912

	輸出(百万ドル)		輸入(百万ドル)	
オ	機械類	87,351	機械類	127,075
	自動車	34,881	金(非貨幣用)	89,819
	医薬品	26,173	自動車	56,943
	金(非貨幣用)	22,014	医薬品	26,961
	原油	16,097	衣類	26,318

(『世界国勢図会』2022/23年版により作成)

(4) 次の文は、Nくんが国連の成立と目的についてまとめたものである。

1920年に発足した〔a〕を前身としている。〔a〕が世界戦争の再発を防ぐことができなかつた反省から、1945年に国際連合として発足した。世界の平和と安全の維持や、諸国間の友好関係、人権の尊重の実現などが重要な目的とされている。

2023年現在193か国が加盟し運営されているが、最も重要な組織は〔b〕で、加盟国すべてが1国1票の議決権をもつ。本部は〔c〕にある。

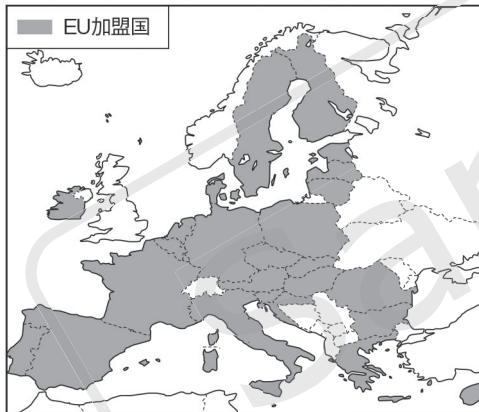
① 文中の〔a〕, 〔b〕に当てはまる語の組み合わせとして正しいものを、次のア～エから一つ選び、記号を○で囲みなさい。

- ア ① ヨーロッパ共同体      ② 総会  
 イ ① ヨーロッパ共同体      ② 安全保障理事会  
 ウ ① 国際連盟                  ② 総会  
 エ ① 国際連盟                  ② 安全保障理事会

② 文中の〔c〕に当てはまる都市名を書きなさい。

(5) 図Ⅱ中のイギリスは、国民投票によりEU(ヨーロッパ連合)から2020(令和2)年1月末に離脱した。図Ⅲは、2023年現在のEUの加盟国である。図Ⅲや資料を参考にして、EUの特徴についてまとめたあとの文中の( a )に入れるのに適した内容を、「パスポート」「移動」の二語を用いて簡潔に書きなさい。また、文中の( b )に当てはまる語を書きなさい。

図Ⅲ



資料

EU設立の目的  
 (a) 域内国境のない地域の創設、及び経済通貨統合の設立を通じて経済的・社会的発展を促進すること  
 (マーストリヒト条約B条)  
 (外務省資料)

1993年に発足したEUは、2023年現在27か国が加盟している。その設立目的に従って、EU域内のほとんどの国では、人々は( a )することができる。また、1999年には共通通貨の( b )が導入されたが、導入していない国もある。

(6) 図Ⅱ中のロシアは、世界最大の面積をもつ国である。

- ① ロシアは、ヨーロッパ州とアジア州にまたがっている。その境となる山脈名を書きなさい。  
 ② 右の写真はロシアのシベリア地域に見られる建物で、高床になっているようすが読み取れる。シベリア地域の建物が高床になっている理由を、「永久凍土」の語を用いて簡潔に書きなさい。  
 ③ ロシアに住む人々の多くが信仰している宗教を、次のア～エから一つ選び、記号を○で囲みなさい。

ア イスラム教      イ プロテスタント      ウ 仏教      エ 正教会

④ ロシアは大部分が冷帯(亜寒帯)気候で、国土には針葉樹林が広がっている。この針葉樹林は何と呼ばれているか、カタカナで書きなさい。

著作権者への配慮から、掲載を差し控えております。実際の教材には掲載されておりますのでご安心ください。

3 歴史に見られる海外との交流について、次の問いに答えなさい。

- (1) 古代の日本と大陸とのつながりについて述べた次の文中の( X ), ( Y )に当てはまる語の組み合わせとして正しいものを、あとのア～エから一つ選び、記号を○で囲みなさい。

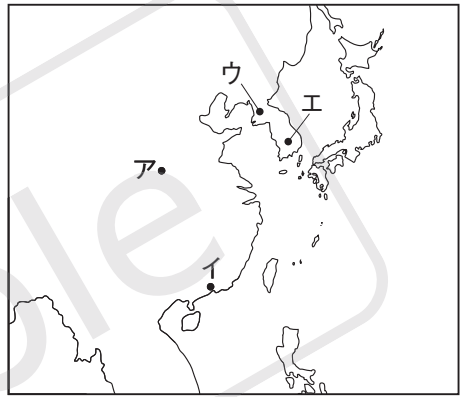
日本は、ユーラシア大陸から分かれた列島であり、古来大陸とのつながりがあった。紀元前4世紀ごろには九州北部に稲作が伝えられ、同時に右の写真のような( X )や鉄器も伝わった。3世紀の日本にあった邪馬台国のような中国の歴史書( Y )に書かれている。



大和政権(ヤマト王権)は朝鮮半島の国々とのつながりが深く、ときには兵を送ることもあった。こうした交流の中で、一族で日本に移り住む人々があり、これらの人々を渡来人と呼ぶ。

- ア X 銅鏡 Y 「魏志」倭人伝      イ X 銅鐸 Y 「魏志」倭人伝  
 ウ X 銅鏡 Y 「後漢書」東夷伝      エ X 銅鐸 Y 「後漢書」東夷伝


- (2) 奈良の平城京、京都の平安京が手本とした唐の都市はどこか、右の地図中のア～エから一つ選び、記号を○で囲みなさい。



- (3) 奈良時代には、さかんに遣唐使が送られたが、遣唐使にともなわれて来日して、のちに唐招提寺を建立した僧はだれか、書きなさい。  
 (4) 13世紀の後半に起こった元寇と呼ばれるできごとについて述べた、次の文中の下線部ア～ウのうち、誤っているものを一つ選び、記号を○で囲みなさい。また、その語と正しく直した語を書きなさい。

13世紀初めごろ、アチンギス=ハンがモンゴルを統一し帝国をつくった。のち、イフビライ=ハンは国号を元と改め、領土を広げた。元は日本に対して従うよう使者を送ってきたが、ウ北条泰時はこれを退けた。元は1274年博多湾岸に上陸、また、1281年再度襲来したが、防塁などに阻まれて上陸できなかった。

- (5) 室町時代の初めごろ、倭寇と呼ばれた西日本の武士や漁民が朝鮮や明の沿岸を襲うということが頻発した。明は倭寇の取り締まりを幕府に求め、これをきっかけに日明貿易が始まった。幕府は貿易船に、右に示した勘合という合札をもたせた。この勘合の役割は何か。「倭寇」「貿易船」の二語を用いて簡潔に書きなさい。



- (6) 次の文は、戦国時代のできごとについて述べたものである。文中の( X ), ( Y )に当てはまる語の組み合わせとして正しいものを、あとのア～エから一つ選び、記号を○で囲みなさい。

1543年、( X )人をのせた中国船が、( Y )に漂着した。この( X )人によって、日本に鉄砲が伝えられた。

- ア X スペイン      Y 種子島  
 イ X スペイン      Y 屋久島  
 ウ X ポルトガル      Y 種子島  
 エ X ポルトガル      Y 屋久島

(7) 次の(i)~(iii)は、16世紀半ばに、キリスト教が伝えられてから鎖国が完成するまでの間のできごとである。(i)~(iii)を年代の古い順に並べかえると、どのような順序になるか。あとのア~カから正しいものを一つ選び、記号を○で囲みなさい。

(i) 島原・天草一揆しまはら あまくさいつきが起こる。

(ii) 日本人の海外渡航・帰国を禁止する。

(iii) バテレン追放令が出される。

ア (i) → (ii) → (iii)      イ (i) → (iii) → (ii)      ウ (ii) → (i) → (iii)

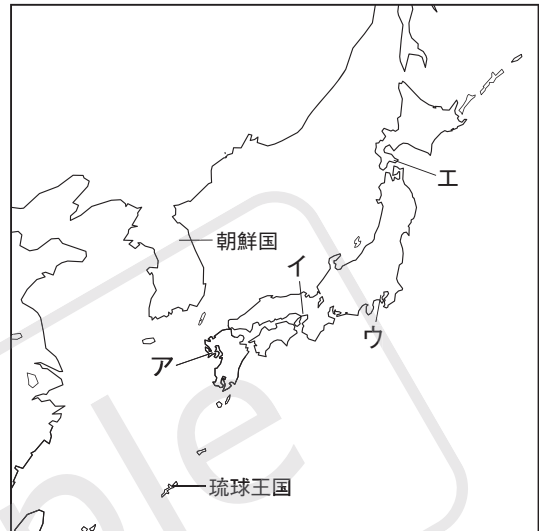
エ (ii) → (iii) → (i)      オ (iii) → (i) → (ii)      カ (iii) → (ii) → (i)

(8) 鎖国中の外国との交流は限定されていた。

① 鎖国中、オランダ・中国との貿易が行われた場所はどこか、右の地図中のア~エから一つ選び、記号を○で囲みなさい。

② 朝鮮国りゅうきゅう、琉球王国との貿易を担う藩を、次のア~エからそれぞれ一つずつ選び、記号を○で囲みなさい。

- ア 松前藩まつまえ
- イ 伊達藩だて
- ウ 対馬藩つしま
- エ 薩摩藩さつま



(9) 資料Ⅰ、Ⅱは幕末に出された法令である。幕府の方針がⅠからⅡに変わった原因の一つを、戦争の名称を用いて簡潔に書きなさい。

資料Ⅰ

異国船打払令(1825年)  
 どこの港でも、外国船が入港した場合、有無を言わず打ち払え。(中略)強引に上陸するようなら、捕まえるか打ち殺してもよい。

資料Ⅱ

薪水給与令(1842年)  
 外国船が難破して漂流し、薪や水、食料を求めてきた場合、事情を考えず打ち払っては失礼なので、ようすをみて必要な品を与え、帰るよう言い聞かせよ。

(10) 明治時代になって、新政府は近代国家をめざし、そのために国境と領土を確定し、近代的な国際関係にならおうとした。これに関して述べた次の文中の①〔 〕、②〔 〕から適切なもの一つずつ選び、記号を○で囲みなさい。

明治政府は、ロシアの進出を警戒し、蝦夷地えぞちを北海道と改め、①〔 ア 開拓使    イ 植民地 〕を設置し、屯田兵を送り込んで警備を兼ねて開発を進めた。1875年にはロシアと②〔 ウ ポーツマス条約    エ 樺太・千島交換条約 〕を結んで、国境を確定した。

(11) 第二次世界大戦後、二大国の対立が続いた時期があった。

① 第二次世界大戦後まもなく、アメリカを中心とする資本主義諸国とソ連を中心とする社会主義諸国の深刻な対立が起こった。これは、実際の戦争と対比して、何と呼ばれているか。漢字2字で書きなさい。

② 1951年、日本はアメリカなど48か国と条約を結び、独立を回復した。この条約は何と呼ばれているか、書きなさい。

4 Mさんは公民の授業で興味をもった事柄について、次のメモをつくった。これらのメモをみて、あとの問いに答えなさい。

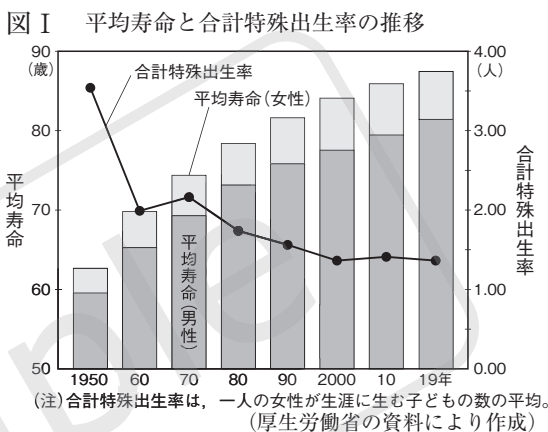
**【少子高齢化】**  
 日本では、子どもの数が減り高齢者の割合が増えていく。⑤少子高齢化が、世界でも例がないほどのハイペースで進んでいる。将来に対する⑥多くの課題が生じ、対策が急がれている。

**【グローバル化の進む世界】**  
 各国間で⑦貿易が活発に行われている。それぞれの国や地域が得意な分野の商品を生産し、貿易によってそれらを交換する⑧を通じて、各国とも利益を得ることができる。

**【日本国憲法】**  
 現在の⑨日本国憲法は、第二次世界大戦後にGHQの原案をもとにつくられ、1946年11月3日に公布された。日本国憲法には国民主権、基本的人権の尊重、平和主義という⑩三つの基本原則がある。

(1) 図Iは、日本人の平均寿命の推移と合計特殊出生率の推移を示している。⑪少子高齢化の原因の一つと考えられることを、図Iから読み取り、次の書き出しに続けて簡潔に書きなさい。

平均寿命は延び続けている一方で、  
 \_\_\_\_\_。



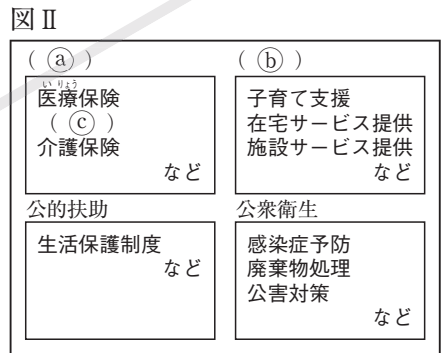
(2) ⑫多くの課題の一つに社会保障の問題がある。

① 日本の社会保障制度のようすを示した右の図II中のa, b, cに当てはまる語の組み合わせとして正しいものを、次のア～エから一つ選び、記号を○で囲みなさい。

- ア a 社会福祉 b 社会保険 c 年金保険
- イ a 社会福祉 b 年金保険 c 社会保険
- ウ a 社会保険 b 社会福祉 c 年金保険
- エ a 社会保険 b 年金保険 c 社会福祉

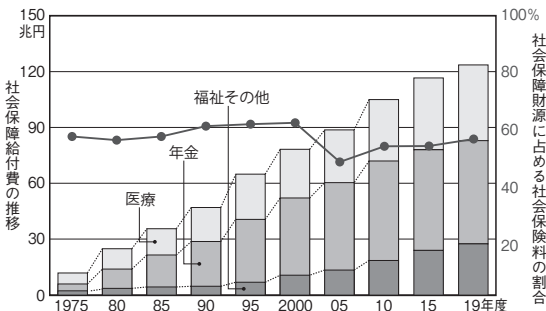
② 社会保障制度は、どの社会権にもとづくものか。次のア～エから一つ選び、記号を○で囲みなさい。

- ア 勤労の権利      イ 生存権
- ウ 労働基本権      エ 教育を受ける権利



③ 図IIIは、1975(昭和50)年度から2019(平成31/令和元)年度における社会保障給付費の推移と社会保障財源に占める社会保険料の割合、図IVは、2020(令和2)年度の社会保障財源の内訳、図Vは、1990(平成2)年度から2022(令和4)年度における歳出の経費別割合の推移を示している。図III～Vから読み取れる内容として誤っているものを、次のページのア～エから一つ選び、記号を○で囲みなさい。

図III 社会保障給付費の推移と社会保障財源に占める社会保険料の割合



図IV 社会保障財源の内訳

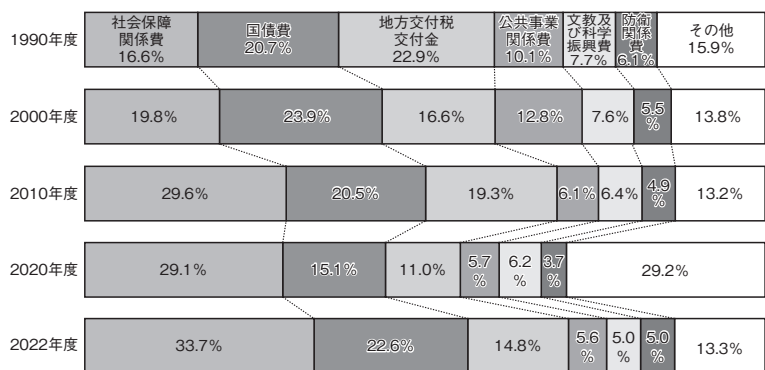
総額184兆8160億円

社会保険料 39.8%		公費負担 31.9%		その他 28.3%
被保険者 20.9%	事業主 18.9%	国 22.2%	地方 9.7%	

(図III、図IVは、国立社会保障・人口問題研究所資料により作成)



図V 歳出の経費別割合の推移



(財務省資料により作成)

- ア 社会保障給付費のうち、年金と医療費の給付額の合計は年々増加している。
- イ 2005年度以降の社会保障財源に占める社会保険料の割合は、増加傾向にある。
- ウ 歳出に占める経費のうち、社会保障関係費の割合の増加が最も大きい。
- エ 社会保障財源のうち、国による公費負担の額は45兆円をこえている。

(3) ③ 貿易には各国の通貨の違いが影響する。

- ① 貿易を行う場合に必要な、通貨と通貨を交換する比率は何と呼ばれているか、書きなさい。
- ② 円高・円安が貿易や海外旅行にもたらす影響について述べた文として正しいものを、次のア～エから一つ選び、記号を○で囲みなさい。
  - ア 円高になると、日本の輸入企業には不利だが、輸出企業には有利になる。
  - イ 日本から海外へ旅行する人にとって、円高は不利だが円安は有利になる。
  - ウ 円安になると、日本の輸入企業には不利だが、輸出企業には有利になる。
  - エ 海外から日本へ旅行する人にとって、円安は不利だが円高は有利になる。

(4) 図VIは、 ㉔ の一例を示している。図VIを参考に ㉔ に当

てはまる語を漢字4字で書きなさい。



- ドイツ <sup>どうたい</sup> 胴体と着陸フラップの製作
- フランス 操縦装置、コックピット、胴体の製作
- イギリス エンジン、主翼の製作
- スペイン <sup>びよく</sup> 水平尾翼や胴体の一部の製作

(5) ㉓ 日本国憲法では、天皇に対してどのような位置づけをしているか。天皇について記されている次の憲法の条文の ㉑、 ㉒に当てはまる語をそれぞれ書きなさい。

第1条 天皇は、日本国の ㉑ であり日本国民統合の ㉑ であつて、この地位は、主権の存する日本国民の総意に基づく。

第7条 天皇は、 ㉒ の助言と承認により、国民のために、国事に関する行為を行ふ。

(6) 憲法に規定された天皇の国事行為として誤っているものを、次のア～カからすべて選び、記号を○で囲みなさい。

- ア 国会の召集      イ 衆議院の解散      ウ 憲法改正、法律、条約などの公布
- エ 国会の指名にもとづく内閣総理大臣の任命      オ 条約の承認      カ 憲法改正の発議

(7) 右の資料は、フランス人権宣言の一部である。この内容は、㉔ 三つの基本原則のうち、どれを表しているか書きなさい。

フランス人権宣言(1789年)  
第1条 人は生まれながら、自由で平等な権利をもつ。社会的な区別は、ただ公共の利益に関係のある場合にしか設けられてはならない。

(8) ㉔ 三つの基本原則の一つにもとづき、また唯一の被爆国として日本は、「核兵器をもたず、つくり、もち込ませず」というスローガンをかかげている。これは何と呼ばれているか、書きなさい。