

学 力 検 査

社 会

(第2回)

(注意事項)

- 1 始めの指示があるまでは、開かないこと。
- 2 解答欄は、この用紙の裏面です。とりはずして使用し、答えは、全て解答用紙に書きなさい。解答用紙は、半分に折って使用してもかまいません。
- 3 検査問題は、大問8題で、1ページから14ページまで印刷されています。
検査開始後に、印刷のはっきりしないところや、ページが抜けているところがあれば、手を挙げなさい。
- 4 解答用紙だけ提出し、問題用紙は持ち帰りなさい。

学 力 検 査

社 会

問 題 用 紙

Sample

1 次の文章を読み、あとの(1)~(4)の問いに答えなさい。

現在、世界^aの中で日本は、産業^bの大きな転換期を迎えており、今までの産業を魅力のあるものにしていくとともに、新しい産業をどのように育成していくかが今後の日本経済^cの大きな課題となっています。また、海外に生産拠点を移す日本企業が増え、日本では製造業^dの生産能力の低下や雇用の減少という問題が起こっています。

- (1) 下線部 a に関連して、次の文章は、世界の平和を維持することを最大の目的として発足した国際連合(国連)について述べたものである。文章中の 、 にあてはまる適当な語を、それぞれ書きなさい。

国際連合には、現在、約190の国が加盟しており、本部はニューヨークにおかれている。また、国際連合の主な機関としては、すべての加盟国によって構成される や、5か国の常任理事国と10か国の非常任理事国によって構成される などがある。

- (2) 下線部 b に関連して、次の表は、千葉県、島根県、福岡県及び宮崎県の農業産出額、就業者総数及び就業者総数に占める産業別就業者の割合をまとめたものである。千葉県にあてはまるものはどれか。表中の A~E のうちから最も適当なものを一つ選び、その符号を書きなさい。

	農業産出額 (億円) (2019年)	就業者総数 (千人) (2015年)	就業者総数に占める産業別就業者の割合(%) (2015年)		
			第1次産業	第2次産業	第3次産業
A	3,396	519	11.0	21.1	67.9
I	612	343	8.0	23.0	69.0
U	2,027	2,254	2.9	21.2	75.9
E	3,859	2,880	2.9	20.6	76.5

(注) 産業別就業者の割合は、四捨五入の関係で内訳の合計が100%にならない場合がある。

(「日本国勢図会2021/22」より作成)

- (3) 下線部 c に関連して、次の A~U の文は、日本の経済に関するできごとについて述べたものである。それぞれのできごとを年代の古いものから順に並べ、その符号を書きなさい。

A 三井・三菱・住友・安田などの財閥が解体された。

I 大商人が株仲間という同業者組織をつくり、幕府の許可を得て営業を独占した。

U 地租改正が実施され、土地所有者が地価の3%を現金で納めることとなった。

- (4) 下線部 **d** に関連して、次の資料 1 と資料 2 は、社会科の授業で「1985年と2018年を比較した日本の工業の変化」というテーマで調べたことをまとめたレポートの一部である。資料 1 中の A～D は、輸送用機械の海外生産比率、製造品出荷額等に占める重化学工業の割合、全従業者数に占める中小規模事業所に従事する者の割合及び製造品出荷額等に占める京浜工業地帯の割合のいずれかがあてはまり、E、F は1985年、2018年のいずれかがあてはまる。資料 2 は、資料 1 から読み取ったことをまとめたものの一部である。B と C が示すものの組み合わせとして最も適当なものを、あとのア～エのうちから一つ選び、その符号を書きなさい。

資料 1 1985年と2018年を比較した日本の工業の変化

項目 \ 年	E	F
A	67.5(%)	73.3(%)
B	7.9(%)	10.5(%)
C	46.9(%)	5.3(%)
D	72.9(%)	66.1(%)

(注)

・「海外生産比率」とは、国内と現地法人の売上高の合計に対する、現地法人売上高の割合。

・「中小規模事業所」は、従業者299人以下の事業所のことである。

(「日本国勢図会2021/22」などより作成)

資料 2 資料 1 から読み取ったことをまとめたものの一部

- ・輸送用機械の海外生産比率は、1985年と2018年とを比べると、8倍以上に増加しており、輸送用機械の海外生産によって産業の空洞化が進んだことがわかる。
- ・製造品出荷額等に占める重化学工業の割合は、1985年と2018年とを比べると、約 1.1 倍に増加しており、軽工業から付加価値が高い重化学工業への移行が進んだことがわかる。
- ・全従業者数に占める中小規模事業所に従事する者の割合は、1985年と2018年とを比べると、1割程度減少しており、大規模事業所の従事者が増えたことがわかる。
- ・製造品出荷額等に占める京浜工業地帯の割合は、1985年と2018年とを比べると、8割程度に減少しており、京浜工業地帯から工場が他の工場団地に移転したことが推察される。

ア B：輸送用機械の海外生産比率

C：製造品出荷額等に占める重化学工業の割合

イ B：製造品出荷額等に占める重化学工業の割合

C：全従業者数に占める中小規模事業所に従事する者の割合

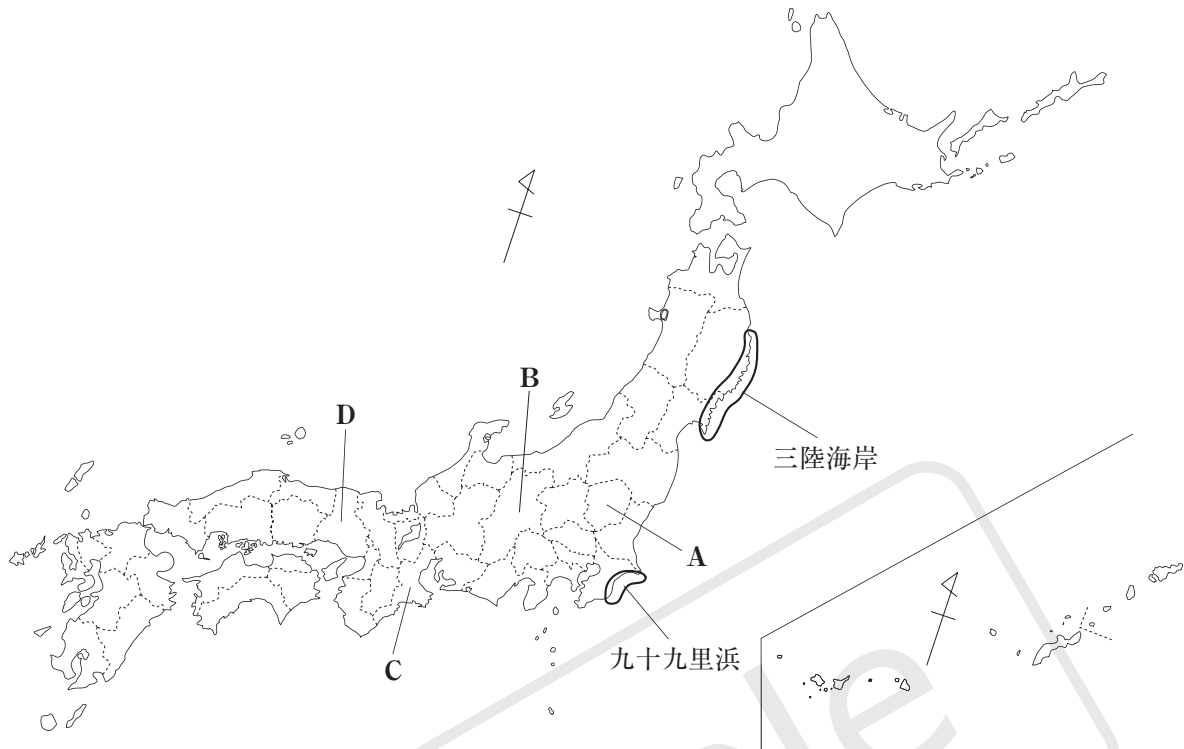
ウ B：全従業者数に占める中小規模事業所に従事する者の割合

C：製造品出荷額等に占める京浜工業地帯の割合

エ B：製造品出荷額等に占める京浜工業地帯の割合

C：輸送用機械の海外生産比率

2 次の図を見て、あとの(1)~(4)の問いに答えなさい。



- (1) 図中のA~Dの県のうち、県名と県庁所在地名が同じ県が一つある。その県名を漢字で書きなさい。
- (2) 次の表は、図中のA~Dの県及び千葉県、製造品出荷額等とそれに占める食料品、輸送用機械、化学及び鉄鋼の出荷額を示している。A~Cの県にあてはまるものはどれか。表中のア~ウのうちから最も適当なものをそれぞれ一つずつ選び、その符号を書きなさい。

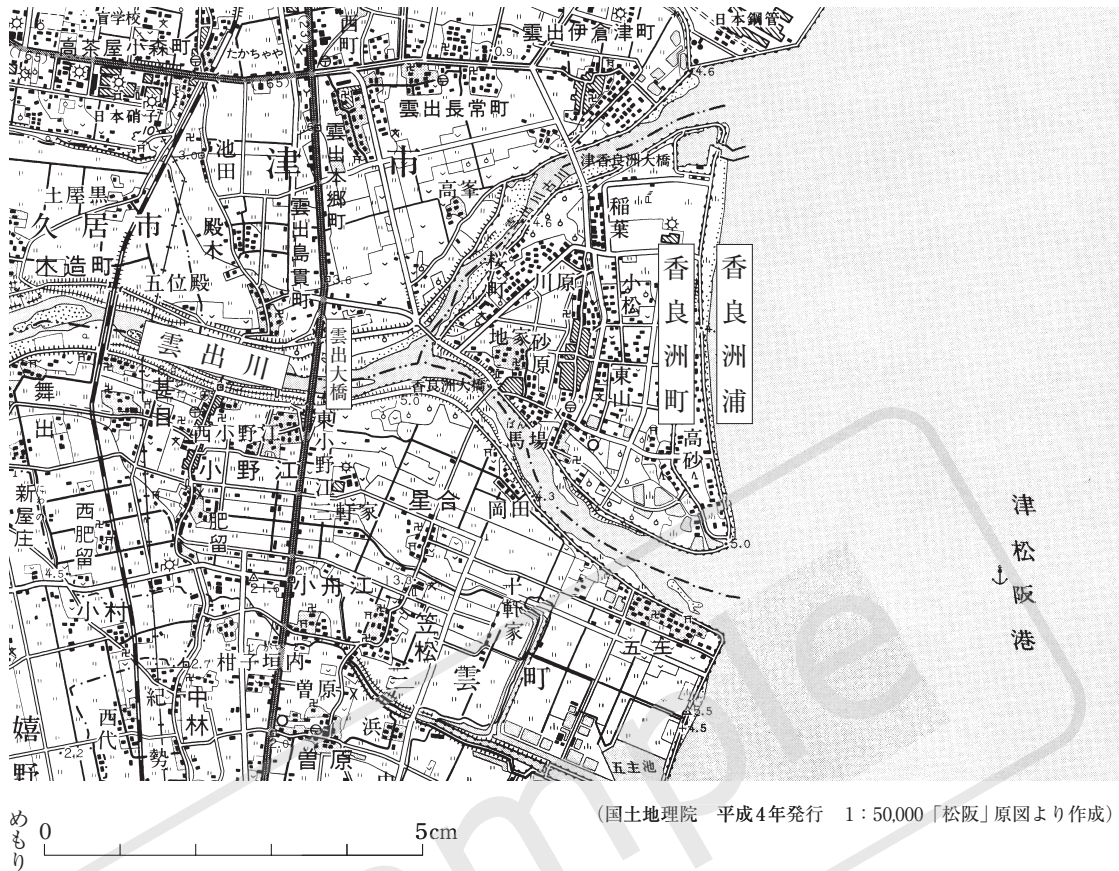
図に示した県	製造品出荷額等 (億円) (2018年)	製造品出荷額等			
		食料品	輸送用機械	化学	鉄鋼
ア	112,597	5,126	25,441	12,734	1,308
イ	92,571	6,674	14,382	6,907	2,574
ウ	65,287	5,843	4,168	1,019	562
D	166,391	17,350	17,288	22,313	19,308
千葉県	132,118	16,446	1,259	23,542	17,442

(「日本国勢図会2021/22」より作成)

- (3) 次の文章は、図中の三陸海岸と九十九里浜について述べたものである。文章中の I , II にあてはまる適当な語を、それぞれ書きなさい。

三陸海岸は、出入りが多く、複雑な海岸線になっている。このような海岸を I 海岸という。これに対して、九十九里浜は、出入りが少なく、なだらかな海岸線になっている。九十九里浜のような、一面砂におおわれた海岸を II 海岸という。

(4) 次の地形図は、前のページの図中のCの県のある地域を示したものである。これを見て、あとの①、②の問いに答えなさい。



- ① 上の地形図において、「香良洲町」のある地形のよう^{からす}に、川が運んできた土砂が河口に堆積してできた地形を何というか。その地形の名称を書きなさい。
- ② 上の地形図を正しく読み取ったことがらはどれか。次のア～エのうちから最も適当なものを一つ選び、その符号を書きなさい。
- ア 「香良洲浦」の実際の長さは、約275mである。
- イ 「雲出川」の沿岸には、田や畑のほか果樹園も見られる。^{くもす}
- ウ 「たかちや」駅から見て、「雲出大橋」は北北西の方角にある。
- エ 「香良洲町」には、郵便局や交番のほか発電所も見られる。

3 次の図1～図3を見て、あとの(1)～(5)の問いに答えなさい。ただし、一部の島や国境線は表示していません。また、三つの図の縮尺はそれぞれ異なります。なお、これらの図では経線と緯線は直角に交わり、いずれも20度間隔です。

図1

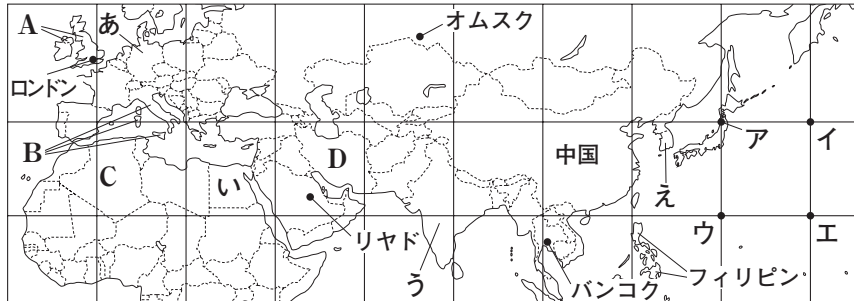


図2

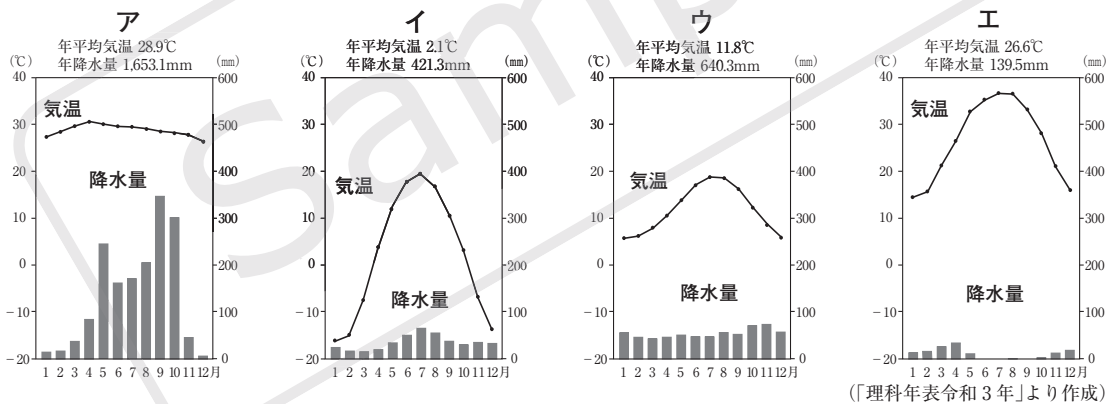


図3



(1) 図2中のXを通る経線と、図3中のYを通る緯線が交わるのはどこか。図1中のア～エのうちから最も適当なものを一つ選び、その符号を書きなさい。

(2) 次のア～エのグラフは、図1中のロンドン、リヤド、オムスク及びバンコクの月平均気温と月降水量の変化の様子を示したものである。図2中のメルボルンと同じ気候帯に属する都市のグラフはどれか。ア～エのうちから最も適当なものを一つ選び、その符号を書きなさい。



(「理科年表令和3年」より作成)

(3) 右の写真は、ヒンドゥー教徒のもくよく沐浴の様子を示したものである。図1中のあ～えの国のうち、この様子が見られる国はどれか。最も適当なものを一つ選び、また、その国が属している州の州名を書きなさい。



- (4) 右の表は、図1中のA～Dの国の2019年における面積と2020年における人口を示したものである。A～Dの国のうち、人口密度が最も高い国はどれか。最も適当なものを一つ選び、その符号を書きなさい。

	面積(万km ²)	人口(万人)
A	24	6,789
B	30	6,046
C	238	4,385
D	163	8,399

(「日本国勢図会2021/22」より作成)

- (5) 次の資料は、図1中の中国、フィリピン、図2中のオーストラリア及び図3中のアメリカ合衆国の総発電量1kWhあたり二酸化炭素排出量、総発電量及び化石燃料による発電量を示したものである。資料から読み取れることとして最も適当なものを、あとのア～エのうちから一つ選び、その符号を書きなさい。

資料 中国、フィリピン、オーストラリア及びアメリカ合衆国の総発電量1kWhあたり二酸化炭素排出量、総発電量及び化石燃料による発電量

国名	2000年			2017年		
	総発電量 1kWhあたり 二酸化炭素 排出量 (g-CO ₂)	総発電量 (億kWh)	化石燃料 による 発電量 (億kWh)	総発電量 1kWhあたり 二酸化炭素 排出量 (g-CO ₂)	総発電量 (億kWh)	化石燃料 による 発電量 (億kWh)
中国	897	13,557	11,134	623	66,349	46,783
フィリピン	501	453	259	669	944	712
オーストラリア	852	2,102	1,923	743	2,580	2,176
アメリカ合衆国	626	40,527	28,823	421	42,864	26,915

(「世界国勢図会2020/21年版」より作成)

- ア 「総発電量1kWhあたり二酸化炭素排出量」が2000年に比べて2017年は増加したフィリピンは、「総発電量」に対する「化石燃料による発電量」の割合は2000年に比べて2017年は減少している。
- イ 「総発電量」が2000年に比べて2017年は4倍以上に増加した中国は、「化石燃料による発電量」も4倍以上に増加している。
- ウ 2000年の「総発電量」が4か国中で最も多いアメリカ合衆国は、2000年の「総発電量」に対する「化石燃料による発電量」の割合は4か国中で2番目に高い。
- エ 「化石燃料による発電量」が2000年に比べて2017年は増加したオーストラリアは、「総発電量1kWhあたり二酸化炭素排出量」「総発電量」ともに、2000年に比べて2017年は増加している。

- 4 社会科の授業で、あるグループが「日本の農業の歴史」について調べました。そのときの、生徒 A～E の会話を読み、あとの(1)～(5)の問いに答えなさい。

- A 紀元前4世紀ごろ、大陸（主に朝鮮半島）から渡来した人々によって、稲作が九州北部に伝えられ、やがて東日本にまで広まったらしいよ。
a
- B 奈良時代には、鉄製の農具が広まり、稲の収穫量が増えたけど、自然の災害で田が荒れることが多く、人口も増加したため、743年に壘田永年私財法が出され、新しく開墾した土地（壘田）は、いつまでも自分の土地にしてよいことになったんだってね。
b
- C 鎌倉時代になると、西日本で米の裏作に麦をつくる二毛作も行われるようになり、寺社の門前や交通の便利なところで定期市が開かれるようになったんだよね。
c
- D 室町時代には、農村では有力な農民の指導のもとで、村ごとに惣とよばれる新しい自治的な組織がつけられたらしいよ。
d
- E 江戸幕府の8代将軍徳川吉宗は、享保の改革を行い、農民が納める年貢の率の引き上げを図ったりしたんだってね。
e

- (1) 下線部 a に関連して、このころの日本の社会の様子について述べた文はどれか。次のア～エのうちから最も適当なものを一つ選び、その符号を書きなさい。

- ア 中国にならって和同開珎わいどうかいじんという貨幣かいほうが発行され、都の市では、各地から都に送られてきた産物が売買された。
- イ 縄文土器とよばれる表面に縄目のような文様もんようがついている土器がつけられるようになった。
- ウ 大陸から漢字が伝えられ、渡来人の中には、漢字を使って日本の朝廷の記録を作成する者もいた。
- エ 青銅器や鉄器などの金属器が伝わり、弥生土器とよばれる新しい上質の土器がつけられるようになった。

- (2) 下線部 b に関連して、この法令が出されたあとの結果について述べた文はどれか。次のア～エのうちから最も適当なものを一つ選び、その符号を書きなさい。

- ア 幕府や藩は、土地の開墾に力をそそぎ、海や沼地などを干拓したりして、大規模な新田を開拓した。
- イ 土地の開墾に牛馬が利用され、さらに草や木の灰が肥料として使われるようになった。
- ウ 地頭になった武士が土地や農民を勝手に支配することが多くなった。
- エ 貴族・寺院や郡司などは、周りの農民を使って盛んに開墾を行い、私有地を広げた。

(3) 下線部 c に関連して、この時代に起こったことがらを、次のア～エのうちから三つ選び、年代の古いものから順に並べ、その符号を書きなさい。

ア 幕府は御家人の窮状を救おうと、御家人の借金を帳消しにする永仁の徳政令を出したが、あまり効果が上がらず、幕府への反感は強まった。

イ 元と高麗の連合軍が対馬、壱岐を経て博多湾岸に上陸し、集団戦法と優れた火器により、日本軍を苦しめたが、引き上げた。

ウ 有力な守護大名の細川氏と山名氏の対立に、将軍や管領の後継ぎ問題が絡み、京都で応仁の乱がおこり、11年間続いた戦乱で京都は焼け野原になった。

エ 後鳥羽上皇は朝廷の勢力回復をねらい挙兵したが、幕府側が勝利し、京都に朝廷の監視や西国の御家人を統制するために六波羅探題がおかれた。

(4) 下線部 d に関連して、次の文章は、この時代に世界で起こったことがらについて述べたものである。文章中の にあてはまる適当な語を漢字 4 字で書きなさい。

カトリック教会による免罪符の販売に抗議し、「聖書だけが信仰のよりどころだ」としてドイツでルターが、フランスやスイスでカルバンが を始めた。その考えはオランダやイギリス、のちにアメリカに広まった。これに対してカトリック教会内部でも立て直しをはかる動きが起こった。

(5) 下線部 e に関連して、次の資料は、1649年に江戸幕府が農民に出したと伝えられている百姓の生活心得の一部を示したものであり、あとの文は、この百姓の生活心得について述べたものである。文中の にあてはまる適当なことばを、「農民」「确实」の二つの語を用いて15字以内（読点を含む。）で書きなさい。

資料 百姓の生活心得（部分要約）

- 一 朝は早く起きて草をかり、昼は田畑の耕作をし、晩には縄をない、俵を^{たわら}あみ、それぞれの仕事に気をぬくことなくはげむこと。
- 一 酒や茶を買って飲まないようにせよ。
- 一 百姓は雑穀^{ざっこく}を食べ、米を多く食いつぶさぬようにせよ。
- 一 百姓の衣類は、麻^{あさ}や木綿^{もめん}に限る。

資料を見ると、農民の生活が細かく規制されているが、幕府がこのように農民の生活を細かく規制したのは、 であった。

5 次の略年表を見て、あとの(1)~(5)の問いに答えなさい。

年 代	主 な で き ご と
1858	日米修好通商条約が結ばれた …………… A
1871	岩倉使節団が欧米に向けて出発した …………… B
1912	第一次護憲運動が起こった ……………
1920	日本が国際連盟に加盟した
1923	関東大震災が起こった ……………
1939	第二次世界大戦が始まった …………… D
1945	第二次世界大戦が終わった ……………
1965	日韓基本条約が結ばれた
1978	日中平和友好条約が結ばれた ……………

(1) 略年表中のAに関連して、次の文章は、開国後に起こったあるできごとについて述べたものである。文章中の にあてはまる最も適当な語を、あとのア~エのうちから一つ選び、その符号を書きなさい。

大老の井伊直弼は、開国に反対した大名や武士、公家を処罰し、外国の勢力を排除しようとする攘夷論を唱えた長州藩の吉田松陰らを処刑した。このできごとを という。

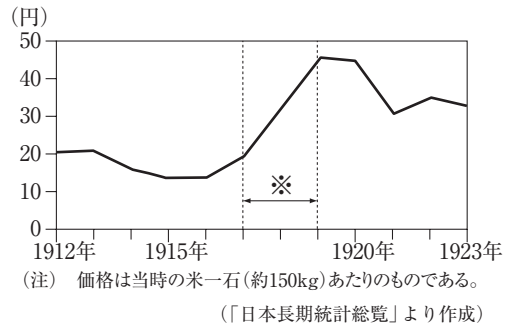
- ア 蛮社の獄 イ 桜田門外の変 ウ 安政の大獄 エ 秩父事件

(2) 略年表中のBに関連して、右の写真は、岩倉使節団を撮影したものである。写真中のW~Zの人物について述べた文として最も適当なものを、次のア~エのうちから一つ選び、その符号を書きなさい。

著作権者への配慮から、掲載を差し控えております。実際の教材には掲載されておりますのでご安心ください。

- ア Wの人物は、西郷隆盛であり、帰国後、朝鮮に対して武力で開国をせまる征韓論を主張した。
- イ Xの人物は、岩倉具視であり、帰国後、政府に対して民撰議院設立の建白書を提出し、国会の開設を求めた。
- ウ Yの人物は、大隈重信であり、帰国後、憲法の即時制定と国会の早期開設という急進的な主張をしたため、政府から追放された。
- エ Zの人物は、大久保利通であり、帰国後、政府の中心となり、殖産興業をはじめとする近代化政策をおし進めた。

(3) 略年表中のCに関連して、右のグラフは、この期間における日本の米の価格の変化を示したものである。また、次の文章は、米の価格が急上昇した原因とその結果について述べたものである。文章中のⅡ～Ⅲにあてはまる語の組み合わせとして最も適当なものを、あとのア～エのうちから一つ選び、その符号を書きなさい。



ロシア革命の影響を防ぐために、日本はⅠに出兵を行った。すると、この出兵を予想した商人が米を買い占めたため、グラフ中の※の期間に米の価格が急上昇した。この結果、Ⅱ県からⅢとよばれる民衆の暴動が起こった。

- ア Ⅰ：シベリア Ⅱ：富山 Ⅲ：米騒動
- イ Ⅰ：シベリア Ⅱ：群馬 Ⅲ：打ちこわし
- ウ Ⅰ：満州 Ⅱ：富山 Ⅲ：打ちこわし
- エ Ⅰ：満州 Ⅱ：群馬 Ⅲ：米騒動

(4) 略年表中のDに関連して、次の文章は、第二次世界大戦に至るまでの過程について述べたものである。文章中の□にあてはまる適当なことを、「ソ連」「ポーランド」の二つの語を用いて25字以内(読点を含む。)で書きなさい。

ヒトラー率いるナチス・ドイツは、オーストリアやチェコスロバキア西部を併合し、その後、□。これに対し、イギリスとフランスがドイツに宣戦布告し、第二次世界大戦が始まった。

(5) 略年表中のEの期間の日本のことがらを、次のア～エのうちから三つ選び、年代の古いものから順に並べ、その符号を書きなさい。

- ア 日ソ共同宣言が結ばれ、日本の国際連合加盟が実現した。
- イ 小泉純一郎首相が北朝鮮を訪問し、日朝^{ピョンヤン}平壤宣言を結んだ。
- ウ 第四次中東戦争の影響により、石油危機が起こった。
- エ GHQの民主化政策の一環として農地改革が始まった。

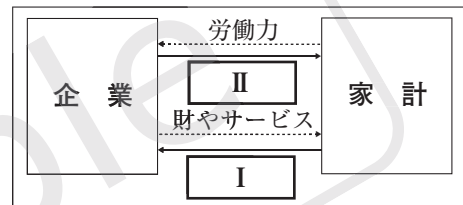
6 次の文章を読み、あとの(1)~(3)の問いに答えなさい。

一国の経済には、経済の主体(単位)として企業・家計・政府の三つがあり、これらが互いに^a関連し合っています。家計が購入する商品やサービスの多くは企業によって生産・販売されています。企業には、私企業と公企業があり、私企業には会社や個人の企業などがあります。会社形態のうち代表的なものが^b株式会社です。

日本のような資本主義経済では、生産活動が活発になったり沈滞したりすることがあり、景気が変動します。この景気の変動を調整したり、国民生活を向上させたりするために政府は、^c公共的なものやサービスを提供することだけではなく、財政支出や税金を増減したり、日本銀行を通じて通貨量の調節をしたりすることなどによって経済活動の調整に努めています。また、経済活動にともなう弊害を防ぐため、法律に基づいてさまざまな規制や保障を行っています。

(1) 下線部 a に関連して、右の資料 1 は、企業と家計の **資料 1**

お金の流れについて示したものであり、次の文章は、資料 1 をもとに、企業と家計のお金の流れについて説明したものである。文章中の **I**、**II** にあてはまる適当な語を、それぞれ漢字 2 字で書きなさい。

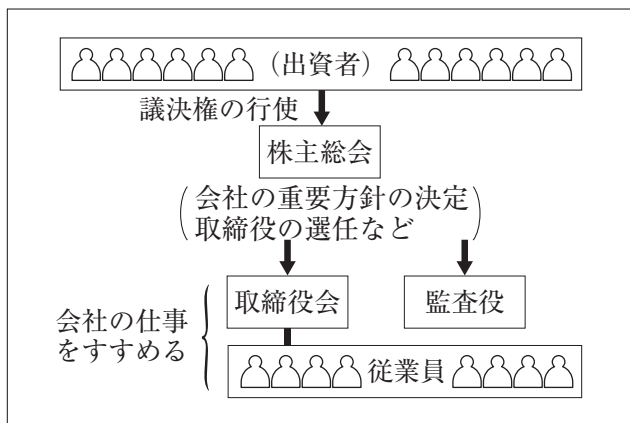


(注) →はお金の流れを示している。

企業は、生産した財やサービスを家計に供給して、その **I** を受け取る。一方、家計は、企業に労働力を供給する対価として **II** を受け取る。

(2) 下線部 b に関連して、次の資料 2 は、株式会社のしくみを簡略に示したものである。この株式会社は、資金をより多く集めるうえで、他の企業形態に比べて有利である。その理由を、「資金」「株式」の二つの語を用いて35字以内(句読点を含む。)で書きなさい。

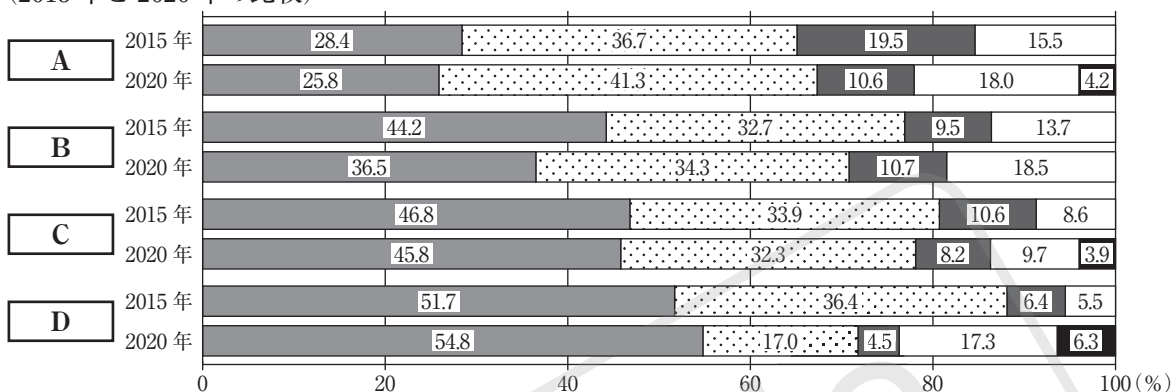
資料 2



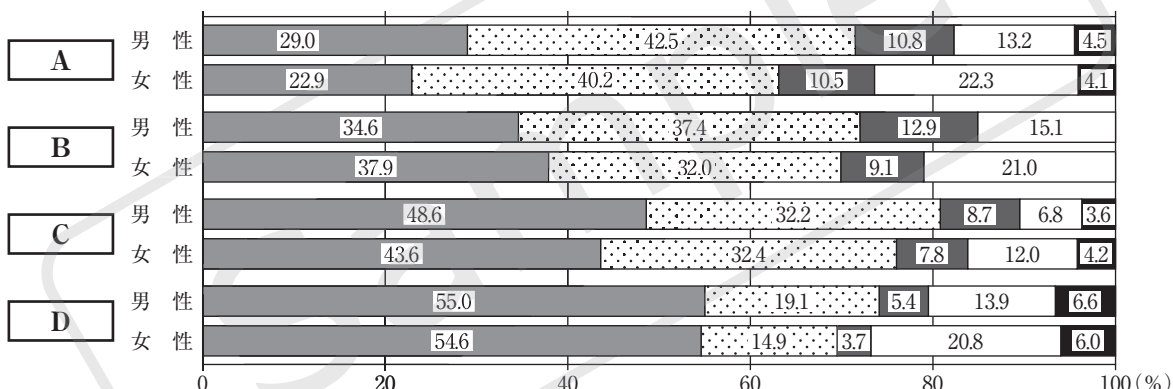
(3) 下線部 c に関連して、次の資料 3 は社会保障制度の水準や負担の在り方について、日本と諸外国の高齢者の意識を調査した結果の一部であり、資料 4 は、資料 3 から読み取ったことがらをまとめたものである。資料 3 中の **A** ~ **D** には、それぞれ共通した国名があてはまる。これらのうち、**A** と **D** にあてはまる国名の組み合わせとして最も適当なものを、あとのア~エのうちから一つ選び、その符号を書きなさい。

資料 3 社会保障制度の水準や負担の在り方

(2015 年と 2020 年の比較)



(性別による比較)



■ 負担を増やすことになっても、水準は向上させるべき ■ 負担を増やすことになっても、水準は維持すべき
 ■ 負担を増やさないように、水準は下がってもやむを得ない □ わからない ■ 無回答

(注) 四捨五入の関係で、合計しても 100%にならない場合がある。

(内閣府「第 9 回高齢者の生活と意識に関する国際比較調査」より作成)

資料 4 資料 3 から読み取ったことがらをまとめたもの

・ 2015年と2020年を比較すると、「負担を増やすことになっても、水準は向上させるべき」と回答した者の割合が最も減少した国はアメリカ合衆国であり、「負担を増やさないように、水準は下がってもやむを得ない」と回答した者の割合が最も減少した国は日本である。

・ 性別を比較すると、「負担を増やすことになっても、水準は維持すべき」と回答した男性と女性の差が最も少ない国はドイツであり、「負担を増やすことになっても、水準は向上させるべき」と回答した男性と女性の差が最も少ない国はスウェーデンである。

ア A : 日本 D : アメリカ合衆国 イ A : 日本 D : スウェーデン

ウ A : ドイツ D : アメリカ合衆国 エ A : ドイツ D : スウェーデン

- 7 社会科の授業で、みなさんの班は、基本的人権について調べました。みなさんの班がまとめた次の文章を読み、あとの(1)~(3)の問いに答えなさい。

日本では、明治時代にヨーロッパで発展した人権思想が持ちこまれ、ヨーロッパの法制度を手本にして近代化がすすめられました。そして、1889年に大日本帝国憲法が制定されました。この憲法では、天皇を主権者として、人権は、天皇が恩恵によって与えた「臣民の権利」であるとされ、いくつかの自由や権利を認めていましたが、法律によって制限されるものとされていました。

これに対して、第二次世界大戦後に制定された日本国憲法では、国民を主権者とし、人権は、侵すことのできない永久の権利と明記するなど、人権の保障をいちじるしく強化しています。例えば、誰もが自由に人間らしく生きていくことができるように、平等権、自由権、社会権、参政権などの基本的人権を保障しています。このように日本国憲法では、公共の福祉に反しない限り、基本的人権を最大限に尊重しています。

- (1) 下線部 a に関連して、次の文章は、人権思想の発展にかかわったヨーロッパの思想家について述べたものである。文章中の ~ にあてはまる人物名の組み合わせとして最も適当なものを、あとのア~エのうちから一つ選び、その符号を書きなさい。

イギリスの思想家であった は、「統治二論」を著して民主政治を説いた。フランスの思想家であった は、「法の精神」を著して三権分立を説き、同じくフランスの思想家であった は、「社会契約論」を著して人民主権を説いた。彼らの人権思想は、近代の市民革命を強力に支えるものであった。

- ア X：ロック Y：モンテスキュー Z：ルソー
 イ X：ルソー Y：モンテスキュー Z：ロック
 ウ X：ロック Y：ルソー Z：モンテスキュー
 エ X：ルソー Y：ロック Z：モンテスキュー

- (2) 下線部 b に関連して、日本国憲法第14条では、次のように述べている。文中の にあてはまる適当な語を書きなさい。

すべて国民は、 の下に平等であって、人種、信条、性別、社会的身分又は門地により、政治的、経済的又は社会的関係において、差別されない。

- (3) 下線部 c に関連して、次の文は、参政権の一つである国民審査について述べたものである。文中の にあてはまる適当な語を、あとのア~エのうちから一つ選び、その符号を書きなさい。

国民審査は、 が適任かどうかを国民が直接投票で審査する制度であり、任命後最初の衆議院議員総選挙の際に行われ、その後も10年経た後の総選挙の際に行われる。

- ア 一般の公務員 イ 都道府県知事 ウ 下級裁判所の裁判官 エ 最高裁判所の裁判官

8 次の文章を読み、あとの(1)、(2)の問いに答えなさい。

現代の世界では、地域としてまとまることにより、経済活動や他の様々な問題について、互いに協力しやすくするしくみがつくられています。一方で、先進工業国と発展途上国の経済格差や発展途上国同士の間の経済格差が広がり、発展途上国の貧困問題は深刻化しています。

- (1) 下線部 a に関連して、次の表は、EU (ヨーロッパ連合)、USMCA (アメリカ合衆国・メキシコ・カナダ協定)、ASEAN (東南アジア諸国連合) の人口、国内総生産及び日本との貿易額を示したものである。表中の I ~ III にあてはまる組織の略称の組み合わせとして最も適当なものを、あとのア~エのうちから一つ選び、その符号を書きなさい。

	人口 (万人) (2020年)	国内総生産 (億ドル) (2019年)	日本との貿易額 (億円) (2020年)
I	44,525	156,303	142,502
II	66,730	31,554	205,075
III	49,768	244,312	234,508

(「日本国勢図会 2021/22」より作成)

- ア I : EU II : USMCA III : ASEAN
 イ I : ASEAN II : EU III : USMCA
 ウ I : EU II : ASEAN III : USMCA
 エ I : ASEAN II : USMCA III : EU

- (2) 下線部 b に関連して、次の文章は、発展途上国がかかえる貧困問題の解決に向けた取り組みについて述べたものである。文章中の にあてはまる適当な語をカタカナで書きなさい。

発展途上国がかかえる貧困問題の解決に向けた取り組みとして、生産者の自立を支援するために、生産した農産物や製品を適正な価格で取り引きするフェアトレードや、発展途上国の貧しい人々の起業を支援するために、無担保で少額の融資を行う などがある。