

標準時間/表・裏各20分

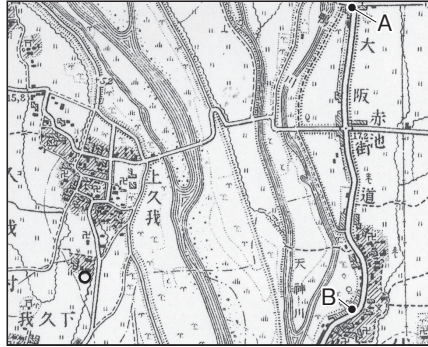
(25点-各5点)

1

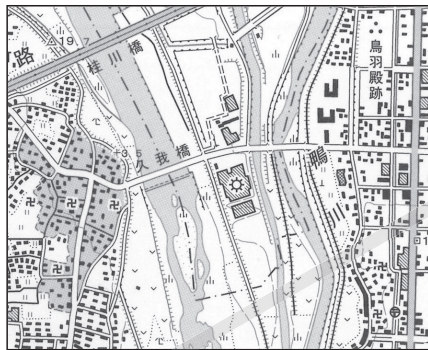
次の地図や資料などを見て、あとの問いに答えなさい。

(1) 右の地図1, 2は、それぞれ1932年, 2006年に発行された、同じ場所の地形図の一部である。これを見て、次の問いに答えなさい。

地図1 1932年の地形図



地図2 2006年の地形図



(国土地理院発行 2万5千分の1地形図「京都西南部」より)

① 地図1中のAとBの間の地形図上の長さは約4.0cmである。実際の距離として適当なものを、次のア~エから1つ選び、記号で答えなさい。

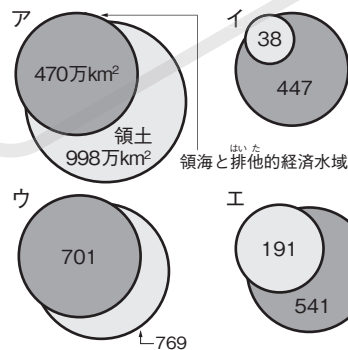
- ア 125m
- イ 500m
- ウ 1000m
- エ 1500m

② 地図1と地図2を比較して読み取れる変化として最も適当なものを、次のア~エから1つ選び、記号で答えなさい。

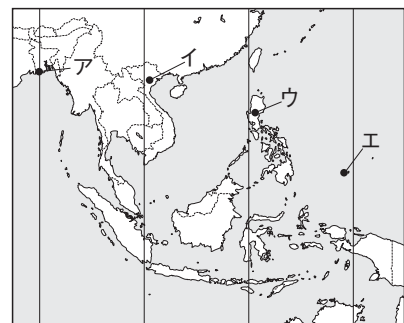
- ア 地図1で役場がある場所に、地図2では役場がない。
- イ 地図1で大阪街道の東側で家屋のある場所は、地図2では畑になっている。
- ウ 地図2で史跡のある場所に、地図1でも史跡がある。
- エ 地図2で桂川橋をわたる道路が通る場所は、地図1では果樹園になっている。

(2) 右の資料は、主な国の領海・排他的経済水域と領土の面積を表したものである。日本にあてはまるものを、ア~エから1つ選び、記号で答えなさい。

資料



地図

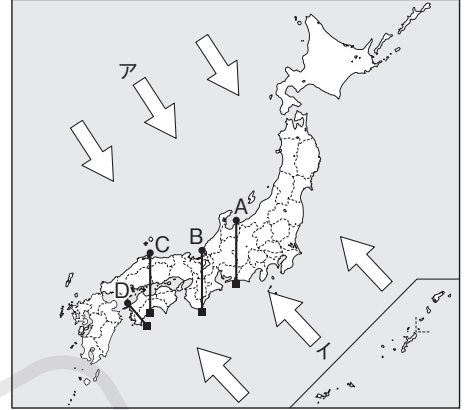


(3) よしお君は夏休みに右の地図中の地域に旅行した。そのとき、日本時間の午前10時15分に成田空港を出発した飛行機は5時間5分の飛行のあと、現地時間の午後1時20分に目的地の空港に着いた。よしお君の着いた空港として最も適当なものを地図中のア~エから1つ選び、記号で答えなさい。

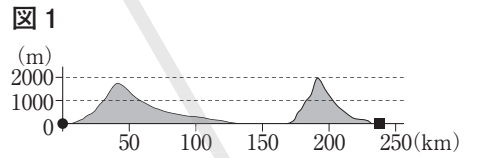
2

次の地図などを見て、あとの問いに答えなさい。

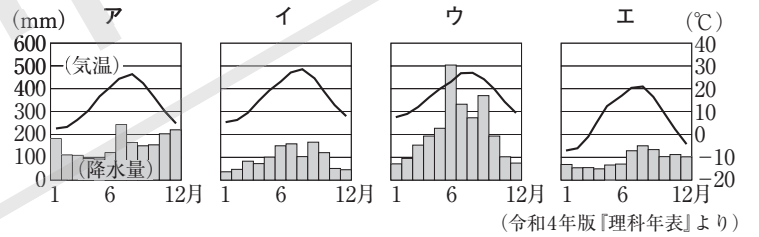
(1) 地図中のア, イの矢印は季節風の向きを示したものである。冬の季節風の風向を選び、記号で答えなさい。



(2) 図1は、地図中のA~Dのいずれかの断面図である。図1にあてはまるものを、地図中のA~Dから1つ選び、記号で答えなさい。



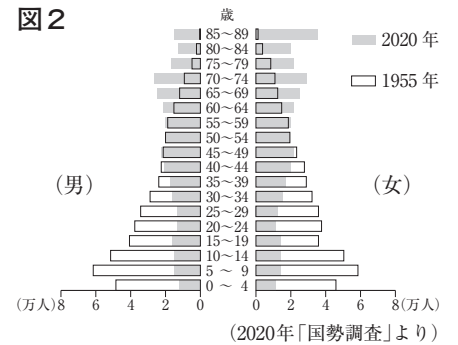
(3) 次のグラフは、それぞれ、北海道の気候の特徴をもつ旭川市、日本海側の気候の特徴をもつ新潟市、瀬戸内の気候の特徴をもつ高松市、太平洋側の気候の特徴をもつ宮崎市のいずれかの気温と降水量を表したものである。高松市にあたるものをア~エから1つ選び、記号で答えなさい。



(4) 右の写真に見られるような、河川が山地から平地に流れ出たところに形成される特徴のある地形を何というか、書きなさい。



(5) 図2は、鳥根県の1955年と2020年の年齢別人口構成を比較したものである。これについて説明した文として、最も適当なものを、次のア~エから1つ選び、記号で答えなさい。



- ア 2020年の総人口は、1955年より増加している。
- イ 40歳代の人口は、1955年より2020年のほうが多い。
- ウ 1955年に人口が最も多いのは、5~9歳である。
- エ 70~74歳の人口は、1955年が2020年の2倍である。

標準時間/表・裏各20分

(24点-各3点, (6)6点)

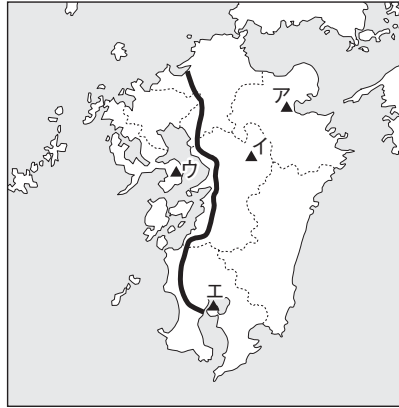
3

次の地図などを見て、あとの問いに答えなさい。

(26点-各4点, (5)6点)

- (1) 地図1中の▲はおもな火山を示している。このうち阿蘇山にあてはまるものを地図1中のア～エから1つ選び、記号で答えなさい。

地図1



Blank box for answer to Q3.1

- (2) 地図1中の——は、九州新幹線の経路を示している。太線がかかる4つの県の組み合わせとして適当なものを、次のア～エから1つ選び、記号で答えなさい。

- ア 福岡県・佐賀県・熊本県・鹿児島県
- イ 佐賀県・大分県・宮崎県・鹿児島県
- ウ 長崎県・佐賀県・熊本県・鹿児島県
- エ 福岡県・大分県・熊本県・宮崎県

Blank box for answer to Q3.2

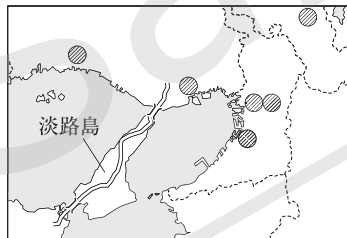
- (3) 次の文の [] にあてはまる語を書きなさい。

瀬戸内海をはじめ各地で、漁業の重点は「とる漁業から育てる漁業へ」移りつつある。養殖業（養殖漁業）や、人工ふ化させた稚魚を放流して育てる [] 漁業に力が入られている。

[] 漁業

- (4) 近畿地方の一部を拡大した地図2中の二は、本州と四国とを結ぶ橋を示したものである。この橋が接続している四国の県名を書きなさい。

地図2



Blank box for answer to Q3.4

- (5) 地図2中の●は人口50万人以上の都市を表している。また、地図2中の淡路島では、近郊農業が行われている。近郊農業とはどのような農業か、「都市、出荷」の2語を用いて簡単に書きなさい。

Blank box for answer to Q3.5

- (6) 右の表は、大阪府の昼間人口と夜間人口(2015年)を表したものである。これについて述べた次の文中の [A]

昼間人口	夜間人口
9224千人	8839千人

(2021年版「データでみる県勢」より)

[B] にあてはまる語の組み合わせとして最も適当なものを、下のア～エから1つ選び、記号で答えなさい。

表によると、夜間人口に対する昼間人口の比率が100%を [A] いるので、大阪府から他の府県への通勤・通学者数よりも、他の府県から大阪府への通勤・通学者数のほうが [B] ことがわかる。

- ア A:下回って B:少ない
- イ A:上回って B:多い
- ウ A:上回って B:少ない
- エ A:下回って B:多い

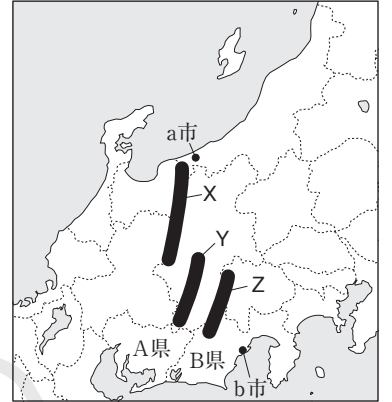
Blank box for answer to Q3.6

4

次の地図などを見て、あとの問いに答えなさい。

- (1) 地図1中のa市とb市を結ぶ線を含む、日本列島を東日本と西日本に分ける地溝帯を何というか、書きなさい。

地図1



Blank box for answer to Q4.1

- (2) 地図1中のA県やB県が含まれる工業地帯・地域で最も生産が盛んなものとして適当なものを、次のア～エから1つ選び、記号で答えなさい。

- ア 機械 イ 金属
- ウ 化学 エ 食料品

Blank box for answer to Q4.2

- (3) 地図1中のX～Zの山脈名の組み合わせとして適当なものを、次のア～エから1つ選び、記号で答えなさい。

	X	Y	Z
ア	あかいし 赤石山脈	ひだ 飛驒山脈	きそ 木曾山脈
イ	飛驒山脈	木曾山脈	赤石山脈
ウ	木曾山脈	赤石山脈	えちご 越後山脈
エ	越後山脈	木曾山脈	飛驒山脈

Blank box for answer to Q4.3

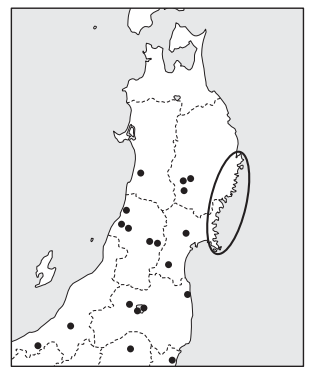
- (4) 関東地方の冬の気候について述べた文として最も適当なものを、次のア～エから1つ選び、記号で答えなさい。

- ア 晴天が多く、かわいた北西の季節風がよく吹く。
- イ 晴天が多く、かわいた南東の季節風がよく吹く。
- ウ 雨が多く、しめった北西の季節風がよく吹く。
- エ 雨が多く、しめった南東の季節風がよく吹く。

Blank box for answer to Q4.4

- (5) 東北地方には、空港や高速道路などが整備されて、1970年代以降新しい工業地域が形成された。地図2中に●で示した工場で生産される製品として最も適当なものを、次のア～エから1つ選び、記号で答えなさい。

地図2



(2020/21年版「日本国勢図会」より)

- ア 鉄鋼 イ 石油化学製品
- ウ 船舶 エ IC〔集積回路〕

Blank box for answer to Q4.5

- (6) 地図2中の○の海岸部では、わかめやかきの養殖がさかんであるが、この地域でわかめやかきの養殖がさかんな理由を、海岸の地形名を含めて簡単に書きなさい。

Blank box for answer to Q4.6

- (7) 北海道には、古くから、独自の言葉と文化をもつ先住民族が暮らしてきた。この先住民族は何とよばれるか、書きなさい。

[] 民族