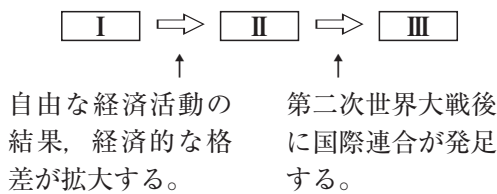


71 人権思想

〈千葉〉

人権に関連して、右の文は、こうたさんが、人権思想の発展についてまとめたレポートの一部である。図中の□Ⅰ～□Ⅲにあてはまる文として最も適当なものを、次のア～ウのうちからそれぞれ一つずつ選び、その符号を書きなさい。

ア 国王が支配する専制的な政治が、市民革命によって倒され、表現の自由や信仰の自由などの自由権、身分制度を否定する平等権が保障される。



左の図は、人権思想がどのように発展したのかを示しており、私たちのもつ基本的人権は、長い歴史の中で獲得されたものです。

イ すべての人に、人権があることを明記した世界人権宣言が採択され、各国における人権保障の基準となる。
ウ すべての人が、人間らしく生活できるように保障することも国家の役割だと考えられ、社会権が認められるようになる。

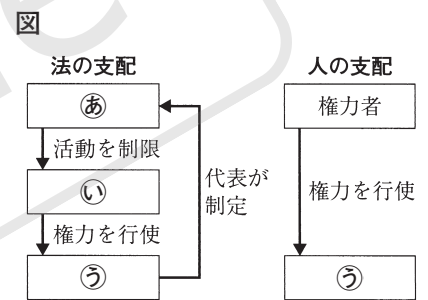
Ⅰ		Ⅱ		Ⅲ	
---	--	---	--	---	--

72 立憲主義・日本国憲法・基本的人権

〈静岡〉

国の権力と国民の関係に関する(1)～(3)の問いに答えなさい。

頻(1) 図は、「法の支配」と「人の支配」のしくみを表したものである。権力者が思うままに権力を行使する「人の支配」では、国民は自由な生活をうばわれるおそれがあるため、政治は「法の支配」に基づいて行われる必要がある。図の㉔～㉚に当てはまる語として正しい組み合わせを、次のア～カの中から一つ選び、記号で答えなさい。



- | | |
|-----------------|-----------------|
| ア ㉔ 国民 ㉚ 政府 ㉚ 法 | イ ㉔ 国民 ㉚ 法 ㉚ 政府 |
| ウ ㉔ 政府 ㉚ 国民 ㉚ 法 | エ ㉔ 政府 ㉚ 法 ㉚ 国民 |
| オ ㉔ 法 ㉚ 国民 ㉚ 政府 | カ ㉔ 法 ㉚ 政府 ㉚ 国民 |

必(2) 日本の政治では、国の権力のうち、立法権を国会、行政権を内閣、司法権を裁判所が担当し、相互に抑制し合い均衡を保つしくみがとられている。このしくみは何とよばれるか。その名称を書きなさい。

(3) 請求権(国務請求権)は、国民の権利が侵害されたり、不利益な扱いを受けたりしたときに、国に対して一定の行いをすることを求める権利である。日本国憲法が保障する請求権に当たるものを、次のア～エの中から一つ選び、記号で答えなさい。

- | | |
|------------|------------|
| ア 選挙権 | イ 環境権 |
| ウ 教育を受ける権利 | エ 裁判を受ける権利 |

(1)		(2)		(3)	
-----	--	-----	--	-----	--

73 日本国憲法

〈広島〉

人権と日本国憲法に関して、あとの(1)、(2)に答えなさい。

(1) 右の文章は、日本国憲法施行の翌年に発行された、中学生や高校生が民主主義について学ぶための教科書である「民主主義」の一部です。次のア～エ

政治のうえでは、万事の調子が、「なんじ臣民」から「われら国民」に変わる。国民は、自由に選ばれた代表者をとおして、国民自らを支配する。国民の代表者は、国民の主人ではなくて、その公僕である。

のうち、この文章の内容について述べたものとして最も適切なものはどれですか。その記号を書きなさい。

- | | |
|----------------------|----------------------|
| ア 法の下での平等が掲げられたこと | イ 平和主義が掲げられたこと |
| ウ 国民主権の考え方が取り入れられたこと | エ 三権分立の考え方が取り入れられたこと |

(2) 次の文章は、人権を保障するための考え方と日本国憲法の内容について述べたものです。この文章中の **a**・**b** に当てはまる語はそれぞれ何ですか。下のア～エの組み合わせの中から最も適切なものを選び、その記号を書きなさい。

国の政治の基本的なあり方を定める憲法によって国家権力を制限して、人権を保障するという考え方を、**a** という。そして、日本国憲法では、**b** であるこの憲法に違反する法律などは無効であることや、天皇または摂政及び国務大臣、国会議員、裁判官その他の公務員はこの憲法を尊重し擁護する義務を負うことが定められている。

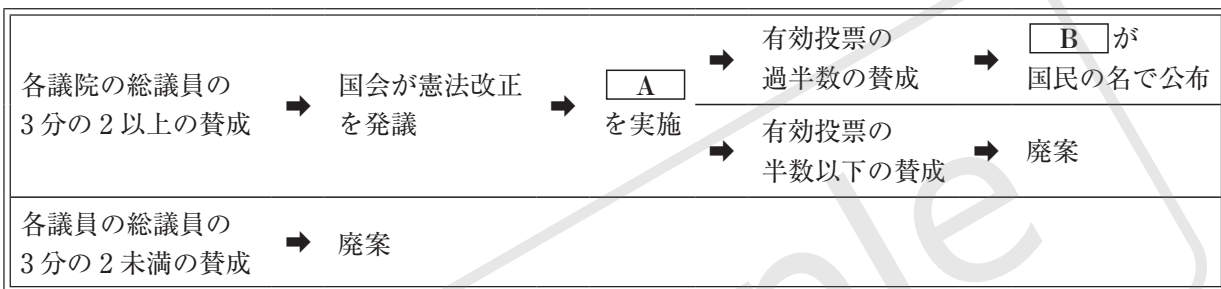
- ア a 資本主義 b 国際法規 イ a 資本主義 b 最高法規
ウ a 立憲主義 b 国際法規 エ a 立憲主義 b 最高法規

(1)		(2)	
-----	--	-----	--

74 日本国憲法

〈山梨〉

次の図は、日本国憲法の改正手続きについて示したものである。これに関する下の(1)、(2)の問いに答えなさい。



①(1) 図中の **A**、**B** に当てはまる語句の組み合わせとして正しいものを、次のア～エから一つ選び、記号で書きなさい。

- ア A：国民投票 B：内閣総理大臣 イ A：住民投票 B：内閣総理大臣
ウ A：国民投票 B：天皇 エ A：住民投票 B：天皇

①(2) 日本国憲法の改正については、他の法律の改正とは異なる、慎重な手続きを定めている。その理由を、「**国**」、「**保障**」という語句を使って簡潔に書きなさい。

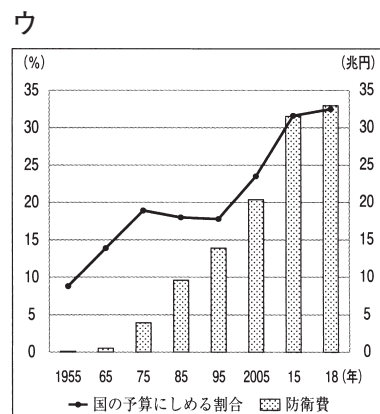
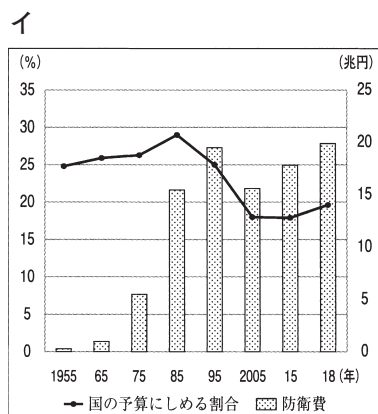
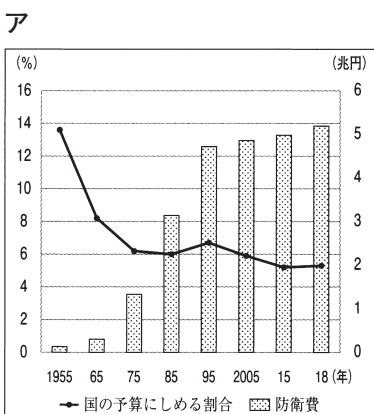
(1)	
-----	--

(2)	
-----	--

75 平和主義

〈佐賀〉

テロや戦争の発生に関連して、日本の防衛費と国の予算に^{すい}しめる防衛費の割合の推移を表すグラフとして最も適当なものを、次のア～ウの中から一つ選び、記号を書きなさい。



--

76 基本的人権

〈福井〉

1班は、テーマをもとに誰もが住みやすいまちづくりについて考えた。その中で、1班の生徒がまちで見かけたピクトグラムについて話し合った。次の問いに答えなさい。

- ① 資料が示すような、「さまざまな違いを認め、関わる全ての人が参加して支えあうこと」を意味する語句を、次のア～エから一つ選んで、その記号を書きなさい。

ア インクルージョン イ インフォームド・コンセント
ウ セーフティネット エ リコール

資料



JIS Z8210(1)公共・一般施設 (国土交通省資料より作成)

- (2) (1)の実現のための一つの方法として、「バリアフリー化」がある。特に、車いすで生活している人に対し、身体的な障壁を取り除くために行う、学校や公共施設における具体的な取り組みの例を一つ書きなさい。

(1)

(2)

77 基本的人権

〈大分〉

資料は障害者差別解消法について述べた文である。資料中の()に当てはまる語句を書きなさい。

資料

障害者差別解消法は、障がいのある人への不当な差別的取扱いの禁止と()の提供を目指すものである。()とは、右のイラストのように障がいのある人の求めに応じて、公的機関や企業が可能な範囲で対応することをいう。

意志を伝え合うために絵や写真のカードやタブレット端末などを使う。



段差がある場合に、スロープなどを使って補助する。



〔内閣府広報用リーフレット〕他より作成

78 基本的人権

〈神奈川〉

- ① 「公共の福祉」のために人権が制限される具体例について説明したものとして最も適するものを、次のア～エの中から一つ選び、その記号を答えなさい。

- ア 天皇の国事に関する行為には、内閣の助言と承認を必要とする。
イ 国は政治に関する情報を開示しなければならない。
ウ 感染症の感染が確認された患者を、法律に基づき入院させる。
エ 地方公共団体の財源の一つである国庫支出金は、使いみちが限定されている。

著作権者への配慮から、掲載を差し控えております。実際の教材には掲載されておりますのでご安心ください。