

<b>第1章 地理の復習</b>	
1 世界の地域構成	4
2 日本の地域構成	8
3 世界各地の人々の生活と環境	12
4 世界の諸地域	16
5 日本の姿	20
6 日本の諸地域	24
<b>地理総合問題</b>	28
<b>第2章 歴史の復習</b>	
7 古代までの日本	30
8 中世の日本	34
9 近世の日本	38
10 江戸幕府の滅亡と明治維新	42
11 立憲政治の成立	46
<b>歴史に出てくる地名(1)</b>	50
<b>第3章 二度の世界大戦と戦後の世界</b>	
12 日清・日露戦争と日本の産業革命	51
13 第一次世界大戦と大正デモクラシー	57
14 世界恐慌と日中の戦争	63
15 第二次世界大戦と戦後日本の民主化	69
16 日本の国際復帰と国際社会	75
<b>第3章のまとめ</b>	81
章末問題A	82
章末問題B	84
<b>歴史に出てくる地名(2)</b>	85
<b>歴史総合問題</b>	86
<b>戦後日本の社会の動き</b>	88
<b>第4章 現代社会と日本国憲法</b>	
17 現代社会と人権,日本国憲法	89
18 基本的人権	95
<b>第4章のまとめ</b>	101
章末問題A	102
章末問題B	104
<b>第5章 民主政治と社会</b>	
19 民主政治と国会	105
20 内閣・裁判所と三権分立	111
21 地方自治	117
<b>第5章のまとめ</b>	123
章末問題A	124
章末問題B	126
<b>第6章 わたしたちの暮らしと経済</b>	
22 消費と生産	127
23 市場経済と金融	133
24 国民生活と福祉	139
<b>第6章のまとめ</b>	145
章末問題A	146
章末問題B	148
<b>第7章 地球社会とわたしたち</b>	
25 国際社会と世界平和	149
26 地球社会の課題	155
<b>第7章のまとめ</b>	161
章末問題A	162
章末問題B	164
<b>公民総合問題</b>	165
<b>入試対策テスト(1)</b>	168
<b>入試対策テスト(2)</b>	173
<b>パワーアップ 地理</b>	178
<b>パワーアップ 年表コーナー</b>	182
<b>日本国憲法条文</b>	188

テーマ

- ① 財政の役割と納税される税金の内容、社会保障の重要性と課題について理解しよう。
- ② 環境問題の背景と現状、循環型社会やグローバル社会で日本の役割を学習しよう。

1 財政のしくみ

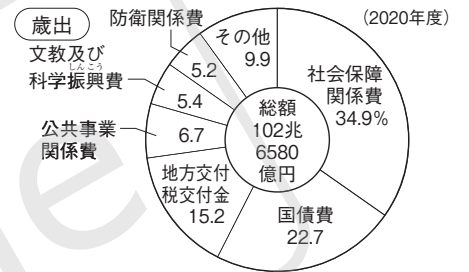
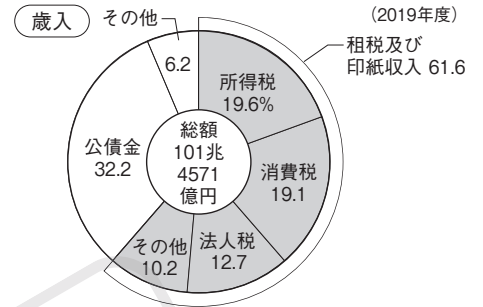
(1) 財政…政府の行う経済活動。あらかじめ立てられた1年間の予算に従って、収入(歳入)と支出(歳出)の活動が実行される。

- ① 歳入…原則として租税(国民が義務として納める税金)で支えられる。税金が不足した場合、政府は公債(国は国債、地方公共団体は地方債)を発行して借入れを行う。
- ② 歳出…社会保障関係費と国債費(国債の元金とその利子の返済)が大きな割合を占めている。

(2) さまざまな税金…課税の対象や納税者は法律で定められている。国が徴収する租税を国税、地方公共団体が徴収する租税を地方税という。納税者(納税の義務がある人)と担税者(実際に税金を負担する人)が一致する税を直接税という。所得税(個人の所得にかかる税)や法人税(企業の所得にかかる税)などがある。納税者と担税者が一致しない税を間接税という。酒税や消費税(商品やサービスの売上げにかかる税)などがある。所得税で採用されている、所得が多いほど税率が高くなるしくみを累進課税という。一方、間接税は税率が一定であるため、低所得者ほど税負担の割合が高くなるという逆進性の問題がある。

(3) 財政の役割…道路や学校などの社会資本[インフラ]を整備し、警察や医療などの公共サービスを提供する。また、所得の格差が広がらないように、課税の方法を工夫したり、弱者への社会保障を手厚くしたりする。さらに、日本銀行が行う金融政策と協調しながら、政府は財政政策を行って、景気の大きな変動を防ごうとする。そして、独占や寡占の規制や消費者・労働者の保護、環境保全などに関する規則を定め、企業に対して市場経済における公正さを確保する。

▼国の歳入・歳出の内訳



(2020/21年版「日本国勢図会」)

▼おもな租税

	直接税	間接税
国税	所得税 法人税 相続税	消費税 酒税 揮発油税 たばこ税 関税
地方税 (都道府県)	道府県民税 (都民税) 事業税 自動車税	(都)道府県たばこ税 ゴルフ場利用税 地方消費税
地方税 (市(区)町村)	市(区)町村民税 固定資産税 事業所税	市(区)町村たばこ税 入湯税

確認問題

1 財政のしくみ 次の( )にあてはまる語句を答えなさい。

- (1) 国や地方公共団体の年度ごとの収入を( ① )といい、支出を( ② )という。
- (2) 租税収入の不足を補うため、国は( )を発行して借入れを行う。
- (3) 租税のうち、国が徴収するものを( ① )といい、地方公共団体が徴収するものを( ② )という。
- (4) 租税のうち、納税の義務がある者が納めるものを( ① )といい、納税の義務がある者と実際に税金を負担する者が一致しないものを( ② )という。
- (5) 財政がもつ資源配分機能として、道路や学校、上下水道などの( ① )の整備、警察や消防、医療などの( ② )の提供がある。

- (1)① \_\_\_\_\_
- ② \_\_\_\_\_
- (2) \_\_\_\_\_
- (3)① \_\_\_\_\_
- ② \_\_\_\_\_
- (4)① \_\_\_\_\_
- ② \_\_\_\_\_
- (5)① \_\_\_\_\_
- ② \_\_\_\_\_

**2 社会保障と少子高齢化**

(1) **社会保障**…病気や失業、老齢などのために生活が困難になったとき、相互扶助の精神にもとづいて、国が生活を保障する制度。わが国では日本国憲法第25条の規定にもとづいて、社会保障制度が整備されてきた。

(2) **社会保障の4つの柱**

- ① **社会保険**…加入者は定期的に保険料を納め、必要が生じたときに給付を受ける制度。1960年代前半までにすべての医療保険・年金保険に加入する、国民皆保険・皆年金が実現した。
- ② **公的扶助**…生活が困難な人に生活費や教育費などを支給する制度。このために生活保護法が制定された。
- ③ **社会福祉**…障がい者や高齢者など、働くことが困難な人の生活を保障し、自立をはかる制度。
- ④ **公衆衛生**…感染症の予防や上下水道の整備などを行って、国民の健康を保持・増進する制度。

(3) **わが国の社会保障の問題**

- ① **少子高齢化**…高齢世代の増加によって医療費や年金給付額は増え、一方で労働力となる現役世代の減少によって保険料や税収が減る。また、急速な高齢化に対応するため、40歳以上の人が加入する**介護保険制度**と、75歳以上の高齢者が独自の保険に加入して年金から保険料を天引きする後期高齢者医療制度が新しく導入された。
- ② **財源の問題**…今後も社会保障費はますます増大することが予想されるが、社会保障財政は悪化しており、財源確保のために、2019年に消費税率が8%から10%に引き上げられた。
- ③ **制度の問題**…人口構成が変わっていくことを受け入れたうえで、社会保障制度が効率的に運営され、負担する人と給付を受ける人がそれぞれ納得できるような制度の改善・再設計を行う必要がある。
- ④ **保険の格差の問題**…加入している保険の種類によって、給付や保険料にかなり格差があるため、政府による不公平の是正や保険どうしの統合も考える必要がある。

▼日本国憲法第25条

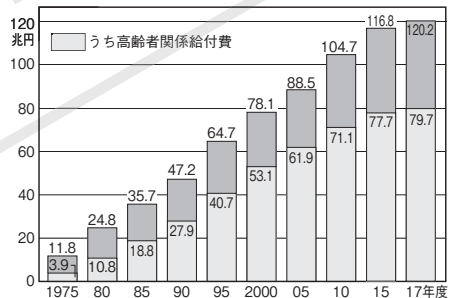
第25条 1 すべて国民は、健康で文化的な最低限度の生活を営む権利を有する。  
2 国は、すべての生活部面について、社会福祉、社会保障及び公衆衛生の向上及び増進に努めなければならない。

▼社会保障の4つの柱

社会保険	医療保険 年金保険 労災保険	介護保険 雇用保険
公的扶助	生活保護 生活扶助・住宅扶助 教育扶助・医療扶助 など	
社会福祉	高齢者福祉 母子福祉 障がい者福祉 など	
公衆衛生	感染症対策 廃棄物処理 上下水道整備 公害対策 など	

インフルエンザの予防接種などは公衆衛生にあてはまる。

▼社会保障給付費の推移



**確認問題**

**2 社会保障と少子高齢化** 次の( )にあてはまる語句や数字を答えなさい。

- (1) わが国では日本国憲法第( )条の規定にもとづいて、社会保障制度が整備されてきた。
- (2) わが国の社会保障制度の中心になるのは( )である。
- (3) 生活保護法などによって、生活が困難な人に生活費や教育費などを支給する制度を( )という。
- (4) 障がい者や高齢者など、働くことが困難な人の生活を保障し、自立をはかる制度を( )という。
- (5) 感染症の予防や上下水道の整備などを行って、国民の健康を保持・増進する制度を( )という。
- (6) 急速な高齢化に対応するため、40歳以上の人が加入する( )制度が新設された。

- (1) \_\_\_\_\_
- (2) \_\_\_\_\_
- (3) \_\_\_\_\_
- (4) \_\_\_\_\_
- (5) \_\_\_\_\_
- (6) \_\_\_\_\_

**3 環境保全**

- (1) **公害**…企業の生産活動や人々の日常生活にともなって起こる大気や河川の汚染、騒音、悪臭などのために、地域住民の健康や生活環境が損なわれる。戦後の経済発展の中で、**四大公害**をはじめ多くの公害が発生した。
- (2) **公害訴訟**…四大公害では、患者側が企業の責任を追及する裁判を起こし、いずれも患者側が全面勝訴となった。
- (3) **公害対策**…1967年に**公害対策基本法**を制定した。これを発展させた**環境基本法**を1993年に制定して環境保全に対する社会全体の責務を明らかにし、さまざまな公害問題に包括的に取り組むようになった。また、公害対策などを専門的にあつかう**環境庁**が1971年に設置され、2001年に**環境省**へ昇格した。環境保護を意識し、**省資源・省エネルギー**型の製品の開発を進めている。二酸化炭素の排出量が少ない電気自動車はその一例。工場建設や地域開発を行う前に、環境への影響を事前に調査する**環境アセスメント**〔環境影響評価〕が義務付けられている。公害の発生を未然に防ぐ対策づくりのために行われる。
- (4) **循環型社会**…2000年に循環型社会形成推進基本法が制定され、**3R**を心がけ天然資源の消費を少なくし、環境への負担を減らす社会の実現をめざすことになった。

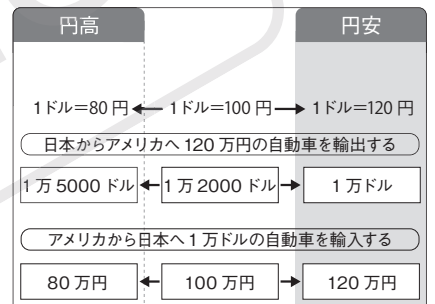
▼四大公害

みなまたびょう 水俣病	発生…熊本県八代海周辺 原因…メチル水銀による水質汚濁
にいがた 新潟水俣病 〔第二水俣病〕	発生…新潟県阿賀野川流域 原因…メチル水銀による水質汚濁
イタイイタイ病	発生…富山県神通川流域 原因…カドミウムによる水質汚濁
よっかいち 四日市ぜんそく	発生…三重県四日市市 原因…石油コンビナートが排出した亜硫酸ガスなどによる大気汚染

▼3R

リデュース	包装を断ったり、使い捨て商品などを使わないようにする。
リユース	使えるものは繰り返し使う。
リサイクル	ごみを資源として活用する。

▼為替相場〔為替レート〕



円高は輸出に不利・輸入に有利。  
円安は輸出に有利・輸入に不利。

**4 世界の中の日本経済**

- (1) **グローバル化**…商品や労働者、資金が地球を自由に移動するようになり、1980年代ごろから日本企業が積極的に外国へ進出した。しかし、その一方で国内にあった工場などが閉鎖され、そこで働く労働者は解雇されたため、国内産業が衰退する**産業の空洞化**が起こった。
- (2) **為替相場〔為替レート〕**…ある国の通貨と別の国の通貨の**交換比率**。  
1ドル=100円が1ドル=80円になるように、外国通貨に対する円の価値が高まることを**円高**といい、1ドル=100円が1ドル=120円になるように、外国通貨に対する円の価値が低くなることを**円安**という。

**3 環境保全** 次の( )にあてはまる語句を答えなさい。

- (1) 四大公害のうち、熊本県の八代海周辺で発生したものを( ① )といい、のちに①と同じような公害が新潟県の( ② )川の流域でも発生した。
- (2) 1967年、政府は公害問題を解決するために( )を制定した。
- (3) (2)にかわり、1993年に制定された( )は環境保全に対する社会全体の責務を明らかにし、環境問題全般に対応した法律。

- (1)① \_\_\_\_\_
- ② \_\_\_\_\_
- (2) \_\_\_\_\_
- (3) \_\_\_\_\_

**4 世界の中の日本経済** 次の( )にあてはまる語句を答えなさい。

- (1) 日本の企業が海外に生産の拠点を移すようになった結果、日本国内で( )がおこった。
- (2) 1ドル=100円が1ドル=80円になるように、外国通貨に対する円の価値が高まることを( ① )といい、1ドル=100円が1ドル=120円になるように、外国通貨に対する円の価値が低くなることを( ② )という。

- (1) \_\_\_\_\_
- (2)① \_\_\_\_\_
- ② \_\_\_\_\_



# 演習問題

1 次の文章を読んで、あとの問いに答えなさい。

→ 1~4

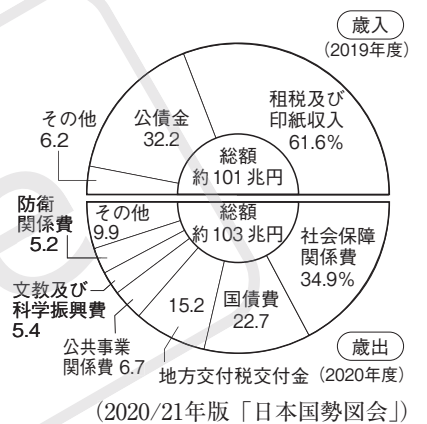
家計や企業と同じように、a 政府も収入を得て、それをさまざまな用途のために支出している。この収入は家計や企業から集められる b 租税によってまかなわれることを基本としている。

政府の経済活動の目的は利潤追求ではなく、国民の生活に必要なだが市場では供給されにくい、社会資本や c 公共サービスを供給したり、d 経済の振興や e 環境の保全をはかったりすることである。

(1) 下線部 a について、次の①~③に答えよ。

- ① 政府は新しい年度の始まりに先立って、今後1年間の収入と支出の計画を立て、実行に移すが、この政府の計画を何というか。 [ ]
- ② 下線部 a のような政府の経済活動を何というか。 [ ]
- ③ 政府の経済活動の役割の1つに、所得の再分配の機能がある。このことと最も関係の深い歳出を、資料 I から1つ選び、答えよ。 [ ]

資料 I



(2) 下線部 b について、次の①~③に答えよ。

- ① 資料 II は買い物をした際に受け取った領収証である。[ ] にあてはまる金額を書け。なお、現在の消費税率は10%である。ただし、食品などは軽減税率の対象のため、8%である。 [ ]
- ② 資料 II 中の消費税は、国税であり間接税である。これと同じ種類のものを、次のア~エから1つ選び、記号で答えよ。 [ ]  
ア 所得税    イ 酒税    ウ 法人税    エ 住民税
- ③ **記述** 租税には、大きく分けて直接税と間接税の2種類があるが、その違いについて、次の語句を用いて、簡単に説明せよ。

納税者    担税者

[ ]

資料 II

○ストア  
☆☆店 電話××××(×)××××  
ご来店ありがとうございます  
△△月△△日(△)18:00

米 5 kg	1 個	¥ 1,780
ジュース		
1 本 ¥90	2 本	¥ 180
キャベツ	1 個	¥ 200
合計		¥ 2,160
(うち消費税)		¥ [ ]
お預り		¥ 2,160
お釣り		¥ 0

※すべて軽減税率の対象

□(3) 下線部 c の1つに医療がある。急速な高齢化に対応するため、40歳以上の人が加入する制度を何というか。 [ ]

(4) 下線部 d について、次の①・②に答えよ。

- ① 現在のわが国では産業の空洞化が深刻な問題となっている。この産業の空洞化と最も関係が深いものを次のア~エから1つ選び、記号で答えよ。 [ ]  
ア グローバル化    イ 少子高齢化    ウ 情報化    エ 経済の安定化
- ② 円高と円安のうち、日本からアメリカに自動車を輸出するとき、海外での売り上げが増えるのはどちらか。 [ ]
- (5) 下線部 e について、四大公害について述べた次のア~エのうち、内容が正しいものを1つ選び、記号で答えよ。 [ ]

- ア 第二水俣病とよばれる公害病は、富山県で発生した。
- イ イタイイタイ病を発生させた原因の物質は、鉱山から流れ出たメチル水銀である。
- ウ 四大公害では、四日市ぜんそくだけが大気汚染を原因としている。
- エ 四大公害の訴訟では、すべて患者側が敗訴した。

# 学習のまとめ

図表に  
まとめよう!

1 租税について学習したことを、次の表の[ ]を選んで再確認しよう。

[ ]にあてはまる語句を、右のア～カから

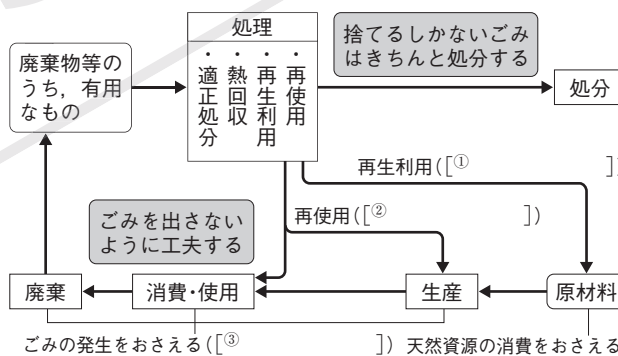
		直接税	間接税
国税		[① ] 法人税 相続税	[② ] 酒税 関税
地方税	(都)道府県税	[③ ] (都)道府県民税	[④ ] (都)道府県たばこ税
	市(区)町村税	[⑤ ] 市(区)町村民税	[⑥ ] 市(区)町村たばこ税

- |           |       |
|-----------|-------|
| ア 固定資産税   | イ 消費税 |
| ウ ゴルフ場利用税 | エ 入湯税 |
| オ 自動車税    | カ 所得税 |

2 公害について学習したことを、次の四大公害の表の[ ]に語句をあてはめて再確認しよう。ただし、同じ番号には同じ語句が入ります。

病名	発生した場所	原因物質
[① ]	熊本県八代海周辺	メチル水銀
[② ] [第二] [① ]	[② ] 県阿賀野川流域	メチル水銀
イタイイタイ病	富山県神通川流域	[③ ]
[④ ] ぜんそく	三重県 [④ ] 市	亜硫酸ガス

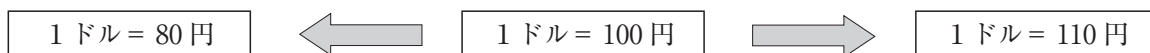
3 循環型社会について学習したことを、次の図の[ ]に語句をあてはめて再確認しよう。ただし、語句はすべてカタカナであり、「リ」で始まります。



4 為替相場について学習したことを、次の図の[ ]にあてはめて学習しよう。

円の価値が [① ] いる。  
= [② ]

円の価値が [③ ] いる。  
= [④ ]



100円を1ドルで交換できたものが、  
1.25ドルで交換できる。

100円を1ドルで交換できたものが、  
0.91ドルで交換できる。