

2

第2章 古代までの日本

世界の古代文明と宗教のおこり

学習1 人類の誕生

□約700万～600万年前にアフリカに最古の人類である猿人^{えんじん}が現れて道具を使用しました。約200万年前に火や言葉を使う原人が現れ、約20万年前に現在の人類の直接の祖先となる新人〔ホモ・サピエンス〕が現れました。

□石を打ち欠いてするどい刃^はを持たせた打製石器を使い、狩りや採集を行っていた時代を旧石器時代といいます。約1万年前に氷河時代が終わると、農耕^{ほくちく}や牧畜が始まり、表面をみがいた磨製石器^{ませい}や土器が使われる新石器時代になりました。

用語 * 氷河時代…地球が寒冷化した約250万～1万年前のこと。

学習2 古代文明のおこりと発展

□強い集団が弱い集団を従えて国ができ、青銅器・鉄器・文字などが発明されると、都市を中心に文明が誕生しました。

□ナイル川のほとりでエジプト文明がおこりました。ピラミッドが築かれ、太陽の動き^{もと}を基に1年を365日とする太陽暦^{たいりき}が作られ、物の形をかたどった象形文字^{しょうけい}が発明されました。

□チグリス川とユーフラテス川のほとりでメソポタミア文明がおこりました。月の満ち欠けに基づく太陰暦^{たいいんれき}や1週間を七日とする考え、60進法、くさび形文字などが発明されました。

□インダス川のほとりで、インダス文明がおこりました。道路や水路が整備された都市でインダス文字が使われました。のちにアーリヤ人が進出して、神官を頂点とする身分制度が作られました。

□中国文明では、紀元前16世紀ごろに黄河^{こうが}の流域^{いん}で殷^{いん}がおこり、優れた青銅器や漢字^{もと}の基となった甲骨文字^{こうこつ}が使われました。

用語 * 甲骨文字…亀の甲や牛・鹿の骨に刻まれていた文字。

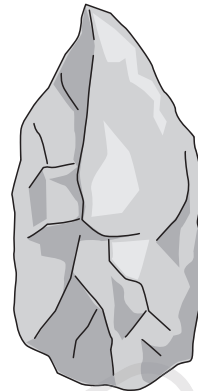
学習3 中国文明の発展

□殷をほろぼした周の支配が弱まると多くの国々が争う春秋・戦国時代になりました。紀元前6世紀ごろ、「仁^{じん}」と「礼」を基本にした政治の必要性を説いた孔子^{こうし}が儒学^{じゆがく}〔^{じゆきやう}儒教〕を始めました。

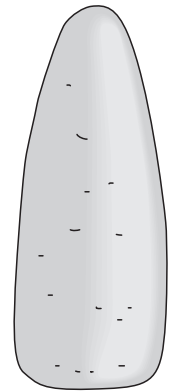
□紀元前3世紀に中国を統一した秦^{しん}の始皇帝^{しこうてい}は、北方の遊牧民^{しん}の侵入^{しん}に備えて万里の長城^{ばんり}を築きましたが、15年でほろびました。

□秦に次いで中国を統一した漢^{かん}は大帝国となり、シルクロード〔絹の道〕を通じて西方と交易を行い、インドから仏教がもたらされました。

▼打製石器



▼磨製石器



▼古代文明のおこった地域




▼象形文字(左)とくさび形文字(右)



▼甲骨文字



▼万里の長城(中国)



用語 * 始皇帝…初めて「皇帝」を名乗り、長さ・容積・重さの基準や文字、貨幣などを統一した。

学習4 ギリシャ・ローマの文明

- ギリシャ人は地中海各地にポリスという都市国家を造りました。ポリスの中心部には、アクロポリスという自然の丘があり、その上に神殿やとりでなどが造られました。最も栄えたアテネでは、市民全員が参加する民会を中心にして民主政が行われました。紀元前5世紀にペルシャの侵攻を撃退すると、ギリシャ文明は全盛期をむかえました。
 - 紀元前4世紀に北方のマケドニアがギリシャを征服し、その後アレクサンドロス大王が東方へ遠征してペルシャなどを征服した結果、ヘレニズムが生まれました。
 - イタリア半島に造られた都市国家ローマは共和政をしき、紀元前30年に地中海の周辺を統一した後に帝政になりました。
 - ギリシャ文明を吸収したローマ帝国は水道や闘技場などを築きました。ローマの法律や暦は、後のヨーロッパでも使われました。
- 用語** * ヘレニズム…ギリシャの文明が東方に広まって生まれた文化。ミロのビーナスなどが作られた。

学習5 文化・宗教・生活

- エジプトとメソポタミアをふくむ地域であるオリエントでは、アルファベットが発明され、鉄器が広く使われていました。
- 自然の働きに人間をこえる力を感じた人々は神に祈り、神の教えを説く者の出現や儀式・聖典の整備によって宗教がおこりました。
- 紀元前5世紀ごろ、インドにシャカ〔釈迦〕が現れ、世の中には苦しみが多いが、修行を積んでさとりを開けば安らぎを得られると説いて、仏教の開祖になりました。仏教は東南アジアや中国、日本に伝えられて、それぞれの地域で独自に発達をとげました。
- 紀元前後、西アジアのパレスチナ地方にイエスが現れ、ユダヤ教を基にして、神の愛や弱者への思いやりを説きました。弟子たちがその教えを「聖書〔新約聖書〕」にまとめてキリスト教と呼ばれ、ローマ帝国の宗教になったことからヨーロッパで広く信仰されました。
- 7世紀、アラビア半島でムハンマドが、ユダヤ教やキリスト教を基にして、唯一の神アラーに従うことや1日5回の礼拝、神の像をえがいたり拜んだりすることの禁止などを説いてイスラム教を始めました。聖典の「コーラン」はイスラム教徒(ムスリム)の法としての役割も果たしました。

用語 * ユダヤ教…ヤハウェを唯一の神とする宗教。

▼アテネのパルテノン神殿



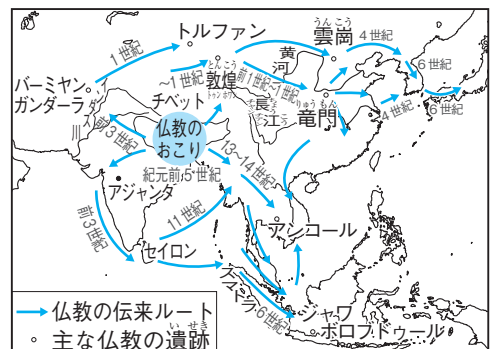
▼漢とローマ帝国



▼アレクサンドロス大王 ▼ミロのビーナス



▼宗教のおこり



■ 確認問題 ■

1 ●年表で時代の流れをつかもう● ()にあてはまる語を書きなさい。

時代	年代	できごと
旧石器 <small>きゅうせきぎ</small>	約700万年前	アフリカで最古の人類である(①)が現れる
	約20万年前	現在の人類の直接の祖先である(②)が現れる
	約1万年前	氷河時代が終わり、気候があたたかくなる
新石器 <small>しんせきぎ</small>	紀元前3000年ごろ	西アジアでメソポタミア文明がおこる 北アフリカで(③)文明がおこる
	紀元前2500年ごろ	インダス文明がおこる
(青銅器・鉄器) <small>せいどうぎ・てつぎ</small>	紀元前16世紀ごろ	中国の(④)流域 ^{いん} で殷がおこる
	紀元前6世紀	中国で(⑤)が儒学 ^{じゅがく} [^{じゅきょう} 儒教]の教えを説く
	紀元前5世紀	インドでシャカ ^{しゃか} [^{じき} 釈迦]が(⑥)を開く
	紀元前後	パレスチナ地方でイエスが神の愛を説き、弟子 ^{でし} たちによって(⑦)に発展する
	7世紀	アラビア半島でムハンマドが(⑧)を開く

- ① []
- ② []
- ③ []
- ④ []
- ⑤ []
- ⑥ []
- ⑦ []
- ⑧ []

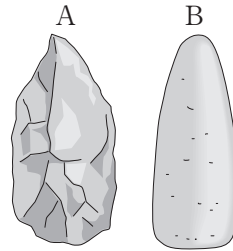
2 ●一問一答● 次の問いに答えなさい。

- (1) 旧石器時代に使われていた、石を打ち欠いて作り、するどい刃^はを持つ石器を何というか。 []
- (2) 新石器時代に使われていた、表面をみがいて、(1)よりも刃をすどくした石器を何というか。 []
- (3) エジプト文明で発明された、物の形をかたどった文字であり、ピラミッドや神殿^{しんでん}の内部などに記された文字を何というか。 []
- (4) メソポタミア文明で発明された文字を何というか。 []
- (5) 春秋・戦国時代の中国で始められた、「仁^{じん}」と「礼」による政治を主張する教えを何というか。 []
- (6) 漢の時代の中国でさかんに利用された、中国と西方の国々を結ぶ交易路を何というか。 []
- (7) ギリシャ人が地中海^{ちゅうかい}各地に建設した都市国家を何というか。 []
- (8) ギリシャ人などを率いて東方^{えんせい}に遠征し、ペルシャをほろぼしてインダス川まで到達したマケドニアの王はだれか。 []
- (9) 原始時代の人々が自然の働きに人間をこえる力を感じて、神に祈^{いの}るようになり、神の教えを説く者が現れ、儀式・聖典^{ぎしき}が整えられるに至って成立したものは何か。 []
- (10) 紀元前に成立した、ヤハウェを唯一^{ゆいいつ}の神として信仰^{しんこう}し、その教えがキリスト教やイスラム教に取り入れられた宗教を何というか。 []

基本問題

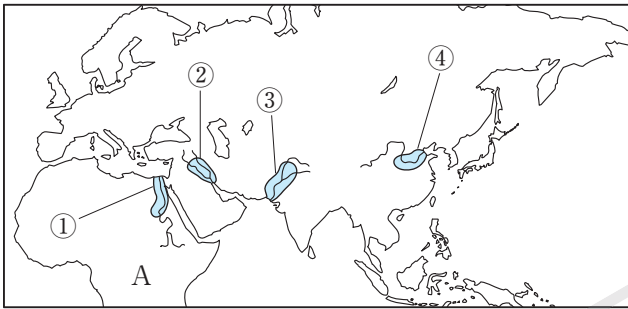
1 右の絵を見て、次の問いに答えなさい。

- (1) Aは、氷河時代に使われていた、するどい刃を持つ石器である。これを何というか。
- (2) Bは、氷河時代が終わった後に使われるようになった石器である。これを何というか。
- (3) (2)を使い、ほくちく農耕や牧畜が始まったのは何時代か。



1	(1)	
	(2)	
	(3)	

2 次の地図を見て、あとの問いに答えなさい。



- (1) 最古の人類の骨が発見された、地図中のAの大陸名を答えよ。
- (2) 地図中の①～④の地域でおこった古代文明をそれぞれ何というか。
- (3) 地図中の④の地域で、紀元前16世紀ごろに生まれた国を何というか。
- (4) 右の図は、(3)の国で発明された、漢字の基^{もと}になった文字である。この文字を何というか。



2	(1)	
	(2)	①
		②
		③
		④
	(3)	
	(4)	

3 次の写真を見て、あとの問いに答えなさい。



- (1) Aの写真は、古代エジプトの国王の墓である。これを何というか。
- (2) (1)が多く見られるのは、何という川の流域か。
- (3) Bの写真は、モヘンジョ・ダロという都市遺跡^{いせき}である。この遺跡がある地域には、何という古代文明が発達したか。
- (4) (3)の文明においては、何という文字が使われていたか。

3	(1)	
	(2)	
	(3)	
	(4)	

練習問題

1 次の文を読んで、あとの問いに答えなさい。

現在知られている最古の人類は、今から約700万年前から600万年前にアフリカに現れた(①)で、道具を使用していたと考えられる。今から約250万年前より地球は寒冷化し、^④陸地の約3分の1が氷でおおわれる時期と比較的温暖的な時期がくり返される時代が続いたが、この間に現れた(②)は、^⑥石を打ち欠いて作った石器を使って狩りを行い、やがて火や言葉も使うようになった。そして、今から約20万年前に、現在の人類の直接の祖先にあたる(③)すなわちホモ・サピエンスが現れ、世界中に広がっていった。

今から約1万年前になると、気候があたたかくなり、食用となる木の実が増え、人々は弓と矢を使って小動物をとらえるようになった。さらに、麦やあわ、^{いね}稲などを栽培し、牛や羊などの家畜を飼うようになり、土器や^⑦磨製石器も使われるようになった。

□(1) 文中の①～③にあてはまる語句を、次のア～ウから1つずつ選びなさい。

ア 新人 ^{しんじん} イ 猿人 ^{えんじん} ウ 原人 ^{げんじん}

□(2) 下線部④の時代を何というか。

□(3) 下線部⑥の石器を何というか。

□(4) 人々が⑦を使い、狩りや採集をしながら暮らした時代を何というか。

□(5) **表現力** 下線部⑦はどのような石器か。簡単に書け。

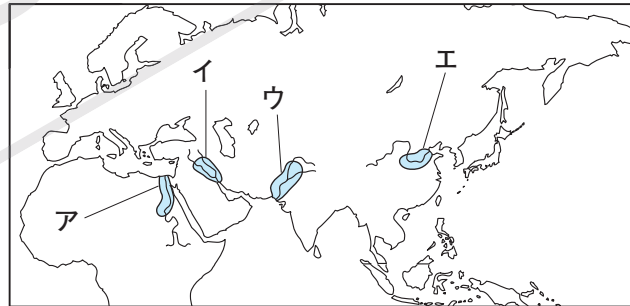
1

	①	
(1)	②	
	③	
(2)		
(3)		
(4)		
(5)		

2 右の地図を見て、次の問いに答えなさい。

□(1) メソポタミア文明がおこった場所を、地図中のア～エから選べ。

□(2) ピラミッドと太陽暦が作られた文明の場所を、地図中のア～エから選べ。



□(3) 紀元前3世紀に多くの国々をまとめて統一した秦の始皇帝は、どの文明の人物か。地図中のア～エから選べ。

□(4) **表現力** 秦の始皇帝は^{ばんり}万里の長城を築いた人物として知られている。万里の長城が築かれた理由について、簡単に書け。

□(5) シャカ^{しゃか}〔釈迦〕によって新しい宗教が開かれたのは、どの文明がおこった地域の近いか。地図中のア～エから選べ。

2

(1)	
(2)	
(3)	
(4)	
(5)	

③ 次の写真を見て、あとの問いに答えなさい。

A



B



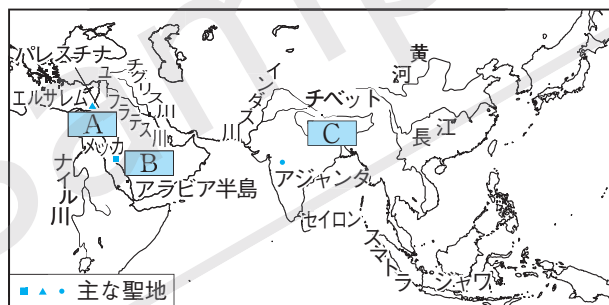
- (1) Aはアテネにあるパルテノン^{しんでん}神殿である。古代のギリシャに造られたアテネやスパルタのような都市国家を何というか。
- (2) (1)では、中心部にある自然の丘^{おか}の上にAのような神殿を建てていたが、この丘は何と呼ばれていたか。
- (3) 紀元前5世紀にギリシャを攻めたが、(1)の連合によって^{げきたい}撃退された国はどこか。
- (4) (3)との戦争の後、Aがあるアテネでは、男性の市民全員が参加する集会を中心として民主的な政治が行われた。この集会を何というか。
- (5) 紀元前4世紀に(3)をほろぼしたアレクサンドロス大王は、何という国の王だったか。
- (6) Bは古代ローマの水道橋である。都市国家ローマがあった半島を何というか。
- (7) ローマ帝国の宗教になったため、ヨーロッパに広まった宗教は何か。

③

(1)	
(2)	
(3)	
(4)	
(5)	
(6)	
(7)	

④ 右の地図を見て、次の問いに答えなさい。

- (1) 地図中のA～Cの地域でおこった宗教名をそれぞれ書け。
- (2) 地図中のAの地域でおこった宗教の聖地になっているエルサレムは、ユダヤ教の聖地にもなっている。この宗教で^{しんこう}信仰されている唯一^{ゆいいつ}の神を何というか。



- (3) 地図中のAの地域でおこった宗教は、この宗教を開いた人物の教えを弟子たちが何という聖典にまとめ、成立したか。
- (4) 地図中のBの地域でおこった宗教の聖典であり、信者たちの法としての役割を果たしているものは何か。
- (5) 地図中のBの地域でおこった宗教の信者は、何と呼ばれるか。カタカナ4字で書け。
- (6) 地図中のCの地域でおこった宗教の教えにあてはまるものを、次のア～ウから選べ。
 ア 神に絶対的に服従するが、神の像をえがいたり拝んだりしない。
 イ 人間はみな罪を負っているが、神の愛を受けることができる。
 ウ 世の中は苦しみが多いが、修行を積んでさとりを開けば安らぎを得られる。

④

	A	
(1)	B	
	C	
(2)		
(3)		
(4)		
(5)		
(6)		