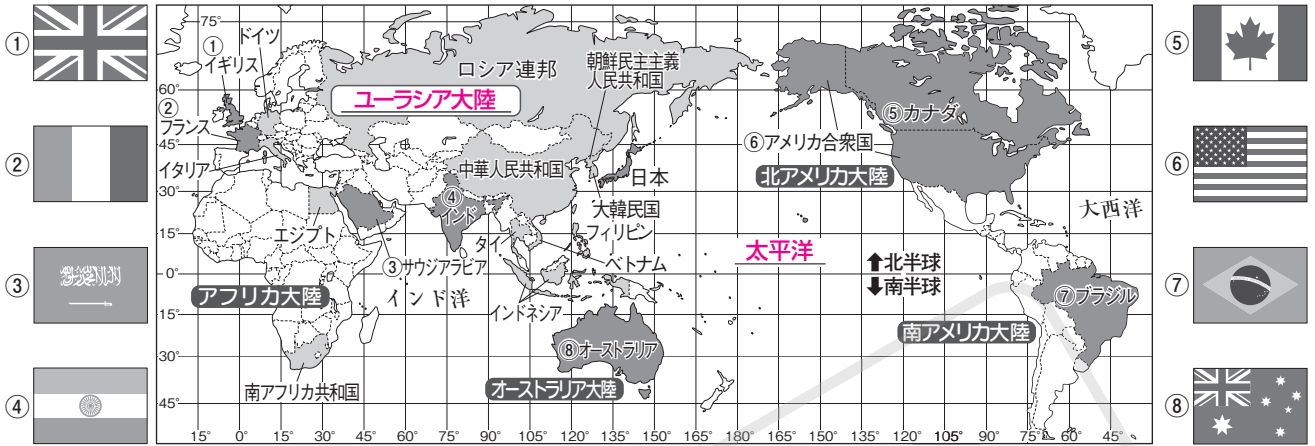


ポイント 世界にはどんな国がある？ 日本の位置と領土を確かめよう！

1 地図や地球儀から見た世界の様子

▼6つの大陸と3つの大洋・世界の国と国旗



(1) 陸地と海…世界には6つの大陸と3つの大洋がある。海は地球の約70%をしめる。

① 6つの大陸…ユーラシア大陸, **アフリカ**大陸, 北アメリカ大陸, 南アメリカ大陸, オーストラリア大陸, 南極大陸。…面積・方位が正しい。

② 3つの大洋…太平洋, **大西洋**, インド洋。

(2) 緯線と経線…たての線を**経線**, 横の線を**緯線**という。緯度と経度で地球上の位置を表すことができる。

緯線と経線 緯線は赤道と平行の線。赤道を0度とし、南北それぞれ90度に分けて、北緯、南緯とする。

経線は北極と南極を結ぶ線。イギリスの旧グリニッジ天文台を通る線を0度とし、東西それぞれ180度に分けて、東経、西経とする。



2 日本の国土の様子

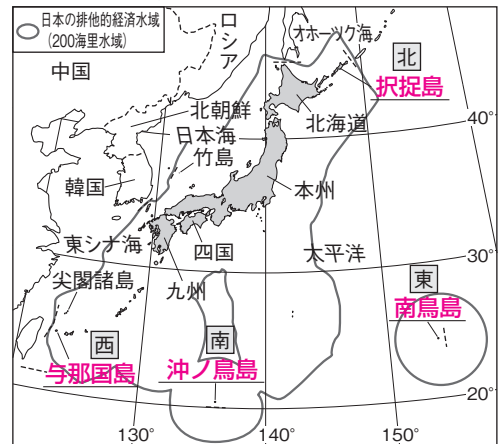
(1) 日本の位置…日本は北半球にあり、**ユーラシア**大陸の東, **太平洋**の西に位置する。

(2) 国土の様子…北海道, 本州, 四国, 九州の4つの大きな島と多くの島々が南北に弓状に連なり, 海岸線が長い。

(3) 国土のはんい…北は**択捉島**, 東は**南鳥島**, 南は**沖ノ鳥島**, 西は**与那国島**まで。

(4) 領土をめぐる問題…択捉島, **国後島**, 色丹島, 歯舞群島はロシア連邦に占領(占拠)されており, **北方領土**とよばれる。韓国が竹島を占領し, 中国が尖閣諸島の領有権を主張している。

▼日本の領土とまわりの国



領土 その国のもつ陸地(湖や川をふくむ)。沿岸から12海里(約22km)までの海を領海, 領土と領海の上を領空という。200海里までの排他的経済水域は沿岸国に天然資源開発などの権利がある。

ポイントを整理

①【地図や地球儀から見た世界の様子】次の図を見て、あとの問いに答えなさい。

図1

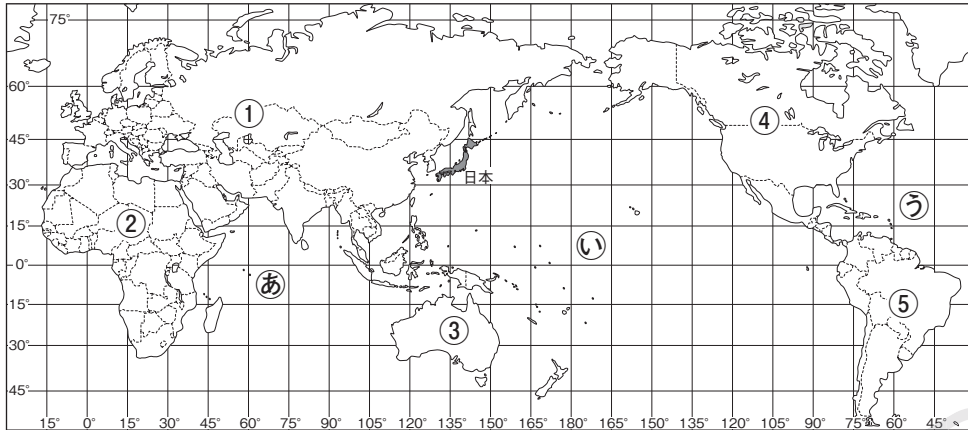
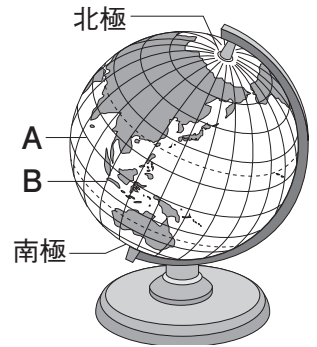


図2



□(1) 図1中の①～⑤の大陸の名前を書きなさい。

- ① 大陸 ② 大陸 ③ 大陸
 ④ 大陸 ⑤ 大陸

□(2) 6大陸のうち、図1にえがかれていない大陸はどこですか。

大陸

□(3) 図1中のあ～うの大洋の名前を書きなさい。

- あ い う

□(4) 図2のような、地球を小さくした^{もけい}模型を何といいますか。

□(5) 次の文中の□にあてはまることばを書きなさい。

図2中のAの線を① といい、これに平行に引かれた線を② といいます。Bのような北極と南極を結んだ線を③ といい、④ にある旧グリニッジ天文台を^{きじゅん}基準に引かれています。

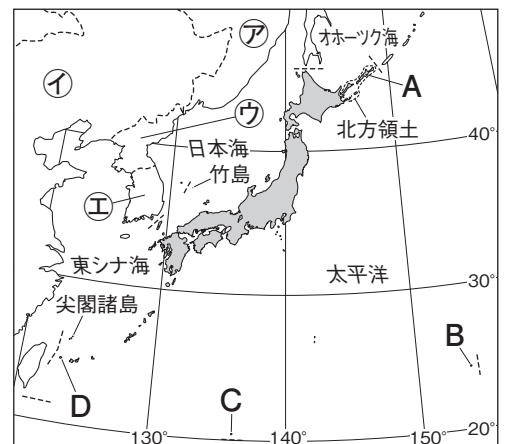
②【日本の国土の様子】右の地図を見て、次の問いに答えなさい。

□(1) 日本の北・東・南・西のはしにあたるA～Dの島の名前を書きなさい。

- A B
 C D

□(2) 日本の領土である北方領土と竹島を占領(占拠)している国を、地図の㉠～㉥からそれぞれ記号で選び、国名も書きなさい。

- 北方領土
 竹島





たしかめよう

学習日

月 日

1 次の問いに答えなさい。

- (1) 世界には、大陸はいくつありますか。
- (2) 世界には、大洋はいくつありますか。
- (3) 世界全体で見ると、海と陸地ではどちらの面積が広いですか。
- (4) 緯度は、南北に何度までありますか。
- (5) 経度は、東西に何度までありますか。

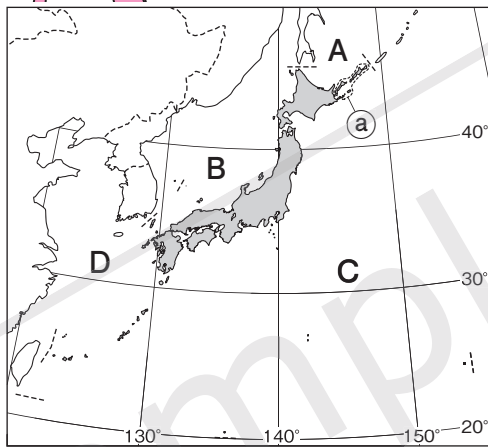
- (6) 日本を構成する4つの大きな島のうち、①最大の島、②最小の島は何ですか。



二番目に大きい島は北海道、三番目は九州だよ！

- (7) 日本を取りまく右の地図中のA～Dの海を何といいますか。次から選んで書きなさい。

- 日本海
- 太平洋
- 東シナ海
- オホーツク海



- (8) 領土のまわりの12海里までの海を何といいますか。
- (9) 領土と(8)の上の空を何といいますか。
- (10) 沿岸から200海里までの水域は、天然資源開発などの権利が沿岸国に認められています。この水域を何といいますか。
- (11) 現在、ロシア連邦に占領されている地図中の①の島々をまとめて何とよびますか。

2 次の文中の()にあてはまることばを、下から記号で選びなさい。

- (1) 日本は、(①)大陸の東、(②)洋の西に位置しています。緯度と経度を使うと、(③) 20度から46度、(④) 122度から154度のあいだ、と表すことができます。

- ア 北アメリカ イ 太平 ウ 北緯 エ 南緯
- オ ユーラシア カ 大西 キ 東経 ク 西経

- (2) 日本は、4つの大きな島とたくさんの小さな島から成り立っていますが、そのうち(①)などの島々はロシア連邦に、(②)は韓国に占領されています。また、(③)は日本が有効に支配していますが、中国が領有権を主張しています。

- ア 竹島 イ 択捉島 ウ 沖ノ島 エ 尖閣諸島

- (1) つ
- (2) つ
- (3)
- (4) 度
- (5) 度
- (6) ①
- ②
- (7) A
- B
- C
- D
- (8)
- (9)
- (10)
- (11)

- (1) ①
- ②
- ③
- ④
- (2) ①
- ②
- ③



ちからをつけよう

学習日

月 日

1 次の文中の①・②にあてはまる数字を、下から記号で選びなさい。

国土の沿岸から① 海里(約22km)までの海を領海という。また、領海の外側で、沿岸から② 海里までの水域を排他的経済水域はいたといい、沿岸国に天然資源開発などの権利がある。

ア 2 イ 12 ウ 120 エ 200



話し合って深めよう



2 次の文は、先生と生徒の会話の一部です。あとの問いに答えなさい。



先生：地図を見ると、①日本やほかの国の位置がよくわかるね。

生徒A：はい。例えば、日本とほぼ同じ緯度の国には中華人民共和国や(②), 同じ経度の国にはロシアや(③)があります。

生徒B：エジプトは(④)大陸、ブラジルは(⑤)大陸にあることもわかります。

先生：南アフリカ共和国は⑥2つの大洋に面しているね。

生徒A：(⑦)大陸がないですね。地図以外に地球のすがたを表したのがありますか。

生徒B：地球を小さくした模型の(⑧)と、きょりや面積などが一度に正しく確かめられます。

□(1) 下線部①について、日本はアメリカ合衆国がっしゅうこくやオーストラリアより海岸線が長くなっています。

その理由を「島々」ということばを使って書きなさい。

□(2) (②), (③)にあてはまる国名を、地図から選んで書きなさい。

②

③

□(3) (④), (⑤), (⑦)にあてはまる大陸名を書きなさい。

④

⑤

⑦

□(4) 下線部⑥の名前を書きなさい。

□(5) (⑧)にあてはまることばを10字以内で書きなさい。