

7

ふえたり へったり

練習帳

月 日

たいせつ

ふえたり へったり

ふえたのか へったのかを かんがえて、かずを もとめます。

のる、はいる、くる、もらう ⇨ ふえる

おりる、でる、かえる、あげる ⇨ へる


ふえたり へつたりを かんがえよう。

れいだい □に はいる かずを かきましょう。


1 3びき います。



(1) 1びき かえると、□ひき



(2) 2ひき くと、□ひき



? かんがえた

えを よく みて かんがえます。

(1) 3びきから 1びき へるので、□ ひき

こたえ _____

(2) □ ひきに 2ひき ふえるので、□ ひき

こたえ _____




たしかめよう

1 ふえたり へったり


□にはいる かずを かきましょう。
6ひき のって います。



□(1) 3ひき のると、
□ ひきに なります。




□(2) 4ひき おりると、
□ ひきに なります。



□(3) 2ひき おりると、
□ ひきに なります。



□(4) 5ひき のると、
□ ひきに なります。



8

あわせて いくつ

算
じゆん
りょう

月 日

たいせつ

あわせて いくつ

5と 3を あわせると 8に なります。この ことを

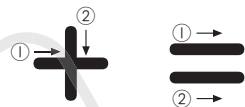
$$5 + 3 = 8$$

ご たす さん は はち

と かきます。

「あわせて いくつ」は たしざんの しきを かいて もとめます。


きごうの かきかた




あわせて いくつに なるか かんがえよう。

れいだい

1



3こ

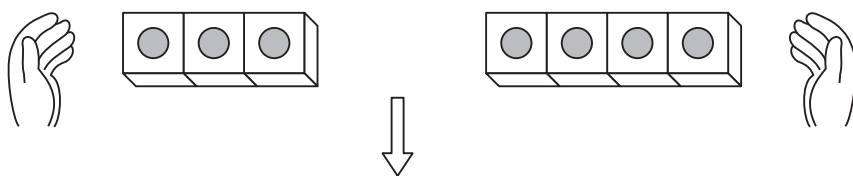


4こ

あわせて なんこですか。

かんがえかた

「あわせて いくつ」は たしざんの しきを かいて もとめます。



しき

$$\square + \square = \square$$



3と 4を あわせた かずを もとめる。

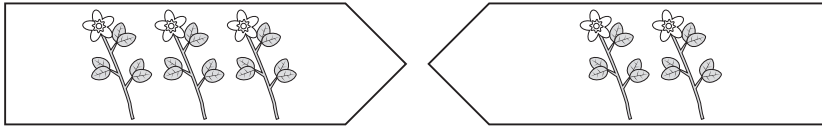
こたえ



たしかめよう

1 あわせて いくつの たしざん

□(1)




3ほん

2ほん


あわせて なんほんですか。

しき _____ + _____ = _____ こたえ _____

□(2)



2さつ




5さつ


ぜんぶで なんさつですか。

しき _____ + _____ = _____ こたえ _____

□(3)



4こ




2こ

ぜんぶで なんこ ありますか。

しき _____ こたえ _____

□(4)



5にん



4にん

みんなで なんにんですか。

しき _____ こたえ _____

9

ふえると いくつ

算
じ
ゆ
ん

月 日

たいせつ

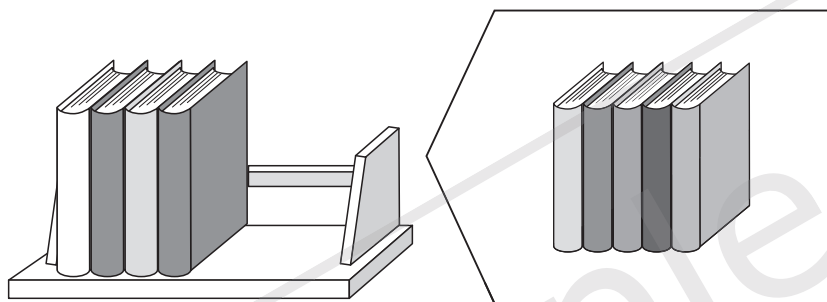
ふえると いくつ

「ふえると いくつ」も たしざんの しきを かいて もとめます。

ふえると いくつに なるか かんがえよう。

れいだい

1



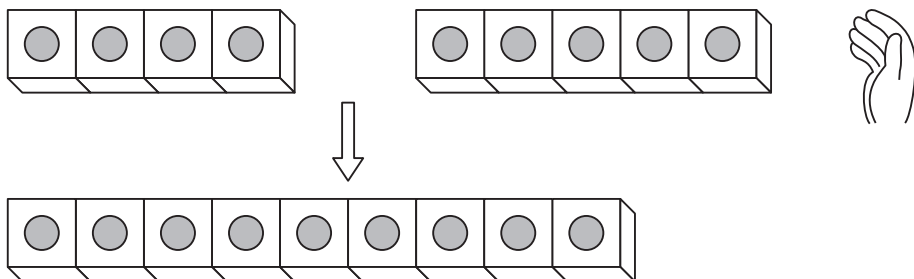
4さつ

5さつ いれると、なんさつに なりますか。

? かんがえかた

5さつ いれると、ほんの かずは ふえます。

「ふえると いくつ」も たしざんの しきを かいて もとめます。



しき + =

こたえ

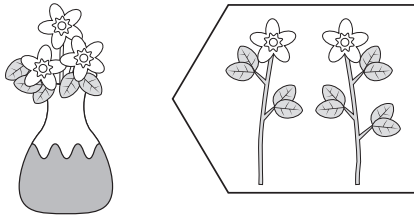


たしかめよう

1 ふえると いくつの たしざん

(1) つぎの もんだいに こたえましょう。

①



3ぼん

2ぼん いれると、
なんぼんに なりますか。

しき _____ = _____ こたえ _____

②




6にん

3にん くと、
なんにんに なりますか。

しき _____ こたえ _____

③



4わ

1わ やって くと、
なんわに なりますか。

しき _____ こたえ _____

(2) たしざんを しましょう。

① $2 + 4$

② $5 + 1$

③ $3 + 6$

④ $8 + 2$

10

たしざんの もんだい

算
じゆん
りょう

月 日

たいせつ


「あわせて いくつ」、「ふえると いくつ」は たしざんを つかった
ことを おもいだしましょう。
もんだいを よんで、ばめんを しっかり よみとります。

たしざんの もんだいを しよう。


れいだい

1

(1) しろい いぬが 4ひき います。
くろい いぬが 2ひき います。
いぬは ぜんぶで なんびき
いますか。



(2) はとが 2わ います。
3わ やって くと、
ぜんぶで なんわに なりますか。



? かんがえかた

(1) 「あわせて いくつ」の もんだいです。

しき =

こたえ

(2) 「ふえると いくつ」の もんだいです。

しき =


こたえ



たしかめよう


1 たしざんの もんだい

- (1) 1ねんせいが 4にん います。
 2ねんせいが 5にん います。
 みんなで なんにん いますか。



しき _____ = _____ こたえ _____

- (2) いぬが 3びき います。
 そこへ 3びき やって くと、
 ぜんぶで なんびきに なりますか。



しき _____ = _____ こたえ _____

- (3) しろい はなが 6ほん さいて います。
 きいろい はなが 2ほん さいて います。
 はなは ぜんぶで なんほん さいて いますか。


しき _____ = _____ こたえ _____

- (4) はとが 7わ います。
 あとから 2わ やって くと、ぜんぶで なんわに
 なりますか。

しき _____ = _____ こたえ _____


1 □にはいる かずを かきましょう。(1つ10てん) 7れいだい1

7わ います。





□(1) 1わ とんで いくと、

□ わに なります。





□(2) 2わ とんで くと、

□ わに なります。





□(3) 3わ とんで いくと、

□ わに なります。



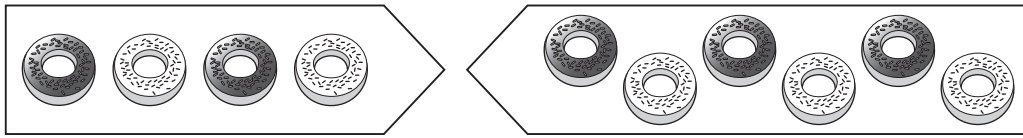
□(4) 4わ とんで くと、

□ わに なります。



□2 あわせて なんこですか。

(15てん) 8 れいだい1

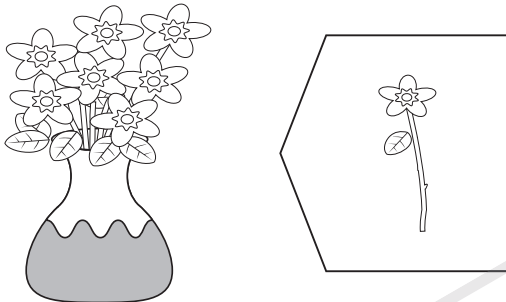


4こ

6こ

しき _____ こたえ _____


□3 1ぽん いれると、なんぽんに なりますか。 (15てん) 9 れいだい1



7ほん

しき _____ こたえ _____

□4 すずめが 5わ きの えだに
とまって います。
あとから 2わ とんで
きました。



ぜんぶで なんわに なりましたか。

(15てん) 10 れいだい1

しき _____ こたえ _____

□5 こたえが 10の かあどは どれですか。

(15てん) 8 れいだい1、9 れいだい1

あ $2+7$

い $6+4$

う $3+5$