


3

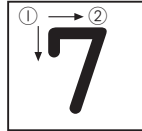

10までの かず

たいせつ



10までの かずと すうじ




ろく




しち



はち



く



じゅう

10までの かずを すうじで かこう

れいだい

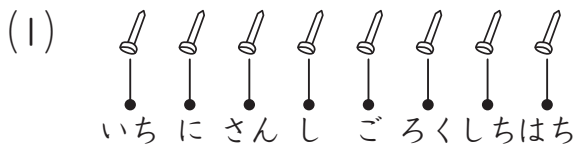
1

かずを すうじで かきましょう。

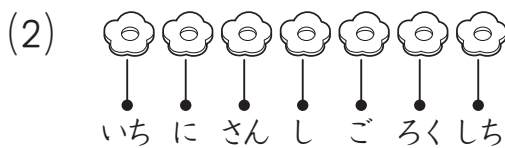


? かんがえかた

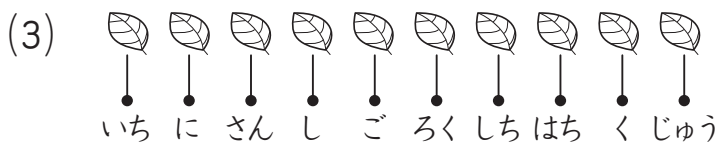
こえに だして かぞえましょう。



こたえ _____



こたえ _____



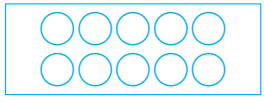
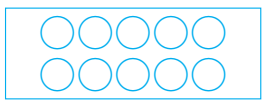
こたえ _____




たしかめよう

1 10までの かず


(1) えの かずだけ ○を ぬりましょう。



(2) かずを すうじで かきましよう。



(3) かずの おなじ ものを、せんで つなぎましよう。



• • はち • •



• • じゅう • •



• • ろく • •



• • しち • •

4

6、7は
いくつと いくつ

まじゅう

月 日

たいせつ

6、7は いくつと いくつ

① 6は

| | | | |
|------|------|------|------|
| | | | |
| 1と 5 | 2と 4 | 3と 3 | 4と 2 |

5と 1

② 7は

| | | |
|------|------|------|
| | | |
| 1と 6 | 2と 5 | 3と 4 |

4と 3

5と 2

6と 1

6、7は いくつと いくつかを かんがえよう

れいだい

1

あと いくつで 6に なりますか。

(1)

(2)

(3) 5

? かんがえかた

(1)

| | | | | | |
|---|---|---|---|---|---|
| 1 | 2 | 3 | 4 | 5 | 6 |
| | | | | | |

あと □こ

○を 6こ
かいて
かんがえましょう。

こたえ _____

(2)

| | | | | | |
|---|---|---|---|---|---|
| 1 | 2 | 3 | 4 | 5 | 6 |
| | | | | | |

あと □こ

こたえ _____

(3)

| | | | | | |
|---|---|---|---|---|---|
| 1 | 2 | 3 | 4 | 5 | 6 |
| | | | | | |

あと □こ

こたえ _____



たしかめよう

1 6、7は いくつと いくつ

(1) が 7こ あります。かくした の かずを
こたえましょう。

① _____

② _____

③ _____

(2) せんで つないで 6を つくりましょう。

| | | | |
|--|--|--|--|
| | | | |
| | | | |

(3) あと いくつで 7に なりますか。

① ② ③ ④

(4) 6は いくつと いくつですか。

① と ② と ③ と

5

8、9、10は
いくつと いくつ

まじゅう

月 日

たいせつ

8、9、10は いくつと いくつ

① 8は

| | | | | | |
|---|---|---|---|---|---|
| 1 | と | 7 | 6 | と | 2 |
| 2 | と | 6 | 7 | と | 1 |
| 3 | と | 5 | | | |
| 4 | と | 4 | | | |
| 5 | と | 3 | | | |

② 9は

| | | | | | |
|---|---|---|---|---|---|
| 1 | と | 8 | 6 | と | 3 |
| 2 | と | 7 | 7 | と | 2 |
| 3 | と | 6 | 8 | と | 1 |
| 4 | と | 5 | | | |
| 5 | と | 4 | | | |

③ 10は

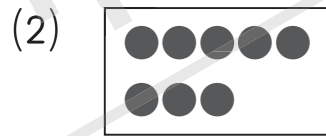

| | | | | | |
|---|---|---|---|---|---|
| 1 | と | 9 | 6 | と | 4 |
| 2 | と | 8 | 7 | と | 3 |
| 3 | と | 7 | 8 | と | 2 |
| 4 | と | 6 | 9 | と | 1 |
| 5 | と | 5 | | | |

8、9、10は いくつと いくつかを かんがえよう

れいだい

1

あと いくつで 10に なりますか。



? かんがえかた



あと □こ

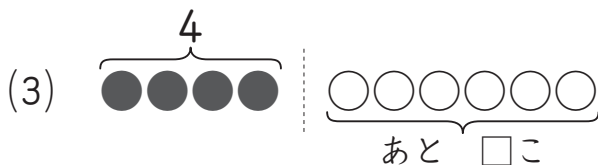
こたえ

○を 10こ
かいて
かんがえましょう。



あと □こ

こたえ



あと □こ

こたえ



たしかめよう

1 8、9、10は いくつと いくつ

(1) が 10こ あります。かくした の かずを
こたえましょう。

① _____

② _____

③ _____

(2) せんで つないで 8を つくりましょう。

| | | | |
|---|---|---|---|
| | | | |
| • | • | • | • |
| | | | |
| • | • | • | • |

(3) あと いくつで 9に なりますか。

① ② ③ ④

(4) 10は いくつと いくつですか。





① と ② と ③ と

ま と め の も ん だ い 2




学しゅう日

月 日 /100てん

1 かずを すうじて かきましょう。(1つ5てん) 3 れいだい1



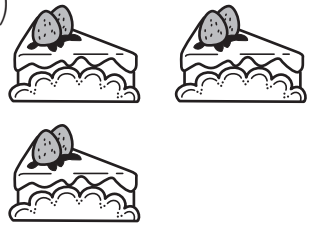
- (1)  _____
- (2)  _____
- (3)  _____
- (4)  _____

2 6は いくつと いくつですか。(1つ4てん) 4 れいだい1

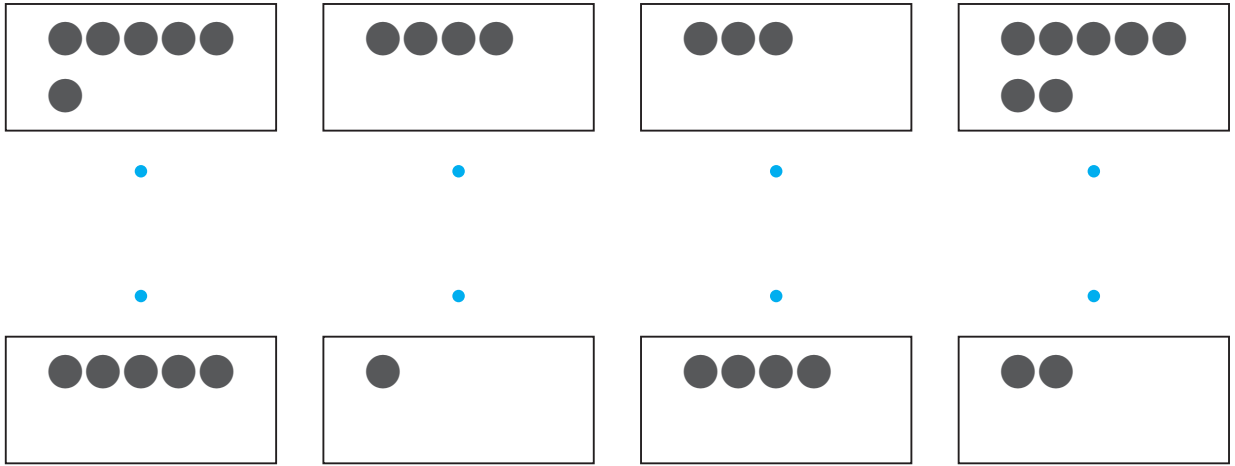
- (1)  (2)  (3) 

4 と 3 と 1 と

3 あと いくつで 9に なりますか。(1つ4てん) 5 れいだい1

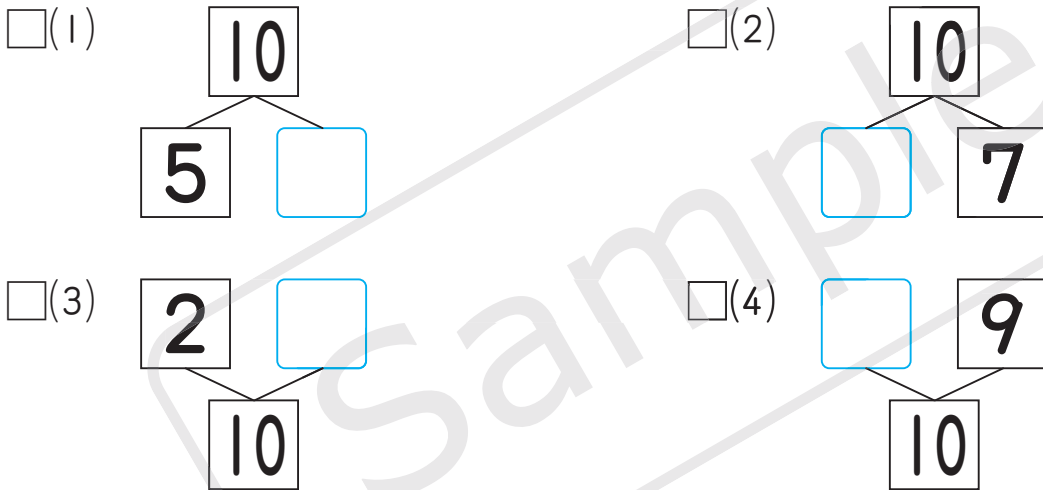
- (1)  _____
- (2)  _____
- (3)  _____

□4 せんで つないで 8を つくりましょう。(1つ4てん) 5れいだい1



5 10を つくります。□に すうじを かきましょう。

(1つ5てん) 5れいだい1



6 □は どんな かずですか。(1つ5てん) 4れいだい1、5れいだい1

- (1) と で □
- (2) と で □
- (3) と で □
- (4) と で □